

រៀបរៀងដោយ **លីម ផល្គុន**

បណ្ឌិតប្រចាំផ្នែកគណិតវិទ្យា

ព្រឹប័ទ្ធវិច និង អាំងតេក្រាល

សម្រាប់ថ្នាក់ទី

១២

$$\int f(x).dx = F(x) + C$$

កញ្ញា សិទ្ធិ

ព្រឹត្តិបត្រ និង អំណាចគេហទំព័រ

សម្រាប់ប្រាក់

១២

$$\int f(x).dx = F(x) + C$$

ក្រុមហ៊ុន ដោយ លីមីត ផលិត

Tel: 017 768 246

www.mathtoday.wordpress.com

គណៈកម្មការពិនិត្យ និង រៀបរៀង

លីម ឆន្ទុន និង សែន ពិសិដ្ឋ

គណៈកម្មការត្រួតពិនិត្យបច្ចេកទេស

លោក យ៉ង់ ធារី

លោក លីម ឆុន

លោក អ៊ុន សំណាង

គណៈកម្មការត្រួតពិនិត្យអក្ខរាវិរុទ្ឋ

លោក លីម មិត្តសិរ

ការិយកម្មាធិការ

លោក អ៊ុន សំណាង

អរម្ភកថា

សួស្តីមិត្តអ្នកសិក្សាជាទីស្រឡាញ់រាប់អាន !

សៀវភៅ ព្រឹមីឌីវ និង អាំងតេក្រាលដែលលោកអ្នកកំពុងតែកាន់អាននេះ ខ្ញុំបាទបានរៀបចំឡើងសម្រាប់ទុកជាឯកសារសម្រាប់អ្នកសិក្សាដែលមាន បំណងត្រៀមប្រឡងយកអាហារូបករណ៍ទៅសិក្សានៅបរទេស និង សម្រាប់ ត្រៀមប្រឡងអាហារូបករណ៍ចូលគ្រឹះស្ថានឧត្តមសិក្សានានាក្នុងប្រទេស។ យើងខ្ញុំបានជ្រើសរើសលំហាត់ពិសេសៗមកធ្វើដំណោះស្រាយ យ៉ាងពិស្តារ ព្រមទាំងមានលំហាត់អនុវត្តសម្រាប់អ្នកសិក្សាហ្វឹកហាត់ដោះស្រាយដោយ ខ្លួនឯង។

យើងខ្ញុំសង្ឃឹមថា សៀវភៅមួយក្បាលនេះ នឹងអាចចូលរួមផ្តល់នូវ គំនិត និង វិធីសាស្ត្រថ្មីៗក្នុងការដោះស្រាយលំហាត់គណិតវិទ្យាកំរិត អាហារូបករណ៍ ចំពោះលោកអ្នកសិក្សាជាពុំខានឡើយ ។

ជាទីបញ្ចប់ខ្ញុំបាទសូមជូនពរចំពោះលោកអ្នក សូមមានសុខភាពល្អ មានប្រាជ្ញាឈ្លាសវៃ និង ទទួលបានជោគជ័យក្នុងគ្រប់ភារកិច្ច ។

បាត់ដំបង ថ្ងៃទី១៨ សីហា ឆ្នាំ២០១២
អ្នកនិពន្ធ និង ស្រាវជ្រាវ

លីម ផល្គុន

Tel :017 768 246
Email: lim_phalkun@ymail.com
Website: www.mathtoday.wordpress.com

ជំពូកទី១

ព្រីមីទីវ និង អាំងតេក្រាលមិនកំណត់

១-ព្រីមីទីវ

ក/និយមន័យ

$F(x)$ ជាព្រីមីទីវនៃ $f(x)$ កាលណា $F'(x) = f(x)$ ចំពោះគ្រប់តម្លៃ x

ក្នុងដែនកំណត់នៃអនុគមន៍ f ។

ឧទាហរណ៍ គេមាន $F(x) = x(\ln^2 x - 2\ln x + 2)$ និង $f(x) = \ln^2 x$

កំណត់លើចន្លោះ $(0, +\infty)$ ។

ចូរបង្ហាញថា $F(x)$ ជាព្រីមីទីវនៃ $f(x)$ ។

ដំណោះស្រាយ

គេមាន $F'(x) = (x)'(\ln^2 x - 2\ln x + 2) + x(\ln^2 x - 2\ln x + 2)'$

$$= (\ln^2 x - 2\ln x + 2) + x\left(\frac{2}{x}\ln x - \frac{2}{x}\right)$$

$$= \ln^2 x - 2\ln x + 2 + 2\ln x - 2$$

$$= \ln^2 x$$

ដោយ $F'(x) = f(x)$ នោះ $F(x)$ ជាព្រីមីទីវនៃ $f(x)$ ។

ខ/ទ្រឹស្តីបទ ៖

បើ $F(x)$ ជាព្រឹត្តិបត្រមួយនៃ f នោះព្រឹត្តិបត្រទាំងអស់នៃ f មានទម្រង់
ទូទៅ $F(x)+C$ ដែល C ជាចំនួនពិតថេរ ។

សម្រាយបញ្ជាក់

គេមាន $(F(x)+C)' = F'(x) = f(x)$ ព្រោះ $F(x)$ ជាព្រឹត្តិបត្រនៃ $f(x)$ ។

សម្រាយនេះមានន័យថាព្រឹត្តិបត្រទាំងអស់នៃ f មានទម្រង់ទូទៅ $F(x)+C$
ដែល C ជាចំនួនពិតថេរ ។

២-អង្គការមិនកំណត់

ក/និយមន័យ

បើ $F(x)$ ជាព្រឹត្តិបត្រមួយនៃ $f(x)$ នោះអង្គការមិនកំណត់នៃ $f(x)$

កំណត់ដោយ $\int f(x).dx = F(x)+C$ ដែល C ជាចំនួនពិតថេរ ។

ខ/លក្ខណៈ

$$1/ \int \lambda f(x).dx = \lambda \int f(x).dx$$

$$2/ \int [f(x) + g(x) - h(x)].dx = \int f(x).dx + \int g(x).dx - \int h(x).dx$$

គ/រូបមន្តគ្រឹះនៃអាំងតេក្រាលមិនកំណត់ ៖

$$1/ \int \lambda .dx = \lambda x + c$$

$$11/ \int \frac{dx}{\cos^2 x} = \tan x + c$$

$$2/ \int x^\alpha .dx = \frac{1}{\alpha+1} x^{\alpha+1} + c$$

$$12/ \int \tan x .dx = -\ln |\cos x| + c$$

$$3/ \int \frac{1}{x} .dx = \ln |x| + c$$

$$13/ \int \cot x .dx = \ln |\sin x| + c$$

$$4/ \int \frac{dx}{\sqrt{x}} = 2\sqrt{x} + c$$

$$14/ \int \frac{dx}{x^2 - a^2} = \frac{1}{2a} \ln \left| \frac{x-a}{x+a} \right| + c$$

$$5/ \int \frac{1}{x^2} .dx = -\frac{1}{x} + c$$

$$15/ \int \frac{dx}{x^2 + a^2} = \frac{1}{a} \arctan \frac{x}{a} + c$$

$$6/ \int e^x .dx = e^x + c$$

$$16/ \int \frac{dx}{\sqrt{x^2 + a^2}} = \ln |x + \sqrt{x^2 + a^2}| + c$$

$$7/ \int a^x .dx = \frac{a^x}{\ln a} + c$$

$$17/ \int \frac{dx}{\sqrt{x^2 - a^2}} = \ln |x + \sqrt{x^2 - a^2}| + c$$

$$8/ \int \sin x .dx = -\cos x + c$$

$$18/ \int \frac{dx}{\sqrt{a^2 - x^2}} = \arcsin \frac{x}{a} + c$$

$$9/ \int \cos x .dx = \sin x + c$$

$$19/ \int \sinh x .dx = \cosh x + c$$

$$10/ \int \frac{dx}{\sin^2 x} = -\cot x + c$$

$$20/ \int \cosh x .dx = \sinh x + c$$

យ/រូបមន្តប្តូរអថេរ

ឧបមាថា គេមានអាំងតេក្រាល $I = \int f[g(x)].g'(x).dx$

តាង $u = g(x)$ នោះ $du = g'(x).dx$

គេបាន $I = \int f(u).du = F(u) + c$ ដែល $F(u)$ ជាព្រឹត្តិបត្រនៃ $f(u)$

ជំនួស $u = g(x)$ គេបានចម្លើយ $I = F[g(x)] + C$ ។

ឧទាហរណ៍១ គណនាអាំងតេក្រាល $I = \int \frac{2x+3}{x^2+3x-4}.dx$

តាង $u = x^2 + 3x - 4$ នោះ $du = (2x+3).dx$

គេបាន $I = \int \frac{du}{u} = \ln|u| + c$ ដោយ $u = x^2 + 3x - 4$

ដូចនេះ $I = \ln|x^2 + 3x - 4| + c$ ។

ឧទាហរណ៍២ គណនាអាំងតេក្រាល $I = \int (e^x + 2)^3 e^x .dx$

តាង $u = e^x + 2$ នោះ $du = e^x .dx$

គេបាន $I = \int u^3 .du = \frac{1}{4}u^4 + c$ ដោយ $u = e^x + 2$

ដូចនេះ $I = \frac{1}{4}(e^x + 2)^4 + c$ ។

ង/អាំងតេក្រាលដោយផ្នែក

គេមាន $d(uv) = u dv + v du$

គេទាញ $uv = \int u dv + \int v du$

ដូចនេះ $\int u dv = uv - \int v du$ ។

ជាទូទៅគេបានរូបមន្ត ៖

$$\int f(x)g'(x)dx = f(x)g(x) - \int g(x)f'(x).dx$$

ដែល f និង g ជាអនុគមន៍ពីរមានដេរីវេរៀងគ្នា f' និង g' ។

ឧទាហរណ៍ គណនាអាំងតេក្រាល $I = \int x^3 \ln x . dx$

តាំង $\begin{cases} u = \ln x \\ dv = x^3 . dx \end{cases}$ នោះ $\begin{cases} du = \frac{1}{x} . dx \\ v = \frac{1}{4} x^4 \end{cases}$

គេបាន $I = \frac{1}{4} x^4 \ln x - \frac{1}{4} \int x^3 dx = \frac{1}{4} x^4 \ln x - \frac{1}{16} x^4 + c$

ដូចនេះ $I = \frac{1}{4} x^4 (\ln x - \frac{1}{4}) + c$ ។

៣-វិធីសាស្ត្រគណនាអាំងតេក្រាល

1-វិធីសាស្ត្រគណនាអាំងតេក្រាលទម្រង់ $I = \int \frac{dx}{ax^2 + bx + c}$

យើងមាន $\forall a \neq 0 : ax^2 + bx + c = a \left[\left(x + \frac{b}{2a}\right)^2 + \frac{4ac - b^2}{4a^2} \right]$

តាង $x + \frac{b}{2a} = t$ នាំឱ្យ $dx = dt$

ហើយយក $r = \frac{4ac - b^2}{4a^2}$

គេបាន $I = \int \frac{dx}{ax^2 + bx + c} = \frac{1}{a} \int \frac{dt}{t^2 + r}$

-បើ $\Delta = b^2 - 4ac > 0$ នោះ $r = \frac{4ac - b^2}{4a^2} < 0$

គេបាន ៖

$$I = \frac{1}{a} \int \frac{dt}{t^2 + r} = \frac{1}{2a\sqrt{-r}} \cdot \ln \left| \frac{t - \sqrt{-r}}{t + \sqrt{-r}} \right| + c$$

-បើ $\Delta = b^2 - 4ac < 0$ នោះ $r = \frac{4ac - b^2}{4a^2} > 0$

គេបាន ៖

$$I = \frac{1}{a} \int \frac{dt}{t^2 + r} = \frac{1}{a\sqrt{r}} \arctan \left(\frac{t}{\sqrt{r}} \right) + c$$

ឧទាហរណ៍១. គណនាអាំងតេក្រាល $I = \int \frac{dx}{4x^2 + 12x + 25}$

គេមាន $4x^2 + 12x + 25 = 4 \left[\left(x + \frac{3}{2}\right)^2 + 4 \right]$

តាំង $t = x + \frac{3}{2}$ នាំឱ្យ $dt = dx$

គេបាន $I = \frac{1}{4} \int \frac{dx}{t^2 + 4} = \frac{1}{8} \arctan\left(\frac{t}{2}\right) + c = \frac{1}{8} \arctan\left(\frac{x}{2} + \frac{3}{4}\right) + c$ ។

ឧទាហរណ៍២. គណនាអាំងតេក្រាល $I = \int \frac{dx}{4x^2 - 8x - 5}$

គេមាន $4x^2 - 8x - 5 = 4 \left[(x-1)^2 - \frac{9}{4} \right]$

តាំង $t = x - 1$ នាំឱ្យ $dt = dx$

គេបាន $I = \frac{1}{4} \int \frac{dt}{t^2 - \frac{9}{4}} = \frac{1}{12} \ln \left| \frac{t - \frac{3}{2}}{t + \frac{3}{2}} \right| + c = \frac{1}{12} \ln \left| \frac{2t - 3}{2t + 3} \right| + c$

ដោយ $t = x - 1$

ដូចនេះ $I = \frac{1}{12} \ln \left| \frac{2x - 5}{2x + 1} \right| + c$ ។

លំហាត់អនុវត្ត

ចូរគណនាអាំងតេក្រាលខាងក្រោម ៖

$$១. I = \int \frac{dx}{x^2 + 2x + 3}$$

$$២. I = \int \frac{dx}{x^2 - 4x + 7}$$

$$៣. I = \int \frac{dx}{x^2 - 5x + 6}$$

$$៤. I = \int \frac{dx}{x^2 - 5x - 6}$$

$$៥. I = \int \frac{dx}{4x^2 - 4x + 8}$$

$$៦. I = \int \frac{dx}{9x^2 - 6x - 3}$$

$$៧. I = \int \frac{dx}{4x^2 + 8x - 12}$$

$$៨. I = \int \frac{dx}{9x^2 + 42x - 147}$$

$$៩. I = \int \frac{dx}{2x^2 + 8x + 14}$$

$$១០. I = \int \frac{4dx}{-3x^2 + 15x - 12}$$

$$១១. I = \int \frac{3dx}{4x^2 - 8x + 8}$$

$$១២. I = \int \frac{7dx}{x^2 - 4x + 5}$$

$$១៣. I = \int \frac{2x \cdot dx}{x^4 - 5x^2 + 4}$$

$$១៤. I = \int \frac{4x \cdot dx}{x^4 + 8x^2 + 9}$$

$$១៥. I = \int \frac{\cos x \cdot dx}{2\sin^2 x - 2\sin x + 1}$$

$$១៦. I = \int \frac{\sin x \cdot dx}{2\cos^2 x - 6\cos x + 5}$$

$$១៧. I = \int \frac{3x^2 dx}{x^6 + 3x^3 - 4}$$

$$១៨. I = \int \frac{e^x \cdot dx}{e^{2x} - 2e^x - 8}$$

2. វិធីសាស្ត្រគណនាអាំងតេក្រាលទម្រង់

$$I = \int \frac{Ax + B}{ax^2 + bx + c} \cdot dx$$

គេត្រូវបំបែកអាំងតេក្រាលនេះឲ្យទៅជាទម្រង់ ៖

$$I = \frac{A}{2a} \int \frac{2ax + b}{ax^2 + bx + c} \cdot dx - \left(B - A \frac{b}{2a}\right) \int \frac{dx}{ax^2 + bx + c}$$

$$I = \frac{A}{2a} \ln |ax^2 + bx + c| - \left(B - A \frac{b}{2a}\right) \int \frac{dx}{ax^2 + bx + c}$$

ជាអាំងតេក្រាលអាចគណនាបាន ។

ឧទាហរណ៍១. គណនាអាំងតេក្រាល $I = \int \frac{2x-7}{x^2-3x+2} \cdot dx$

$$\begin{aligned} \text{យើងបាន } I &= \int \frac{(2x-4)-3}{x^2-4x-5} \cdot dx \\ &= \int \frac{2x-4}{x^2-4x-5} \cdot dx - 3 \int \frac{dx}{x^2-4x-5} \\ &= \int \frac{(x^2-4x-5)'}{x^2-4x-5} \cdot dx - 3 \int \frac{dx}{(x-2)^2-9} \\ &= \ln |x^2-4x-5| - 3 \int \frac{dx}{(x-2)^2-3^2} \end{aligned}$$

តាង $t = x - 2$ នាំឲ្យ $dt = dx$

$$I = \ln |x^2-4x-5| - 3 \int \frac{dt}{t^2-3^2}$$

$$I = \ln |x^2-4x-5| - \frac{1}{2} \ln \left| \frac{t-3}{t+3} \right| + c$$

ដោយ $t = x - 2$

ដូចនេះ $I = \ln |x^2-4x-5| - \frac{3}{4} \ln \left| \frac{x-5}{x+1} \right| + c$ ។

ឧទាហរណ៍២. គណនាអាំងតេក្រាល $I = \int \frac{2x+6}{x^2-6x+13} \cdot dx$

យើងបាន $I = \int \frac{(2x-6)+12}{x^2-6x+13} \cdot dx$

$$I = \int \frac{2x-6}{x^2-6x+13} \cdot dx + 12 \int \frac{dx}{x^2-6x+13}$$

$$= \int \frac{(x^2-6x+13)'}{x^2-6x+13} \cdot dx + 12 \int \frac{dx}{(x-3)^2+4}$$

$$= \ln|x^2-6x+13| + 12 \int \frac{dx}{(x-3)^2+2^2}$$

តាង $t = x-3$ នាំឱ្យ $dt = dx$

$$I = \ln|x^2-6x+13| + 12 \int \frac{dt}{t^2+2^2}$$

$$I = \ln|x^2-6x+13| + 6 \arctan\left(\frac{t}{2}\right) + c$$

ដូចនេះ $I = \ln|x^2-6x+13| + 6 \arctan\left(\frac{x-3}{2}\right) + c$ ។

លំហាត់អនុវត្ត

ចូរគណនាអាំងតេក្រាលខាងក្រោម ៖

១. $I = \int \frac{2x-2}{x^2+2x+3} \cdot dx$

១០. $I = \int \frac{6x dx}{-3x^2+15x-12}$

២. $I = \int \frac{x \cdot dx}{x^2-4x+7}$

១១. $I = \int \frac{8x+1}{4x^2-8x+8} \cdot dx$

៣. $I = \int \frac{dx}{x^2-5x+6}$

១២. $I = \int \frac{2x+3}{x^2-4x+5} \cdot dx$

៤. $I = \int \frac{2x-3}{x^2-5x-6} \cdot dx$

១៣. $I = \int \frac{2x^3}{x^4-5x^2+4} \cdot dx$

៥. $I = \int \frac{x+2}{4x^2-4x+8} \cdot dx$

១៤. $I = \int \frac{4x^3+x^2}{x^4+8x^2+9} \cdot dx$

$$៦. I = \int \frac{18x \, dx}{9x^2 - 6x - 3}$$

$$៧. I = \int \frac{8x - 7}{4x^2 + 8x - 12} \cdot dx$$

$$៨. I = \int \frac{36x}{9x^2 + 42x - 147} \cdot dx$$

$$៩. I = \int \frac{4x - 3}{2x^2 + 8x + 14} \cdot dx$$

$$១៥. I = \int \frac{\sin 2x + \cos x \cdot dx}{2\sin^2 x - 2\sin x + 1}$$

$$១៦. I = \int \frac{\sin 2x \cdot dx}{2\cos^2 x - 6\cos x + 5}$$

$$១៧. I = \int \frac{3x^5 \, dx}{x^6 + 3x^3 - 4}$$

$$១៨. I = \int \frac{4e^{2x} \cdot dx}{e^{2x} - 2e^x - 8}$$

3. វិធីសាស្ត្រគណនាអាំងតេក្រាលទម្រង់

$$I = \int \frac{P_n(x)}{(ax + b)^m} \cdot dx, \quad a \neq 0, \quad a, b, \in \mathbb{R}$$

$$P_n(x) = c_n x^n + c_{n-1} x^{n-1} + \dots + c_1 x + c_0$$

ដើម្បីគណនាអាំងតេក្រាលនេះគេត្រូវតាង ៖

$$ax + b = t \quad \text{នាំឱ្យ} \quad x = \frac{t}{a} - \frac{b}{a} \quad \text{និង} \quad dx = \frac{1}{a} \cdot dt$$

$$\text{គេបាន} \quad I = \frac{1}{a} \int \frac{P\left(\frac{t}{a} - \frac{b}{a}\right)}{t^m} \cdot dt \quad (\text{ជាអាំងតេក្រាលអាថគណនាបាន}) \quad ។$$

$$\text{ឧទាហរណ៍១. គណនាអាំងតេក្រាល} \quad I = \int \frac{x^3 - 3x}{(x-1)^5} \cdot dx$$

$$\text{តាង} \quad x-1 = t \quad \text{នាំឱ្យ} \quad x = t+1 \quad \text{និង} \quad dx = dt$$

$$\text{គេបាន} \quad I = \int \frac{(t+1)^3 - 3(t+1)}{t^5} \cdot dt$$

$$= \int \frac{t^3 + 3t^2 + 3t + 1 - 3t - 3}{t^5} .dt$$

$$= \int \frac{t^3 + 3t^2 - 2}{t^5} .dt$$

$$= \int \frac{dt}{t^2} - 3 \int \frac{dt}{t^3} - 2 \int \frac{dt}{t^5}$$

$$= -\frac{1}{t} - \frac{3}{2t^2} + \frac{1}{2t^4} + c$$

ដូចនេះ $I = -\frac{1}{x-1} - \frac{3}{2(x-1)^2} + \frac{1}{2(x-1)^4} + c$ ។

ឧទាហរណ៍២. គណនាអាំងតេក្រាល $I = \int \frac{x^2 - x + 1}{\sqrt[3]{(x+1)^2}} .dx$

តាង $x+1=t$ នាំឱ្យ $x=t-1$ និង $dx=dt$

គេបាន $I = \int \frac{(t-1)^2 - (t-1) + 1}{\sqrt[3]{t^2}} .dt$

$$I = \int \frac{t^2 - 3t + 3}{\sqrt[3]{t^2}} .dt$$

$$= \int t^{\frac{4}{3}} .dt - 3 \int t^{\frac{1}{3}} .dt + 3 \int t^{-\frac{2}{3}} .dt$$

$$= \frac{3}{7} t^{\frac{7}{3}} \sqrt[3]{t} - \frac{9}{4} t \sqrt[3]{t} + 9 \sqrt[3]{t} + c$$

ដូចនេះ $I = \frac{3}{7}(x+1)^2 \sqrt[3]{x+1} - \frac{9}{4}(x+1) \sqrt[3]{x+1} + 9 \sqrt[3]{x+1} + c$ ។

លំហាត់អនុវត្ត

ចូរគណនាអាំងតេក្រាលខាងក្រោម ៖

$$១. I = \int \frac{x^3 - 3x + 2}{(x+1)^3} .dx$$

$$២. I = \int \frac{2x^2 - 7x + 1}{(2x-1)^3} .dx$$

$$៣. I = \int \frac{2x^3 - 3x^2 + 1}{(x+5)^4} .dx$$

$$៤. I = \int \frac{x^3 - 6x^2 + 9x - 4}{(2x-3)^2} .dx$$

$$៥. I = \int \frac{4x^2 - 12x - 27}{(1-x)^5} .dx$$

$$៦. I = \int \frac{x^2 - 10x - 24}{(2x+3)^7} .dx$$

$$៧. I = \int \frac{x^4 - 4x^2 + 1}{(x+1)^3} .dx$$

$$៨. I = \int \frac{x^4 - 6x^3 + 4x^2 - 7}{(x-1)^4} .dx$$

$$៩. I = \int \frac{x^2 - x + 1}{(2x-1)^6} .dx$$

$$១០. I = \int \frac{2x^3 - 7x^2 + 3x}{x^3 - 3x^2 + 3x - 1} .dx$$

$$១១. I = \int \frac{7x^3 - 3x^2}{x^3 + 3x^2 + 3x + 1} .dx$$

$$១២. I = \int \frac{2x+3}{x^3 + 6x^2 + 12x + 8} .dx$$

$$១៣. I = \int \frac{2x^3 - 3x + 4}{\sqrt[3]{(x-3)^2}} .dx$$

$$១៤. I = \int \frac{x^4 - 2x^3 + 1}{\sqrt[4]{(x-2)^3}} .dx$$

$$១៥. I = \int \frac{x^2 - 3x + 3}{\sqrt[4]{2x-3}} .dx$$

$$១៦. I = \int \frac{x^2 + x + 1}{\sqrt[4]{(2x+1)^5}} .dx$$

$$១៧. I = \int \frac{x^3 + 4x^2 + 6x + 1}{\sqrt[3]{x^2 - 6x + 9}} .dx$$

$$១៨. I = \int \frac{(x^3 - 8)(x^2 + x + 1)}{\sqrt[4]{(x-1)^3}} .dx$$

4. វិធីសាស្ត្រគណនាអាំងតេក្រាលទម្រង់ $I = \int \frac{dx}{\sqrt{ax^2 + bx + c}}$

ចំពោះ $\forall a \neq 0$ គេមាន $ax^2 + bx + c = a \left[\left(x + \frac{b}{2a}\right)^2 + \frac{4ac - b^2}{4a^2} \right]$

យក $r = \frac{4ac - b^2}{4a^2}$ ហើយតាង $t = x + \frac{b}{2a}$ នាំឱ្យ $dt = dx$

គេបាន $I = \int \frac{dt}{\sqrt{a(t^2 + r)}} = \begin{cases} = \frac{1}{\sqrt{a}} \ln |t + \sqrt{t^2 + r}| + k & (a > 0) \\ = \frac{1}{\sqrt{-a}} \arcsin\left(\frac{t}{\sqrt{-r}}\right) + k & (a < 0) \end{cases}$

ឧទាហរណ៍១. គណនាអាំងតេក្រាល $I = \int \frac{dx}{\sqrt{x^2 - 4x + 3}}$

យើងបាន $I = \int \frac{dx}{\sqrt{(x-2)^2 - 1}}$ តាង $t = x - 2$ នាំឱ្យ $dt = dx$

$I = \int \frac{dt}{\sqrt{t^2 - 1}} = \ln |t + \sqrt{t^2 - 1}| + c$

ដូចនេះ $I = \ln |x - 2 + \sqrt{(x-2)^2 - 1}| + c$ ។

ឧទាហរណ៍២. គណនាអាំងតេក្រាល $I = \int \frac{dx}{\sqrt{-x^2 + 6x - 5}}$

យើងបាន $I = \int \frac{dx}{\sqrt{4 - (x-3)^2}}$ តាង $t = x - 3$ នាំឱ្យ $dt = dx$

$I = \int \frac{dt}{\sqrt{4 - t^2}} = \arcsin\left(\frac{t}{2}\right) + c$

ដូចនេះ $I = \arcsin\left(\frac{x-3}{2}\right) + c$ ។

លំហាត់អនុវត្ត

ចូរគណនាអាំងតេក្រាលខាងក្រោម ៖

$$១. I = \int \frac{dx}{\sqrt{x^2 + 2x + 2}}$$

$$២. I = \int \frac{dx}{\sqrt{2x^2 - 2x + 1}}$$

$$៣. I = \int \frac{dx}{\sqrt{2x^2 + 6x + 5}}$$

$$៤. I = \int \frac{dx}{\sqrt{7 + 6x - x^2}}$$

$$៥. I = \int \frac{dx}{\sqrt{5 - 4x - x^2}}$$

$$៦. I = \int \frac{dx}{\sqrt{4x^2 + 12x - 27}}$$

$$៧. I = \int \frac{dx}{\sqrt{x^2 - 10x - 24}}$$

$$៨. I = \int \frac{dx}{\sqrt{9x^2 - 42x - 147}}$$

$$៩. I = \int \frac{dx}{\sqrt{1 - x - x^2}}$$

$$១០. I = \int \frac{dx}{\sqrt{-x^2 + 5x + 6}}$$

$$១១. I = \int \frac{dx}{\sqrt{2 - x - x^2}}$$

$$១២. I = \int \frac{xdx}{\sqrt{x^4 - x^2 + 1}}$$

$$១៣. I = \int \frac{dx}{\sqrt{x^2 - 3x - 4}}$$

$$១៤. I = \int \frac{dx}{\sqrt{2 + x - x^2}}$$

$$១៥. I = \int \frac{dx}{\sqrt{x^2 + 5x + 4}}$$

$$១៦. I = \int \frac{dx}{\sqrt{x^2 - 6x + 5}}$$

$$១៧. I = \int \frac{dx}{\sqrt{x^2 - 2x - 3}}$$

$$១៨. I = \int \frac{dx}{\sqrt{-x^2 - 3x + 4}}$$

5. វិធីសាស្ត្រគណនាអាំងតេក្រាល $I = \int \frac{Ax + B}{\sqrt{ax^2 + bx + c}}.dx$

ដើម្បីគណនាអាំងតេក្រាលនេះគេត្រូវបំប្លែងដូចខាងក្រោម ៖

$$I = \int \frac{Ax + B}{\sqrt{ax^2 + bx + c}}$$

$$I = \frac{A}{2a} \int \frac{2ax + b}{\sqrt{ax^2 + bx + c}}.dx + (B - A \frac{b}{2a}) \int \frac{dx}{\sqrt{ax^2 + bx + c}}$$

$$I = \frac{A}{a} \sqrt{ax^2 + bx + c} + (B - A \frac{b}{2a}) \int \frac{dx}{\sqrt{ax^2 + bx + c}}$$

(ជាអាំងតេក្រាលអាចគណនាបាន) ។

ឧទាហរណ៍១. គណនាអាំងតេក្រាល $I = \int \frac{3 - 2x}{\sqrt{3 + 2x - x^2}}.dx$

$$\begin{aligned} \text{យើងបាន } I &= \int \frac{3 - 2x}{\sqrt{3 + 2x - x^2}}.dx \\ &= \int \frac{(2 - 2x) + 1}{\sqrt{3 + 2x - x^2}} \\ &= \int \frac{2 - 2x}{\sqrt{3 + 2x - x^2}}.dx + \int \frac{dx}{\sqrt{3 + 2x - x^2}} \\ &= 2\sqrt{3 + 2x - x^2} + \int \frac{dx}{\sqrt{4 - (x - 1)^2}} \end{aligned}$$

តាំង $x - 1 = t$ នាំឱ្យ $x = t + 1$ និង $dx = dt$

$$I = 2\sqrt{3 + 2x - x^2} + \int \frac{dt}{\sqrt{4 - t^2}}$$

$$I = 2\sqrt{3 + 2x - x^2} + \arcsin\left(\frac{t}{2}\right) + c$$

$$\text{ដូចនេះ } I = 2\sqrt{3 + 2x - x^2} + \arcsin\left(\frac{x - 1}{2}\right) + C \quad \text{។}$$

ឧទាហរណ៍២. គណនាអាំងតេក្រាល $I = \int \frac{2x-7}{\sqrt{x^2-6x+10}}.dx$

យើងបាន $I = \int \frac{(2x-6)-1}{\sqrt{x^2-6x+10}}.dx$
 $= \int \frac{2x-6}{\sqrt{x^2-6x+10}}.dx - \int \frac{dx}{\sqrt{x^2-6x+10}}$
 $= \int \frac{(x^2-6x+10)'}{\sqrt{x^2-6x+10}}.dx - \int \frac{dx}{\sqrt{(x-3)^2+1}}$
 $= 2\sqrt{x^2-6x+10} - \int \frac{dx}{\sqrt{(x-3)^2+1}}$

តាំង $x-3=t$ នាំឱ្យ $x=t+3$ និង $dx=dt$

$$I = 2\sqrt{x^2-6x+10} - \int \frac{dt}{\sqrt{t^2+1}}$$

$$I = 2\sqrt{x^2-6x+10} - \ln|t + \sqrt{t^2+1}| + c$$

ដូច្នេះ $I = 2\sqrt{x^2-6x+10} - \ln|x-3 + \sqrt{(x-3)^2+1}| + C$ ។

លំហាត់អនុវត្ត

ចូរគណនាអាំងតេក្រាលខាងក្រោម ៖

$$១. I = \int \frac{4x dx}{\sqrt{x^2 + 2x + 2}}$$

$$២. I = \int \frac{(4x+1)dx}{\sqrt{2x^2 - 2x + 1}}$$

$$៣. I = \int \frac{8x dx}{\sqrt{2x^2 + 6x + 5}}$$

$$៤. I = \int \frac{(4x-1).dx}{\sqrt{7+6x-x^2}}$$

$$៥. I = \int \frac{(2x+1)dx}{\sqrt{5-4x-x^2}}$$

$$៦. I = \int \frac{4x dx}{\sqrt{4x^2 + 12x - 27}}$$

$$៧. I = \int \frac{(2x+5)dx}{\sqrt{x^2 - 10x - 24}}$$

$$៨. I = \int \frac{(3-2x)dx}{\sqrt{-x^2 + 5x + 6}}$$

$$៩. I = \int \frac{(1-2x).dx}{\sqrt{2-x-x^2}}$$

$$១០. I = \int \frac{x^3 dx}{\sqrt{x^4 - x^2 + 1}}$$

$$១១. I = \int \frac{(2x+3)dx}{\sqrt{x^2 - 3x - 4}}$$

$$១២. I = \int \frac{(x+2)dx}{\sqrt{2+x-x^2}}$$

$$១៣. I = \int \frac{(2x-5)dx}{\sqrt{x^2 + 5x + 4}}$$

$$១៤. I = \int \frac{12x dx}{\sqrt{x^2 - 6x + 5}}$$

6. វិធីសាស្ត្រគណនាអាំងតេក្រាលទម្រង់

$$I = \int \frac{dx}{(Ax+B)\sqrt{ax^2+bx+c}}$$

ដើម្បីគណនាអាំងតេក្រាលនេះគេត្រូវ ៖

តាង $Ax+B = \frac{1}{t}$ នាំឱ្យ $x = \frac{1}{A} \left(\frac{1}{t} - B \right)$ និង $dx = -\frac{1}{A} \cdot \frac{dt}{t^2}$

ឧទាហរណ៍១. គណនាអាំងតេក្រាល $I = \int \frac{dx}{(x+2)\sqrt{3x^2+14x+15}}$

តាង $x+2 = \frac{1}{t}$ នាំឱ្យ $x = \frac{1}{t} - 2$ និង $dx = -\frac{dt}{t^2}$

$$I = \int \frac{-\frac{dt}{t^2}}{\frac{1}{t} \sqrt{3\left(\frac{1}{t}-2\right)^2 + 14\left(\frac{1}{t}-2\right) + 15}}$$

$$I = -\int \frac{dt}{\sqrt{3+2t-t^2}} = -\int \frac{dt}{\sqrt{4-(1-t)^2}}$$

តាង $u = 1-t$ នាំឱ្យ $du = -dt$

$$I = \int \frac{du}{\sqrt{4-u^2}} = \arcsin\left(\frac{u}{2}\right) + c$$

ដូចនេះ $I = \arcsin\left(\frac{1-t}{2}\right) + c = \arcsin\left(\frac{x+1}{2x+4}\right) + C$ ។

ឧទាហរណ៍២. គណនាអាំងតេក្រាល $I = \int \frac{dx}{x\sqrt{2x^2-2x+1}}$

តាង $x = \frac{1}{t}$ នាំឱ្យ $du = -\frac{dt}{t^2}$

$$I = \int \frac{-\frac{dt}{t^2}}{\frac{1}{t} \sqrt{\frac{2}{t^2} - \frac{2}{t} + 1}} = -\int \frac{dt}{\sqrt{t^2 - 2t + 2}} = -\int \frac{d(t+1)}{\sqrt{(t-1)^2 + 1}}$$

$$I = -\ln |t-1 + \sqrt{(t-1)^2 + 1}| + C = -\ln \left| \frac{1}{x} - 1 + \sqrt{\left(\frac{1}{x} - 1\right)^2 + 1} \right| + C$$

លំហាត់អនុវត្ត

ចូរគណនាអាំងតេក្រាលខាងក្រោម ៖

១. $I = \int \frac{dx}{x \sqrt{x^2 + 2x + 2}}$

១០. $I = \int \frac{dx}{(x-2)\sqrt{-x^2 + 5x + 6}}$

២. $I = \int \frac{dx}{x \sqrt{2x^2 - 2x + 1}}$

១១. $I = \int \frac{dx}{(x-1)\sqrt{2-x-x^2}}$

៣. $I = \int \frac{dx}{(x+1)\sqrt{2x^2 + 6x + 5}}$

១២. $I = \int \frac{dx}{x \sqrt{x^4 - x^2 + 1}}$

៤. $I = \int \frac{dx}{(x+1)\sqrt{7+6x-x^2}}$

១៣. $I = \int \frac{dx}{(x-4)\sqrt{x^2 - 3x - 4}}$

៥. $I = \int \frac{dx}{x \sqrt{5-4x-x^2}}$

១៤. $I = \int \frac{dx}{(x-1)\sqrt{2+x-x^2}}$

៦. $I = \int \frac{dx}{(x+2)\sqrt{4x^2 + 12x - 27}}$

១៥. $I = \int \frac{dx}{(x+2)\sqrt{x^2 + 5x + 4}}$

៧. $I = \int \frac{dx}{x \sqrt{x^2 - 10x - 24}}$

១៦. $I = \int \frac{dx}{(x+5)\sqrt{x^2 - 6x + 5}}$

៨. $I = \int \frac{dx}{x \sqrt{9x^2 - 42x - 147}}$

១៧. $I = \int \frac{dx}{(x-3)\sqrt{x^2 - 2x - 3}}$

៩. $I = \int \frac{dx}{(1-x)\sqrt{1-x-x^2}}$

១៨. $I = \int \frac{dx}{(x+1)\sqrt{-x^2 - 3x + 4}}$

ជំពូកទី២

លំហាត់មានដំណោះស្រាយ

១-គណនាអាំងតេក្រាល

$$\begin{aligned} I &= \int (12x^5 + 5x^4 - 9x^2 + 4x + 7) .dx \\ &= 12 \int x^5 .dx + 5 \int x^4 dx - 9 \int x^2 .dx + 4 \int x dx + 7 \int dx \\ &= 12 \left(\frac{1}{6} x^6 \right) + 5 \left(\frac{1}{5} x^5 \right) - 9 \left(\frac{1}{3} x^3 \right) + 4 \left(\frac{1}{2} x^2 \right) + 7x + c \\ &= 2x^6 + x^5 - 3x^3 + 2x^2 + 7x + c \end{aligned}$$

ដូចនេះ $I = 2x^6 + x^5 - 3x^3 + 2x^2 + 7x + c$

២-គណនាអាំងតេក្រាល $I = \int \frac{4x^7 - 5x^4 + 1}{x^2} .dx$

$$\begin{aligned} &= \int \left(4x^5 - 5x^2 + \frac{1}{x^2} \right) .dx \\ &= \int 4x^5 .dx - \int 5x^2 .dx + \int \frac{1}{x^2} .dx \\ &= 4 \int x^5 .dx - 5 \int x^2 .dx + \int \frac{1}{x^2} .dx \\ &= 4 \left(\frac{1}{6} x^6 \right) - 5 \left(\frac{1}{3} x^3 \right) + \left(-\frac{1}{x} \right) + c \\ &= \frac{2}{3} x^6 - \frac{5}{3} x^3 - \frac{1}{x} + c \end{aligned}$$

ដូចនេះ $I = \frac{2}{3} x^6 - \frac{5}{3} x^3 - \frac{1}{x} + c$

$$\begin{aligned}
 \text{៣-គណនាអាំងតេក្រាល } I &= \int \frac{x^7 - 4x^5 + 1}{x} \cdot dx \\
 &= \int \left(x^6 - 4x^4 + \frac{1}{x} \right) \cdot dx \\
 &= \int x^6 \cdot dx - 4 \int x^4 \cdot dx + \int \frac{1}{x} \cdot dx \\
 &= \frac{1}{7}x^7 - \frac{4}{5}x^5 + \ln|x| + c
 \end{aligned}$$

$$\begin{aligned}
 \text{៤-គណនាអាំងតេក្រាល } I &= \int \frac{x+1}{\sqrt{x}} \cdot dx \\
 &= \int \left(\sqrt{x} + \frac{1}{\sqrt{x}} \right) \cdot dx \\
 &= \int x^{\frac{1}{2}} \cdot dx + \int \frac{1}{\sqrt{x}} \cdot dx \\
 &= \frac{2}{3}x^{\frac{3}{2}} + 2\sqrt{x} + c
 \end{aligned}$$

$$\text{ដូចនេះ: } I = \int \frac{x+1}{\sqrt{x}} \cdot dx = \frac{2}{3}x\sqrt{x} + 2\sqrt{x} + c$$

$$\begin{aligned}
 \text{៥-គណនាអាំងតេក្រាល } I &= \int (\sin x + \cos x)^2 \cdot dx \\
 &= \int (\sin^2 x + 2\sin x \cos x + \cos^2 x) \cdot dx \\
 &= \int (1 + \sin 2x) \cdot dx \\
 &= \int dx + \int \sin 2x \cdot dx \\
 &= x - \frac{1}{2}\cos 2x + c
 \end{aligned}$$

៦-គណនាអាំងតេក្រាល $I = \int \frac{2\cos^3 x + 1}{\cos^2 x} .dx$

$$= \int \left(2\cos x + \frac{1}{\cos^2 x} \right) .dx$$
$$= 2 \int \cos x .dx + \int \frac{1}{\cos^2 x} .dx$$
$$= 2\sin x + \tan x + c$$

ដូចនេះ $I = 2\sin x + \tan x + c$

៧-គណនាអាំងតេក្រាល $I = \int \sin^2 x .dx$

$$= \int \left(\frac{1 - \cos 2x}{2} \right) .dx$$
$$= \frac{1}{2} \int dx - \frac{1}{2} \int \cos 2x .dx$$
$$= \frac{1}{2} x - \frac{1}{4} \sin 2x + c$$

៨-គណនាអាំងតេក្រាល $I = \int \cos^2 x .dx$

$$= \int \left(\frac{1 + \cos 2x}{2} \right) .dx$$
$$= \frac{1}{2} \int dx + \frac{1}{2} \int \cos 2x .dx$$
$$= \frac{1}{2} x + \frac{1}{4} .\sin 2x + c$$

ដូចនេះ $I = \frac{1}{2} x + \frac{1}{4} \sin 2x + C$

$$\begin{aligned}
 8- \text{គណនាអាំងតេក្រាល } I &= \int (\tan x + \cot x)^2 \cdot dx \\
 &= \int (\tan^2 x + 2 \tan x \cot x + \cot^2 x) \cdot dx \\
 &= \int (\tan^2 x + 2 + \cot^2 x) \cdot dx \\
 &= \int [(1 + \tan^2 x) + (1 + \cot^2 x)] \cdot dx \\
 &= \int \left(\frac{1}{\cos^2 x} + \frac{1}{\sin^2 x} \right) \cdot dx \\
 &= \int \frac{dx}{\cos^2 x} + \int \frac{dx}{\sin^2 x} \\
 &= \tan x - \cot x + c
 \end{aligned}$$

ដូចនេះ: $I = \tan x - \cot x + C$

$$\begin{aligned}
 90- \text{គណនាអាំងតេក្រាល } I &= \int \sin x \cdot \cos 2x \cdot dx \\
 &= \frac{1}{2} \int [\sin(x + 2x) + \sin(x - 2x)] \cdot dx \\
 &= \frac{1}{2} \int (\sin 3x - \sin x) \cdot dx \\
 &= \frac{1}{2} \left(-\frac{1}{3} \cos 3x + \cos x \right) + c
 \end{aligned}$$

ដូចនេះ: $I = -\frac{1}{6} \cos 3x + \frac{1}{2} \cos x + C$

$$\begin{aligned}
 ១១-គណនាអាំងតេក្រាល \quad I &= \int \cos 2x \cos 4x \cdot dx \\
 &= \frac{1}{2} \int [\cos(2x + 4x) + \cos(2x - 4x)] \cdot dx \\
 &= \frac{1}{2} \int (\cos 6x + \cos 2x) \cdot dx \\
 &= \frac{1}{2} \left[\frac{1}{6} \sin 6x + \frac{1}{2} \sin 2x \right] + c \\
 &= \frac{1}{12} \sin 6x + \frac{1}{4} \sin 2x + c
 \end{aligned}$$

ដូចនេះ: $I = \frac{1}{12} \sin 6x + \frac{1}{4} \sin 2x + C$ ។

$$\begin{aligned}
 ១២-គណនាអាំងតេក្រាល \quad I &= \int \frac{2}{3x+1} \cdot dx \\
 &= 2 \int \frac{dx}{3x+1} = \frac{2}{3} \int \frac{(3x+1)'}{3x+1} \cdot dx \\
 &= \frac{2}{3} \ln |3x+1| + C
 \end{aligned}$$

$$\begin{aligned}
 ១៣-គណនាអាំងតេក្រាល \quad I &= \int \frac{7}{\sqrt{2x-3}} \cdot dx \\
 &= 7 \int \frac{dx}{\sqrt{2x-3}} \\
 &= 7 \sqrt{2x-3} + C
 \end{aligned}$$

$$\begin{aligned}
 ១៤-គណនាអាំងតេក្រាល \quad I &= \int \frac{10}{(x-2)^2} \cdot dx \\
 &= 10 \int \frac{dx}{(x-2)^2} \\
 &= -\frac{10}{x-2} + C
 \end{aligned}$$

$$\begin{aligned}
 ១៥-គណនាអាំងតេក្រាល I &= \int \frac{dx}{4x^2 - 9} \\
 &= \frac{1}{4} \int \frac{dx}{x^2 - \frac{9}{4}} = \frac{1}{4} \cdot \frac{1}{2\left(\frac{3}{2}\right)} \cdot \ln \left| \frac{x - \frac{3}{2}}{x + \frac{3}{2}} \right| + C \\
 &= \frac{1}{12} \ln \left| \frac{2x - 3}{2x + 3} \right| + C
 \end{aligned}$$

$$\begin{aligned}
 ១៦-គណនាអាំងតេក្រាល I &= \int \frac{dx}{x^2 + 9} \\
 &= \int \frac{dx}{x^2 + 3^2} \\
 &= \frac{1}{3} \arctan\left(\frac{x}{3}\right) + C
 \end{aligned}$$

$$\begin{aligned}
 ១៧-គណនាអាំងតេក្រាល I &= \int \frac{dx}{\sqrt{4 - x^2}} \\
 &= \int \frac{dx}{\sqrt{2^2 - x^2}} \\
 &= \arcsin\left(\frac{x}{2}\right) + C
 \end{aligned}$$

$$\begin{aligned}
 ១៨-គណនាអាំងតេក្រាល I &= \int \frac{dx}{\sqrt{x^2 + 1}} \\
 &= \ln \left| x + \sqrt{x^2 + 1} \right| + C
 \end{aligned}$$

$$\begin{aligned}
 ១៩-គណនាអាំងតេក្រាល I &= \int \frac{dx}{\sqrt{4x^2 - 1}} \\
 &= \frac{1}{2} \int \frac{dx}{\sqrt{x^2 - \frac{1}{4}}} \\
 &= \frac{1}{2} \ln \left| x + \sqrt{x^2 - \frac{1}{4}} \right| + C
 \end{aligned}$$

$$\begin{aligned}
 \text{២០-គណនាអាំងតេក្រាល } I &= \int 2^x \cdot 3^{x+1} \cdot 5^{2x} \cdot dx \\
 &= \int 2^x \cdot 3^x \cdot 3 \cdot 25^x \cdot dx \\
 &= 3 \int (150)^x \cdot dx \\
 &= \frac{3}{\ln(150)} \cdot (150)^x + C
 \end{aligned}$$

$$\begin{aligned}
 \text{២១-គណនាអាំងតេក្រាល } I &= \int (4e^{2x} + 1)^2 \cdot dx \\
 &= \int (16e^{4x} + 8e^{2x} + 1) \cdot dx \\
 &= 16 \int e^{4x} \cdot dx + 8 \int e^{2x} \cdot dx + \int dx \\
 &= 4e^{4x} + 4e^{2x} + x + C \\
 &= (2e^{2x} + 1)^2 + x - 1 + C
 \end{aligned}$$

$$\text{២២-គណនាអាំងតេក្រាល } I = \int \frac{(2x+3) \cdot dx}{x^2 + 3x - 4}$$

តាង $u = x^2 + 3x - 4$ នាំអោយ $du = (2x + 3) \cdot dx$

$$\begin{aligned}
 I &= \int \frac{(2x+3) \cdot dx}{x^2 + 3x - 4} \\
 &= \int \frac{du}{u} \\
 &= \ln|u| + c \\
 &= \ln|x^2 + 3x - 4| + c
 \end{aligned}$$

$$\text{២៣-គណនាអាំងតេក្រាល } I = \int \frac{(2x-3).dx}{\sqrt{x^2-3x+2}}$$

តាង $u = x^2 - 3x + 2$ នាំអោយ $du = (2x-3).dx$

$$\begin{aligned} I &= \int \frac{(2x-3).dx}{\sqrt{x^2-3x+2}} \\ &= \int \frac{du}{\sqrt{u}} \\ &= 2\sqrt{u} + c \\ &= 2\sqrt{x^2-3x+2} + c \end{aligned}$$

$$\text{២៤-គណនាអាំងតេក្រាល } I = \int \frac{e^x}{(e^x+1)^2}.dx$$

តាង $u = e^x + 1$ នាំអោយ $du = e^x.dx$

$$\begin{aligned} I &= \int \frac{du}{u^2} = -\frac{1}{u} + c \\ &= -\frac{1}{e^x+1} + c \end{aligned}$$

$$\text{២៥-គណនាអាំងតេក្រាល } I = \int \sin^4 x \cos x .dx$$

តាង $u = \sin x$ នាំអោយ $du = \cos x .dx$

$$\begin{aligned} I &= \int \sin^4 x \cos x .dx \\ &= \int u^5 .du = \frac{1}{6}u^6 + c = \frac{1}{6}\sin^6 x + c \end{aligned}$$

$$២៦-គណនាអាំងតេក្រាល $I = \int \frac{\sin^4 x}{\cos^6 x} .dx$$$

$$\begin{aligned} \text{គឺមាន } I &= \int \frac{\sin^4 x}{\cos^6 x} .dx \\ &= \int \frac{\sin^4 x}{\cos^4 x} \cdot \frac{1}{\cos^2 x} .dx \\ &= \int \tan^4 x \cdot \frac{dx}{\cos^2 x} \end{aligned}$$

$$\text{តាង } u = \tan x \text{ នាំអោយ } du = \frac{dx}{\cos^2 x}$$

$$\begin{aligned} I &= \int u^5 .du \\ &= \frac{1}{5} u^5 + c \\ &= \frac{1}{5} \tan^5 x + c \end{aligned}$$

$$២៧-គណនាអាំងតេក្រាល $I = \int \frac{4x^3 .dx}{(x^4 + 1)^5}$$$

$$\text{តាង } u = x^4 + 1 \text{ នាំអោយ } du = 4x^3 .dx$$

$$\begin{aligned} I &= \int \frac{4x^3 .dx}{(x^4 + 1)^5} \\ &= \int \frac{du}{u^5} \\ &= \int u^{-5} .du = -\frac{1}{4} .u^{-4} + c \\ &= -\frac{1}{4} (x^4 + 1)^{-4} + c \end{aligned}$$

២៨-គណនាអាំងតេក្រាល $I = \int (e^x + 2)^4 \cdot e^x dx$

តាង $u = e^x + 2$ នាំអោយ $du = e^x \cdot dx$

$$\begin{aligned} I &= \int (e^x + 2)^4 \cdot e^x dx \\ &= \int u^4 \cdot du = \frac{1}{5} u^5 + c \\ &= \frac{1}{5} (e^x + 2)^5 + c \end{aligned}$$

២៩-គណនាអាំងតេក្រាល $I = \int \cos^3 x \cdot dx$

$$\begin{aligned} \text{គេមាន } I &= \int \cos^3 x \cdot dx \\ &= \int \cos^2 x \cdot \cos x \cdot dx \\ &= \int (1 - \sin^2 x) \cdot \cos x \cdot dx \end{aligned}$$

តាង $u = \sin x$ នាំអោយ $du = \cos x \cdot dx$

$$\begin{aligned} &= \int (1 - u^2) \cdot du \\ &= u - \frac{1}{3} u^3 + c = \sin x - \frac{1}{3} \sin^3 x + c \end{aligned}$$

៣០-គណនាអាំងតេក្រាល $I = \int \sin^7 x \cos^3 x \cdot dx$

$$\begin{aligned} \text{គេមាន } I &= \int \sin^7 x \cos^3 x \cdot dx \\ &= \int \sin^6 x \cdot \cos^2 x \cdot \cos x \cdot dx \\ &= \int \sin^6 x \cdot (1 - \sin^2 x) \cdot \cos x \cdot dx \end{aligned}$$

តាង $u = \sin x$ នាំអោយ $du = \cos x \cdot dx$

$$\begin{aligned}
 &= \int u^7(1-u^2).du \\
 &= \int (u^7 - u^9).du = \frac{1}{8}u^8 - \frac{1}{10}u^{10} + c \\
 &= \frac{1}{8}\sin^8 x - \frac{1}{10}\sin^{10} x + c
 \end{aligned}$$

៣១-គណនាអាំងតេក្រាល $I = \int \frac{\sin 2x \cdot dx}{\sqrt{3 - \sin^4 x}}$

គេមាន $I = \int \frac{\sin 2x \cdot dx}{\sqrt{3 - \sin^4 x}}$

$$= \int \frac{2\sin x \cos x \cdot dx}{\sqrt{(\sqrt{3})^2 - (\sin^2 x)^2}}$$

តាង $u = \sin^2 x$ នាំអោយ $du = 2\sin x \cos x \cdot dx$

$$\begin{aligned}
 &= \int \frac{du}{\sqrt{(\sqrt{3})^2 - u^2}} \\
 &= \arcsin\left(\frac{u}{\sqrt{3}}\right) + c = \arcsin\left(\frac{\sin^2 x}{\sqrt{3}}\right) + c
 \end{aligned}$$

៣២-គណនាអាំងតេក្រាល $I = \int \frac{x^3 - 2x}{(x-1)^4} \cdot dx$

$$I = \int \frac{x^3 - 2x}{(x-1)^4} \cdot dx$$

តាង $u = x - 1$ នាំអោយ $\begin{cases} x = u + 1 \\ dx = du \end{cases}$

$$\begin{aligned}
 &= \int \frac{(u+1)^3 - 2(u+1)}{u^4} \cdot du \\
 &= \int \frac{u^3 + 3u^2 + 3u + 1 - 2u - 2}{u^4} \cdot du \\
 &= \int \frac{u^3 + 3u^2 + u - 1}{u^4} \cdot du \\
 &= \int \left(\frac{1}{u} + 3 \cdot \frac{1}{u^2} + u^{-3} - u^{-4} \right) \cdot du \\
 &= \ln|u| - \frac{3}{u} - \frac{1}{2}u^{-2} + \frac{1}{3}u^{-3} + c \\
 &= \ln|x-1| - \frac{3}{x-1} - \frac{1}{2}(x-1)^{-2} + \frac{1}{3}(x-1)^{-3} + c
 \end{aligned}$$

៣៣-គណនាអាំងតេក្រាល $I = \int \frac{(\cos x - \sin x) \cdot dx}{1 + \sin 2x}$

គេមាន $I = \int \frac{(\cos x - \sin x) \cdot dx}{1 + \sin 2x}$

$$\begin{aligned}
 &= \int \frac{(\cos x - \sin x) \cdot dx}{\cos^2 x + \sin^2 x + 2 \sin x \cos x} \\
 &= \int \frac{(\cos x - \sin x) \cdot dx}{(\sin x + \cos x)^2}
 \end{aligned}$$

តាំង $u = \sin x + \cos x$ នាំអោយ $du = (\cos x - \sin x) \cdot dx$

$$= \int \frac{du}{u^2} = -\frac{1}{u} + c = -\frac{1}{\sin x + \cos x} + c$$

៣៤-គណនាអាំងតេក្រាល $I = \int \frac{\sin \sqrt{x}}{2\sqrt{x}}.dx$

តាង $u = \sqrt{x}$ នាំអោយ $du = \frac{1}{2\sqrt{x}}.dx$

$$\begin{aligned} I &= \int \frac{\sin \sqrt{x}}{2\sqrt{x}}.dx \\ &= \int \sin u.du = -\cos u + c \\ &= -\cos \sqrt{x} + c \end{aligned}$$

៣៥-គណនាអាំងតេក្រាល $I = \int \cos(\sin x). \cos x dx$

តាង $u = \sin x$ នាំអោយ $du = \cos x.du$

$$\begin{aligned} I &= \int \cos(\sin x). \cos x dx \\ &= \int \cos u.du = \sin u + c \\ &= \sin(\sin x) + c \end{aligned}$$

៣៦-គណនាអាំងតេក្រាល $I = \int \frac{5x^9.du}{1+x^5}$

តាង $u = 1+x^5$ នាំអោយ $du = 5x^4.du$

$$\begin{aligned} I &= \int \frac{[(1+x^5)-1].5x^4.du}{1+x^5} \\ &= \int \frac{(u-1).du}{u} = \int \left(1 - \frac{1}{u}\right).du = u - \ln|u| + c \\ &= (1+x^5) - \ln|1+x^5| + c \end{aligned}$$

៣៧-គណនាអាំងតេក្រាល $I = \int \frac{4x^7 \cdot dx}{(1+x^4)^2}$

តាង $u = 1+x^4$ នាំអោយ $du = 4x^3 \cdot dx$

$$\begin{aligned} I &= \int \frac{x^4 \cdot 4x^3 \cdot dx}{(1+x^4)^2} \\ &= \int \frac{[(1+x^4)-1] \cdot 4x^3 \cdot dx}{(1+x^4)^2} \\ &= \int \frac{(u-1) \cdot du}{u^2} \\ &= \int \left(\frac{1}{u} - \frac{1}{u^2} \right) \cdot du = \ln|u| + \frac{1}{u} + c \\ &= \ln|1+x^4| + \frac{1}{1+x^4} + c \end{aligned}$$

៣៨-គណនាអាំងតេក្រាល $I = \int e^{x^2+x} (2x+1) \cdot dx$

តាង $u = x^2 + x$ នាំអោយ $du = (2x+1) \cdot dx$

$$\begin{aligned} I &= \int e^{x^2+x} (2x+1) \cdot dx \\ &= \int e^u \cdot du = e^u + c \\ &= e^{x^2+x} + c \end{aligned}$$

ដូចនេះ: $I = e^{x^2+x} + C$ ។

$$៣៩-គណនាអាំងតេក្រាល $I = \int \frac{(\cos x - \sin x).dx}{\sqrt{1 + \sin x + \cos x}}$$$

តាង $u = 1 + \sin x + \cos x$ នាំអោយ $du = (\cos x - \sin x).dx$

$$\begin{aligned} I &= \int \frac{(\cos x - \sin x).dx}{\sqrt{1 + \sin x + \cos x}} \\ &= \int \frac{du}{\sqrt{u}} = 2\sqrt{u} + c \\ &= 2\sqrt{1 + \sin x + \cos x} + c \end{aligned}$$

$$៤០-គណនាអាំងតេក្រាល $I = \int \frac{(x^2 - 1).dx}{(x^2 + 1)^2}$$$

ដោយចែកភាគយកនឹងភាគបែង នឹង x^2 គេបាន ៖

$$I = \int \frac{\left(1 - \frac{1}{x^2}\right).dx}{\left(x + \frac{1}{x}\right)^2}$$

តាង $u = x + \frac{1}{x}$ នាំអោយ $du = \left(1 - \frac{1}{x^2}\right).dx$

$$\begin{aligned} &= \int \frac{du}{u^2} = -\frac{1}{u} + c \\ &= -\frac{1}{x + \frac{1}{x}} + c \\ &= -\frac{x}{x^2 + 1} + c \end{aligned}$$

៤១-គណនាអាំងតេក្រាល ៖

$$I = \int \frac{dx}{x^4 + 1}$$

គេមាន $I = \int \frac{dx}{x^4 + 1}$

$$= \frac{1}{2} \int \frac{(x^2 + 1) - (x^2 - 1)}{x^4 + 1} dx$$

$$= \frac{1}{2} \int \frac{x^2 + 1}{x^4 + 1} dx - \frac{1}{2} \int \frac{x^2 - 1}{x^4 + 1} dx$$

$$= \frac{1}{2} \int \frac{1 + \frac{1}{x^2}}{x^2 + \frac{1}{x^2}} dx - \frac{1}{2} \int \frac{1 - \frac{1}{x^2}}{x^2 + \frac{1}{x^2}} dx$$

$$= \frac{1}{2} \int \frac{(1 + \frac{1}{x^2}) dx}{(x - \frac{1}{x})^2 + 2} - \frac{1}{2} \int \frac{(1 - \frac{1}{x^2}) dx}{(x + \frac{1}{x})^2 - 2}$$

តាង $u = x - \frac{1}{x}$ នាំឱ្យ $du = (1 + \frac{1}{x^2}) dx$

និង $v = x + \frac{1}{x}$ នាំឱ្យ $dv = (1 - \frac{1}{x^2}) dx$

គេបាន $I = \frac{1}{2} \int \frac{du}{u^2 + 2} - \frac{1}{2} \int \frac{dv}{v^2 - 2}$

$$= \frac{1}{2\sqrt{2}} \arctan\left(\frac{u}{\sqrt{2}}\right) - \frac{1}{4\sqrt{2}} \ln \left| \frac{v - \sqrt{2}}{v + \sqrt{2}} \right| + C$$

ដូចនេះ $I = \frac{1}{2\sqrt{2}} \arctan\left(\frac{x^2 - 1}{\sqrt{2}x}\right) - \frac{1}{4\sqrt{2}} \ln \left| \frac{x^2 - \sqrt{2}x + 1}{x^2 + \sqrt{2}x + 1} \right| + C$ ។

៤២-គណនាអាំងតេក្រាល $I = \int (2x + 1)\cos x \cdot dx$

តាង $\begin{cases} u = 2x + 1 \\ dv = \cos x \cdot dx \end{cases}$ នាំអោយ $\begin{cases} du = 2 \cdot dx \\ v = \sin x \end{cases}$

$$\begin{aligned} I &= \int (2x + 1)\cos x \cdot dx \\ &= (2x + 1)\sin x - \int 2\sin x \cdot dx \\ &= (2x + 1)\sin x + 2\cos x + c \end{aligned}$$

៤៣-គណនាអាំងតេក្រាល $I = \int (6x - 1)\cos 3x \cdot dx$

តាង $\begin{cases} u = 6x - 1 \\ dv = \cos 3x \cdot dx \end{cases}$ នាំអោយ $\begin{cases} du = 6 \cdot dx \\ v = \frac{1}{3}\sin 3x \end{cases}$

$$\begin{aligned} I &= \int (6x - 1)\cos 3x \cdot dx \\ &= \frac{1}{3}(6x - 1)\sin 3x - \int 2\sin 3x \cdot dx \\ &= \frac{1}{3}(6x - 1)\sin 3x + \frac{2}{3}\cos 3x + c \end{aligned}$$

៤៤-គណនាអាំងតេក្រាល $I = \int (2x + 3)\sin 2x \cdot dx$

តាង $\begin{cases} u = 2x + 3 \\ dv = \sin 2x \cdot dx \end{cases}$ នាំអោយ $\begin{cases} du = 2 \cdot dx \\ v = -\frac{1}{2}\cos 2x \end{cases}$

$$\begin{aligned} I &= -\frac{1}{2}(2x + 3)\cos 2x + \int \cos 2x \cdot dx \\ &= -\frac{1}{2}(2x + 3)\cos 2x + \frac{1}{2}\sin 2x + c \end{aligned}$$

៤៥-គណនាអាំងតេក្រាល

$$I = \int x^2 \sin x . dx$$

តាង $\begin{cases} u = x^2 \\ dv = \sin x . dx \end{cases}$ នាំអោយ $\begin{cases} du = 2x . dx \\ v = -\cos x \end{cases}$

$$I = \int x^2 \sin x . dx$$

$$= -x^2 \cos x + \int 2x \cos x . dx$$

តាង $\begin{cases} u = 2x \\ dv = \cos x . dx \end{cases}$ នាំអោយ $\begin{cases} du = 2 . dx \\ v = \sin x \end{cases}$

$$= -x^2 \cos x + \left[2x \sin x - \int 2 \sin x . dx \right]$$

$$= -x^2 \cos x + 2x \sin x + 2 \cos x + c$$

៤៦-គណនាអាំងតេក្រាល $I = \int (2x - 3)e^x . dx$

តាង $\begin{cases} u = 2x - 3 \\ dv = e^x . dx \end{cases}$ នាំអោយ $\begin{cases} du = 2 . dx \\ v = e^x \end{cases}$

$$I = \int (2x - 3)e^x . dx$$

$$= (2x - 3)e^x - \int 2e^x . dx$$

$$= (2x - 3)e^x - 2e^x + c$$

$$= (2x - 5).e^x + c$$

ដូចនេះ: $I = (2x - 5).e^x + C$ ។

៤៧-គណនាអាំងតេក្រាល $I = \int (4x+1).e^{2x}.dx$

តាង $\begin{cases} u = 4x+1 \\ dv = e^{2x}.dx \end{cases}$ នាំអោយ $\begin{cases} du = 4.dx \\ v = \frac{1}{2}e^{2x} \end{cases}$

$$\begin{aligned} I &= \frac{1}{2}(4x+1)e^{2x} - \int 2e^{2x}.dx \\ &= \frac{1}{2}(4x+1)e^{2x} - e^{2x} + c \\ &= \frac{1}{2}(4x-1).e^{2x} + c \end{aligned}$$

៤៨-គណនាអាំងតេក្រាល $I = \int x^2e^x.dx$

តាង $\begin{cases} u = x^2 \\ dv = e^x.dx \end{cases}$ នាំអោយ $\begin{cases} du = 2x.dx \\ v = e^x \end{cases}$

$$\begin{aligned} I &= \int x^2e^x.dx \\ &= x^2e^x - \int 2xe^x.dx \end{aligned}$$

តាង $\begin{cases} u = 2x \\ dv = e^x.dx \end{cases}$ នាំអោយ $\begin{cases} du = 2.dx \\ v = e^x \end{cases}$

$$\begin{aligned} &= x^2e^x - \left[2xe^x - \int 2e^x.dx \right] \\ &= x^2e^x - 2xe^x - 2e^x + c \\ &= (x^2 - 2x - 2)e^x + c \end{aligned}$$

៤៩-គណនាអាំងតេក្រាល $I = \int x^3 \ln x . dx$

តាង $\begin{cases} u = \ln x \\ dv = x^3 . dx \end{cases}$ នាំអោយ $\begin{cases} du = \frac{1}{x} . dx \\ v = \frac{1}{4} x^4 \end{cases}$

$$\begin{aligned} I &= \int x^3 \ln x . dx \\ &= \frac{1}{4} x^4 \ln x - \int \frac{1}{4} x^4 \cdot \frac{1}{x} . dx \\ &= \frac{1}{4} x^4 \ln x - \frac{1}{4} \int x^3 . dx \\ &= \frac{1}{4} x^4 \ln x - \frac{1}{16} x^4 + c \end{aligned}$$

៥០-គណនាអាំងតេក្រាល $I = \int x . \tan^2 x . dx$

តាង $\begin{cases} u = x \\ dv = \tan^2 x . dx \end{cases}$

នាំឲ្យ $\begin{cases} du = dx \\ v = \int \tan^2 x dx = \int \left(\frac{1}{\cos^2 x} - 1 \right) . dx = \tan x - x \end{cases}$

គេបាន $I = x(\tan x - x) - \int (\tan x - x) . dx$

ដូចនេះ: $I = x \tan x - \frac{x^2}{2} + \ln |\cos x| + c$ ។

ជំពូកទី៣

លំហាត់អនុវត្ត

១-គណនាអាំងតេក្រាលខាងក្រោម៖

1. $\int (x^4 + 4x^3).dx$

6. $\int \frac{x^5 + x^3 + 1}{\sqrt[3]{x^2}}.dx$

2. $\int \left(x + \frac{1}{x}\right)^2 .dx$

7. $\int \frac{dx}{2x + 3}$

3. $\int \frac{4x^7 - 3x^4 + 1}{x^2}.dx$

8. $\int (2x + 1)^4 .dx$

4. $\int \frac{(x + 1)^2}{x^3}.dx$

9. $\int \sqrt{3x + 1}.dx$

5. $\int \left(5\sqrt[3]{x^2} + 7\sqrt[4]{x^3}\right).dx$

10. $\int \frac{dx}{\sqrt[3]{(x + 4)^2}}$

២-គណនាអាំងតេក្រាលខាងក្រោម៖

1. $\int (e^x + e^{-x})^2 .dx$

6. $\int (\sin x + \cos x)^2 .dx$ 2.

$\int (e^{3x} + e^{-3x}).dx$

7. $\int \sin^2 x .dx$

3. $\int \frac{(e^{2x} + 1)^2}{e^{3x}}.dx$

8. $\int \cos^2 x .dx$

4. $\int (\tan x + \cot x)^2 .dx$

9. $\int \sin 2x . \sin 4x .dx$

5. $\int (\sin x + \sin 2x).dx$

10. $\int \cos x.\cos 3x.dx$

៣-គណនាអាំងតេក្រាល៖

1. $\int \frac{dx}{x^2 - 1}$

5. $\int \frac{2x^2 .dx}{x^4 - 1}$

2. $\int \frac{dx}{4 - x^2}$

6. $\int \frac{dx}{\sqrt{9 - x^2}}$

3. $\int \frac{dx}{x^2 + 4}$

7. $\int \frac{dx}{\sqrt{x^2 + 1}}$

4. $\int \frac{2dx}{x^4 - 1}$

8. $\int \frac{dx}{\sqrt{x^2 - 4}}$

៤-គណនាអាំងតេក្រាលខាងក្រោម៖

1. $\int \frac{2x}{1 + x^2} .dx$

11. $\int \frac{\sin x - \cos x}{\sin x + \cos x} .dx$

2. $\int \frac{2x}{(1 + x^2)^2} .dx$

12. $\int \frac{\sin x - \cos x}{1 + \sin 2x} .dx$

3. $\int \frac{2x + 2}{\sqrt{x^2 + 2x + 4}} .dx$

13. $\int \frac{\sin 2x .dx}{1 + \cos^2 x}$

4. $\int \frac{2x + 3}{x^2 + 3x + 1} .dx$

14. $\int \frac{\sin 2x .dx}{3 - 4\sin^2 x}$

5. $\int \frac{4x^3}{(1 + x^4)^2} .dx$

15. $\int \frac{\cos 7x - \cos 8x}{1 + 2\cos 5x} .dx$

6. $\int \sin^4 x \cdot \cos x \cdot dx$

16. $\int \frac{\sin x \cdot \cos x}{\sqrt{a \sin^2 x + b \cos^2 x}} \cdot dx$

7. $\int \cos^5 x \sin x \cdot dx$

17. $\int \frac{e^x - e^{-x}}{e^x + e^{-x}} \cdot dx$

8. $\int \sin^2 x \cos^3 x$

18. $\int \frac{\cos x - \sin x}{\sqrt{\cos x + \sin x}} \cdot dx$

9. $\int \sin^3 x \cdot dx$

19. $\int \frac{\sin^5 x}{\cos^7 x} \cdot dx$

10. $\int \cos^5 x \cdot dx$

20. $\int \frac{\cos^3 x}{\sin^5 x} \cdot dx$

៥-គណនាអាំងតេក្រាលខាងក្រោម៖

1. $\int \sin^5 x \cdot \cos x \cdot dx$

6. $\int \sin^n x \cdot \cos x \cdot dx$

2. $\int \cos^7 x \cdot \sin x \cdot dx$

7. $\int \sin^n x \cdot \cos^3 x \cdot dx$

3. $\int \sin^2 x \cdot \cos^3 x \cdot dx$

8. $\int \cos^n x \cdot \sin x \cdot dx$

4. $\int \cos^7 x \cdot \sin^3 x \cdot dx$

9. $\int \cos^n x \cdot \sin^3 x \cdot dx$

5. $\int \cos^4 x \cdot \sin^5 x \cdot dx$

10. $\int \sin^4 x \cdot \cos^2 x \cdot dx$

៦-គណនាអាំងតេក្រាល៖

1. $\int \frac{\sin^5 x}{\cos^7 x} \cdot dx$

3. $\int \frac{\sin^8 x}{\cos^{10} x} \cdot dx$

$$2. \int \frac{\cos^4 x}{\sin^6 x} .dx$$

$$4. \int \sin^5 x .dx$$

៧-គណនាអាំងតេក្រាល៖

$$1. \int \frac{\sin^n x}{\cos^{n+2} x} .dx$$

$$6. \int \frac{e^{\tan x}}{\cos^2 x} .dx$$

$$2. \int \frac{\cos^n x}{\sin^{n+2} x} .dx$$

$$7. \int \frac{e^{\sqrt{x}} + \sin \sqrt{x}}{\sqrt{x}} .dx$$

$$3. \int \frac{\cos x}{\sqrt{\sin x}} .dx$$

$$8. \int \frac{(x^2 + 1) .dx}{\sqrt[3]{x^3 + 3x + 1}}$$

$$4. \int \frac{\sin x}{\cos^4 x} .dx$$

$$9. \int \frac{x^9}{1 + x^5} .dx$$

$$5. \int \frac{dx}{x \cdot \ln x}$$

$$10. \int \frac{x^7 .dx}{\sqrt[3]{(x^4 + 1)^2}}$$

៨-គណនាអាំងតេក្រាល៖

$$1. \int \frac{\ln^2(x + \sqrt{x^2 + 1})}{\sqrt{x^2 + 1}} .dx$$

$$6. \int \frac{(1 + e^x) .dx}{(x + e^x)^2}$$

$$2. \int e^{\sin^2 x} .\sin 2x .dx$$

$$7. \int \frac{e^x .dx}{1 + e^x}$$

$$3. \int e^{-x^2 + 2x} .(x - 1) .dx$$

$$8. \int \frac{e^x .dx}{(1 + e^x)^2}$$

ព្រឹត្តិបត្រ និង អំណាចគេក្រាល

$$4. \int \frac{1 + \sin x}{\sqrt{x - \cos x}}.dx$$

$$9. \int \frac{dx}{1 + e^x}$$

$$5. \int \frac{\sin 2x}{e^{\cos^2 x}}.dx$$

$$10. \int \frac{(x+1).e^x}{1 + xe^x}.dx$$

៩-គណនាអំណាចគេក្រាល៖

$$1. \int \frac{(1-x).dx}{x + e^x}$$

$$6. \int \frac{x.dx}{x^4 - 1}$$

$$2. \int \frac{1 + \ln x}{1 + x^{-x}}.dx$$

$$7. \int \frac{\cos x.dx}{2 - \cos^2 x}$$

$$3. \int e^{x+e^x}.dx$$

$$8. \int \frac{\sin x.dx}{5 - \sin^2 x}$$

$$4. \int x^x.(1 + \ln x).dx$$

$$9. \int \frac{\sin 2x.dx}{1 + \sin^4 x}$$

$$5. \int \frac{\cot x}{\sqrt{1 + \ln \sin x}}.dx$$

$$10. \int \frac{dx}{e^x + e^{-x}}$$

១០-គណនាអំណាចគេក្រាល៖

$$1. \int \frac{dx}{\sin x}$$

$$11. \int \frac{1}{(1+x)^2} \cdot \sqrt[3]{\frac{1-x}{1+x}}.dx$$

$$2. \int \frac{dx}{\cos x}$$

$$12. \int \frac{dx}{\sqrt[3]{(x^3 - 3x + 2)^2}}$$

$$3. \int \frac{\cos x}{\sqrt[3]{\sin^2 x}}.dx$$

$$13. \int \frac{1}{(1-x)^2} \cdot \sqrt[4]{\frac{1+x}{1-x}}.dx$$

- | | |
|------------------------------------------------------|------------------------------------------------------------------------------|
| 4. $\int \frac{\sin x}{\cos^3 x} .dx$ | 14. $\int \frac{\ln(x + \sqrt{x^2 + 4})}{\sqrt{x^2 + 4}} .dx$ |
| 5. $\int \frac{\cos x}{\sin^5 x} .dx$ | 15. $\int \frac{dx}{\sqrt[3]{[x(x-3)^2 - 4]^2}}$ |
| 6. $\int \frac{\cos^3 x}{\sin^8 x} .dx$ | 16. $\int \left(\frac{1}{1+x} \cdot \sqrt[3]{\frac{1-x}{1+x}} \right)^2 dx$ |
| 7. $\int \frac{\sin^3 x}{\cos^{10} x} .dx$ | 17. $\int \frac{\arctan x}{x^2 + 1} .dx$ |
| 8. $\int \frac{2x^3 + x^7}{\sqrt[3]{(1+x^4)^2}} .dx$ | 18. $\int \frac{\arcsin x}{\sqrt{1-x^2}} .dx$ |
| 9. $\int \frac{\tan x .dx}{3 - \ln^2 \cos x}$ | 19. $\int \sqrt[3]{\tan x} .dx$ |
| 10. $\int \frac{\sin 2x .dx}{\sqrt{3 - \cos^4 x}}$ | 20. $\int \frac{x^2 - 2}{x^4 + 4} .dx$ |

១១-គណនាអាំងតេក្រាល៖

- | | |
|---------------------------------|-------------------------------------------|
| 1. $\int \frac{x-1}{x^2+1} .dx$ | 6. $\int \frac{\ln x}{\sqrt[3]{x^2}} .dx$ |
| 2. $\int x^4 .\ln x .dx$ | 7. $\int x^5 .\ln^2 x .dx$ |
| 3. $\int x^3 .\ln x .dx$ | 8. $\int x^7 .\ln^3 x .dx$ |

4. $\int \frac{\ln x}{\sqrt{x}}.dx$

9. $\int \ln^4 x.dx$

5. $\int \frac{\ln x}{x^5}.dx$

10. $\int xe^{2x}.dx$

១២-គណនាអាំងតេក្រាល

1. $\int (3x^2 + 2x).\ln x.dx$

6. $\int (xe^x)^2.dx$

2. $\int xe^{-3x}.dx$

7. $\int \sin(\ln x).dx$

3. $\int x^2e^x.dx$

8. $\int \cos(\ln x).dx$

4. $\int x^3e^{-x}.dx$

9. $\int e^x \sin x.dx$

5. $\int xe^{\sqrt{x}}.dx$

10. $\int e^x \cos x.dx$

១៣-គណនាអាំងតេក្រាល៖

1. $\int e^{-x}.\sin x \cos x.dx$

6. $\int \frac{x^5}{e^{x^3}}.dx$

2. $\int e^{-2x}(1 - 2\sin^2 x).dx$

7. $\int x^3 \sin(\ln x).dx$

3. $\int e^x.\cos^2 x.dx$

8. $\int x^4.\cos(\ln x).dx$

4. $\int \frac{\sin^2 x}{e^{2x}}.dx$

9. $\int x^n.\sin(\ln x).dx$

5. $\int x^3e^{x^2}.dx$

10. $\int x^n.\cos(\ln x).dx$

១៤-គណនាអាំងតេក្រាល៖

1. $\int \frac{dx}{\sin^3 x}$

2. $\int \frac{dx}{\cos^3 x}$

3. $\int x \sin x \cdot dx$

4. $\int (x + 1) \cdot \cos x \cdot dx$

5. $\int x^2 \cdot \sin 2x \cdot dx$

6. $\int x \cdot \sin^2 x \cdot dx$

7. $\int x^2 \cdot \cos 2x \cdot dx$

8. $\int (2x - 1) \cdot e^x \cdot dx$

9. $\int x^2 \cdot e^x \cdot dx$

10. $\int \frac{x}{\sin^2 x} \cdot dx$

11. $\int \frac{x}{\cos^2 x} \cdot dx$

12. $\int x^3 \cdot \sin x \cdot dx$

13. $\int x^3 \cdot \cos x \cdot dx$

14. $\int x^3 \cdot e^x \cdot dx$

15. $\int e^x \sin^2 x \cdot dx$

16. $\int e^x \cos^2 x \cdot dx$

17. $\int \frac{x^4}{e^x} \cdot dx$

18. $\int (x^2 - 3x + 1) e^x \cdot dx$

១៥-គណនាអាំងតេក្រាល៖

1. $\int \arctan x \cdot dx$

2. $\int \arcsin x \cdot dx$

6. $\int \frac{\arcsin x}{x^2 \sqrt{1-x^2}} \cdot dx$

7. $\int \frac{\arccos x}{x^2 \sqrt{1-x^2}} \cdot dx$

$$3. \int \arccos x \cdot dx$$

$$8. \int \frac{x^2 \cdot \arctan x}{1 + x^2} \cdot dx$$

$$4. \int \ln x \cdot dx$$

$$9. \int \frac{dx}{x^3 \sqrt{1 - x^2}}$$

$$5. \int x \cdot \arctan x \cdot dx$$

$$10. \int \frac{(x^2 + 3x)(2x + 3) \cdot dx}{(x^2 + 3x + 1)^2}$$

១៦-គណនាអាំងតេក្រាល៖

$$1. \int \frac{2x \cdot \ln x}{(1 + x^2)^2} \cdot dx$$

$$6. \int \frac{x^4 \cdot dx}{(x^4 + 1)^2}$$

$$2. \int x \tan^2 x \cdot dx$$

$$7. \int \frac{x}{\sqrt{1 - x^2}} \cdot e^{\arcsin x} \cdot dx$$

$$3. \int x \cot x \cdot dx$$

$$8. \int \frac{x}{\sqrt{1 - x^2}} \cdot e^{\arccos x} \cdot dx$$

$$4. \int \frac{x \cdot \arcsin x}{\sqrt{1 - x^2}} \cdot dx$$

$$9. \int \frac{x^{n-1} \cdot \ln x}{(1 + x^n)^2} \cdot dx$$

$$5. \int \frac{x \cdot \arccos x}{\sqrt{1 - x^2}} \cdot dx$$

$$10. \int \frac{x^{2n-1}}{(1 + x^n)^2} \cdot dx$$

១៧-គណនាអាំងតេក្រាល៖

$$1. \int \frac{x \cos x}{\sin^3 x} \cdot dx$$

$$6. \int \frac{x^2 \cos x}{\sin^3 x} \cdot dx$$

$$2. \int \frac{x \sin x}{\cos^3 x} .dx$$

$$7. \int \frac{x^2 \sin x}{\cos^3 x} .dx$$

$$3. \int \frac{x \cos x}{\sin^2 x} .dx$$

$$8. \int \frac{x^7 .dx}{(1+x^4)^2}$$

$$4. \int \frac{x \sin x}{\cos^2 x} .dx$$

$$9. \int \frac{x^{19} .dx}{(1+x^{10})}$$

$$5. \int \frac{xe^x}{(1+e^x)^2} .dx$$

$$10. \int \frac{x^7 .dx}{(4+x^4)^3}$$

១៨-គណនាអាំងតេក្រាល៖

$$1. \int \frac{x \sin x}{(2 + \cos x)^2} .dx$$

$$6. \int \frac{(\sin x + \cos x) \cos 2x}{(1 + \sin 2x)^2} .dx$$

$$2. \int \frac{x .dx}{\sqrt{\tan x} . \cos^2 x}$$

$$7. \int \tan^2 \sqrt{x} .dx$$

$$3. \int \frac{x^6 - 3x^4}{(x^4 + 1)^2} .dx$$

$$8. \int x \sin \sqrt{x} .dx$$

$$4. \int \frac{(x^2 - x) .dx}{(x^2 - 2x - 3)^2}$$

$$9. \int \frac{dx}{\sin^2 \sqrt{x}}$$

$$5. \int \frac{x \cos x}{(1 + \sin x)^2} .dx$$

$$10. \int \frac{dx}{\cos^2 \sqrt{x}}$$

១៩-គណនាអាំងតេក្រាល៖

$$1. \int \frac{dx}{\sin^5 x}$$

$$6. \int \frac{(x-1).e^x}{x^2}.dx$$

$$2. \int e^x \sin x \sin 2x .dx$$

$$7. \int \left(e^x \ln x + \frac{e^x}{x} \right) .dx$$

$$3. \int e^{\sqrt{x}} .dx$$

$$8. \int \left(\frac{\tan^2 x}{x} - \frac{\tan x}{x^2} \right) .dx$$

$$4. \int \cos \sqrt[3]{x} .dx$$

$$9. \int \tan x (1 + \tan x) e^x .dx$$

$$5. \int x^2 (\tan x + \tan^3 x) .dx$$

$$10. \int \frac{2-x}{x^3} .e^x .dx$$

២០-គណនាអាំងតេក្រាល៖

$$1. \int \frac{x^2 - 1}{x^4 + 1} .dx$$

$$6. \int \frac{x^2 - 1}{x^4 + x^2 + 1} .dx$$

$$2. \int \frac{x^2 + 1}{x^4 + 1} .dx$$

$$7. \int \frac{x^2 + 1}{x^4 + x^2 + 1} .dx$$

$$3. \int \frac{dx}{x^4 + 1}$$

$$8. \int \frac{dx}{x^4 + x^2 + 1}$$

$$4. \int \sqrt{\tan x} .dx$$

$$9. \int x^n \cos(\ln x) .dx$$

$$5. \int \sqrt{\cot x} .dx$$

$$10. \int x^n \sin(\ln x) .dx$$

២១-គណនាអាំងតេក្រាល៖

1. $\int x^n \ln x .dx$

6. $\int e^x .\cos^2 x .dx$

2. $\int x^n \ln^2 x .dx$

7. $\int x^3 \sin^2 x .dx$

3. $\int \sin^2 (\ln x) .dx$

8. $\int x^3 \cos^2 x .dx$

4. $\int \cos^2 (\ln x) .dx$

9. $\int \frac{dx}{x^6 + 1}$

5. $\int e^x .\sin^2 x .dx$

10. $\int \frac{nx^{n-1} .\ln x}{(1+x^n)^2} .dx$

២២-គេឱ្យអាំងតេក្រាល៖

$I = \int e^{-2x} \cos^2 x .dx$ និង $J = \int e^{-2x} \sin^2 x .dx$

ក-គណនា $I+J$ និង $I-J$

ខ-ទាញរក I និង J ។

២៣-គេឱ្យអាំងតេក្រាល៖

$I = \int \frac{\cos x}{\sin x + \cos x} .dx$ និង $J = \int \frac{\sin x}{\sin x + \cos x} .dx$

ក-គណនា $I+J$ និង $I-J$

ខ-ទាញរក I និង J ។

២៤-គេឱ្យអាំងតេក្រាល៖

$$I = \int x \cos^2 x \cdot dx \quad \text{និង} \quad J = \int x \sin^2 x \cdot dx$$

ក-គណនា $I+J$ និង $I-J$

ខ-ទាញរក I និង J ។

២៥-គេឱ្យអាំងតេក្រាល៖

$$I = \int \frac{x+1}{e^{-x} + x} \cdot dx \quad \text{និង} \quad J = \int \frac{e^{-x} - 1}{e^{-x} + x} \cdot dx$$

គណនា $I+J$, J រួចទាញរក I ។

២៦-គេឱ្យអាំងតេក្រាល $I = \int \frac{\sin x}{\sin x + \cos x} \cdot dx$ និង $J = \int \frac{\cos x}{\sin x + \cos x} \cdot dx$

ក-គណនា $I+J$ និង $I-J$

ខ-ទាញរក I និង J ។

២៧-គេឱ្យអាំងតេក្រាល $I = \int e^x \cos^2 x \cdot dx$ និង $J = \int e^x \sin^2 x \cdot dx$

ក-គណនា $I+J$ និង $I-J$

ខ-ទាញរក I និង J ។

ជំពូកទី៤

អាំងតេក្រាលកំណត់

១-រូបមន្តឡីបនិច-ញូតុន

អាំងតេក្រាលកំណត់ពី a ទៅ b នៃអនុគមន៍ $y = f(x)$ ជាផលដក

$F(b) - F(a)$ ។ ដែល $F(x)$ ជាព្រីមីទីវនៃ $f(x)$ ។ គេកំណត់សរសេរ៖

$$\int_a^b f(x) \cdot dx = [F(x)]_a^b = F(b) - F(a)$$

២-លក្ខណៈអាំងតេក្រាលកំណត់

ក. $\int_a^a f(x) \cdot dx = 0$

ខ. $\int_a^b f(x) \cdot dx = -\int_b^a f(x) \cdot dx$

គ. $\int_a^b k \cdot f(x) \cdot dx = k \cdot \int_a^b f(x) \cdot dx$

ឃ. $\int_a^b [f(x) + g(x)] \cdot dx = \int_a^b f(x) \cdot dx + \int_a^b g(x) \cdot dx$

ង. $\int_a^b [f(x) - g(x)] \cdot dx = \int_a^b f(x) \cdot dx - \int_a^b g(x) \cdot dx$

ច. $\int_a^b f(x) \cdot dx = \int_a^b f(z) \cdot dz = \int_a^b f(t) \cdot dt$

៣-រូបមន្តប្តូរអថេរ

-សន្មតថាគេមាន $I = \int_a^b f(x).dx$ (1)

បើគេតាង $x = \phi(t)$ នាំអោយ $dx = \phi'(t).dt$ ហើយចំពោះ $x \in [a,b]$

នោះ $t \in [t_1, t_2]$

ដូចនេះ $I = \int_a^b f(x).dx = \int_{t_1}^{t_2} f[\phi(t)].\phi'(t).dt$

-សន្មតថាគេមាន $I = \int_a^b f[\phi(x)].\phi'(x).dx$ (2)

បើគេតាង $u = \phi(x)$ នាំអោយ $du = \phi'(x).dx$

ចំពោះ $x \in [a,b]$ នោះ $u \in [\phi(a), \phi(b)]$

គេបាន $I = \int_a^b f[\phi(x)].\phi'(x).dx = \int_{\phi(a)}^{\phi(b)} f(u).du$

៤-រូបមន្តគណនាអាំងតេក្រាលដោយផ្នែក

$$\int_a^b u.dv = [u.v]_a^b - \int_a^b v.du$$

៥-គណនាក្រឡាផ្ទៃ

ក. ក្រឡាផ្ទៃខ័ណ្ឌដោយខ្សែកោងតាងអនុគមន៍ និង អក្សរអាប់ស៊ីស
 ក្រឡាផ្ទៃខ័ណ្ឌដោយខ្សែកោង (C): $y = f(x)$ ជាមួយអក្សរអាប់ស៊ីស
 $(x'ox)$ និង បន្ទាត់ $x = a$ និង $x = b$ កំនត់ដោយ៖

$$S = \int_a^b f(x) \cdot dx = [F(x)]_a^b = F(b) - F(a)$$

ខ. ក្រឡាផ្ទៃខ័ណ្ឌដោយខ្សែកោងពីរ
 ក្រឡាផ្ទៃខ័ណ្ឌដោយខ្សែកោង $(C_1): y = f(x)$ និង
 លើចន្លោះ $[a, b]$ ដែលគ្រប់ $x \in [a, b]: f(x) \geq g(x)$ កំនត់ដោយ៖

$$S = \int_a^b [f(x) - g(x)] \cdot dx$$

៦-គណនាមាឌសូលីដបរិវត្តន៍

ក. មាឌសូលីតបរិវត្តន៍កំនត់បានពីរង្វិលក្រឡាផ្ទៃខ័ណ្ឌដោយ
 ខ្សែកោង (c): $y = f(x)$ ជុំវិញអក្សរអាប់ស៊ីសក្នុងចន្លោះ $[a, b]$

កំនត់ដោយ
$$V = \pi \times \int_a^b [f(x)]^2 \cdot dx$$
 ។

ព្រីមីទីវ និង អង្គការ

ខ. មានសូលីតបរិក្ខណ៍កំនត់បានពីរមូលក្រឡាផ្ទៃខណ្ឌដោយខ្សែកោងពីរ:

$(c_1): y = f(x)$ និង $(c_2): y = g(x)$ ជុំវិញអ័ក្សអាប់ស៊ីសក្នុងចន្លោះ $[a, b]$

កំនត់ដោយ

$$V = \pi \times \int_a^b [f^2(x) - g^2(x)] \cdot dx$$

ដែល $\left(f(x) \geq g(x) , \forall x \in [a, b] \right)$ ។

ជំពូកទី៦

លំហាត់មានដំណោះស្រាយ

លំហាត់ទី១

គេឲ្យអាំងតេក្រាល $I_n = \int_0^1 x^n e^{-2x} .dx ; n \in \mathbb{N}$

ក/សិក្សាអថេរភាពនៃ (I_n) រួចរកទំនាក់ទំនងរវាង I_n និង I_{n+1} ។

ខ/ស្រាយថា $\forall n \geq 2 : 0 \leq I_n \leq \frac{1}{(n-1)e^2}$ ។ ទាញរក $\lim_{n \rightarrow +\infty} I_n$ ។

(ប្រឡងអាហារូបករណ៍ទៅប្រទេសចិនថ្នាក់ឧត្តមឆ្នាំ២០០២)

ដំណោះស្រាយ

ក/សិក្សាអថេរភាពនៃ (I_n) រួចរកទំនាក់ទំនងរវាង I_n និង I_{n+1} ៖

ចំពោះគ្រប់ $x \in [0,1]$ និង $n \in \mathbb{N}$ គេមាន $x^{n+1} \leq x^n$

គុណអង្គទាំងពីរនឹង e^{-2x} គេបាន $x^{n+1}e^{-2x} \leq x^n e^{-2x}$

នាំឲ្យ $\int_0^1 x^{n+1}e^{-2x} .dx \leq \int_0^1 x^n e^{-2x} .dx$ ឬ $I_{n+1} \leq I_n$ ។

ដូចនេះ I_n ជាស្វ័យគុណ ។

ម្យ៉ាងទៀត $I_n = \int_0^1 x^n e^{-2x} \cdot dx$; $n \in \mathbb{N}$ នាំឱ្យ $I_{n+1} = \int_0^1 x^{n+1} e^{-2x} \cdot dx$

តាង
$$\begin{cases} u = x^{n+1} \\ dv = e^{-2x} \cdot dx \end{cases} \Rightarrow \begin{cases} du = (n+1)x^n \cdot dx \\ v = -\frac{1}{2}e^{-2x} \end{cases}$$

គេបាន $I_{n+1} = \left[-\frac{1}{2}e^{-2x}x^{n+1} \right]_0^1 + \frac{n+1}{2} \int_0^1 x^n e^{-2x} \cdot dx$

ដូច្នេះ $I_{n+1} = -\frac{1}{2e^2} + \frac{n+1}{2}I_n$ ជាទំនាក់ទំនងដែលត្រូវរក ។

ខ/ស្រាយថា $\forall n \geq 2 : 0 \leq I_n \leq \frac{1}{(n-1)e^2}$ រួចទាញរក $\lim_{n \rightarrow +\infty} I_n$

គេមាន (I_n) ជាស្វ័យគុះនោះគេបាន $I_{n+1} \leq I_n$ តែ $I_{n+1} = -\frac{1}{2e^2} + \frac{n+1}{2}I_n$

គេបាន $-\frac{1}{2e^2} + \frac{n+1}{2}I_n \leq I_n$ នាំឱ្យ $I_n \leq \frac{1}{(n-1)e^2}$ (1)

ហើយ $\forall x \in [0,1] : x^n e^{-2x} \geq 0$ នាំឱ្យ $I_n = \int_0^1 x^n e^{-2x} \cdot dx \geq 0$ (2) ។

តាម(1)និង(2) $\forall n \geq 2 : 0 \leq I_n \leq \frac{1}{(n-1)e^2}$ និង $\lim_{n \rightarrow +\infty} I_n = 0$ ។

លំហាត់ទី២ (ប្រឡងនៅប្រទេសហ្វីលីពីន ឆ្នាំ ១៩៩៤)

1/រកបីចំនួនថេរ A, B, C ដែលគ្រប់ $x \neq -1$ គេបាន ៖

$$\frac{x}{x^3 + 1} = \frac{A}{x+1} + \frac{B(2x-1)}{x^2 - x + 1} + \frac{C}{x^2 - x + 1}$$

2/គណនា $I = \int \frac{x dx}{x^3 + 1}$

3/គ្រប់ $n > 0$ តាង $J_n = \int_0^n \frac{x}{x^3 + 1} \cdot dx$ ។

ស្រាយបញ្ជាក់ថា $\lim_{n \rightarrow +\infty} J_n = \frac{2\pi}{3\sqrt{3}}$ ។

ដំណោះស្រាយ

1/រកបីចំនួនថេរ A, B, C ៖

$$\frac{x}{x^3 + 1} = \frac{A}{x+1} + \frac{B(2x-1)}{x^2 - x + 1} + \frac{C}{x^2 - x + 1}$$

$$x = A(x^2 - x + 1) + B(2x - 1)(x + 1) + C(x + 1)$$

$$x = (A + 2B)x^2 + (-A + B + C)x + (A - B + C)$$

គេទាញ $\begin{cases} A + 2B = 0 \\ -A + B + C = 1 \\ A - B + C = 0 \end{cases}$ នាំឲ្យ $A = -\frac{1}{3}, B = \frac{1}{6}, C = \frac{1}{2}$ ។

2/គណនា $I = \int \frac{x dx}{x^3 + 1}$

ចំពោះ $A = -\frac{1}{3}, B = \frac{1}{6}, C = \frac{1}{2}$

គេមានសមភាព $\frac{x}{x^3 + 1} = -\frac{1}{3} \cdot \frac{1}{x+1} + \frac{1}{6} \cdot \frac{2x-1}{x^2-x+1} + \frac{1}{2} \cdot \frac{1}{x^2-x+1}$

គេបាន $I = -\frac{1}{3} \int \frac{dx}{x+1} + \frac{1}{6} \int \frac{2x-1}{x^2-x+1} dx + \frac{1}{2} \int \frac{dx}{x^2-x+1}$
 $= -\frac{1}{3} \ln|x+1| + \frac{1}{6} \ln|x^2-x+1| + \frac{1}{2} \int \frac{dx}{(x-\frac{1}{2})^2 + \frac{3}{4}}$

តាង $u = x - \frac{1}{2}$ នោះ $du = dx$

គេបាន $I = \frac{1}{6} \ln \frac{(x^2-x+1)}{(x+1)^2} + \frac{1}{2} \int \frac{du}{u^2 + (\frac{\sqrt{3}}{2})^2}$
 $= \frac{1}{6} \ln \frac{x^2-x+1}{(x+1)^2} + \frac{1}{2} \cdot \frac{2}{\sqrt{3}} \arctan(\frac{2u}{\sqrt{3}}) + C$ ដោយ $u = x - \frac{1}{2}$

ដូចនេះ $I = \frac{1}{6} \ln \frac{x^2-x+1}{(x+1)^2} + \frac{1}{\sqrt{3}} \arctan(\frac{2x-1}{\sqrt{3}}) + C$ ។

3/ស្រាយបញ្ជាក់ថា $\lim_{n \rightarrow +\infty} J_n = \frac{2\pi}{3\sqrt{3}}$

គ្រប់ $n > 0$ គេមាន $J_n = \int_0^n \frac{x}{x^3 + 1} \cdot dx$

តាមសម្រាយខាងលើគេមាន

$$I = \int \frac{xdx}{x^3 + 1} = \frac{1}{6} \ln \frac{x^2 - x + 1}{(x+1)^2} + \frac{1}{\sqrt{3}} \arctan\left(\frac{2x-1}{\sqrt{3}}\right) + C$$

$$\begin{aligned} \text{គេបាន } J_n &= \left[\frac{1}{6} \ln \frac{x^2 - x + 1}{(x+1)^2} + \frac{1}{\sqrt{3}} \arctan\left(\frac{2x-1}{\sqrt{3}}\right) \right]_0^n \\ &= \frac{1}{6} \ln \frac{n^2 - n + 1}{(n+1)^2} + \frac{1}{\sqrt{3}} \arctan\left(\frac{2n-1}{\sqrt{3}}\right) - \frac{1}{\sqrt{3}} \arctan\left(-\frac{1}{\sqrt{3}}\right) \\ &= \frac{1}{6} \ln \frac{n^2 - n + 1}{(n+1)^2} + \frac{1}{\sqrt{3}} \arctan\left(\frac{2n-1}{\sqrt{3}}\right) + \frac{\pi}{6\sqrt{3}} \end{aligned}$$

$$\text{គេបាន } \lim_{n \rightarrow +\infty} J_n = \lim_{n \rightarrow +\infty} \left[\frac{1}{6} \ln \frac{n^2 - n + 1}{(n+1)^2} + \frac{1}{\sqrt{3}} \arctan\left(\frac{2n-1}{\sqrt{3}}\right) + \frac{\pi}{6\sqrt{3}} \right]$$

$$\text{ដោយ } \lim_{n \rightarrow +\infty} \ln \frac{n^2 - n + 1}{(n+1)^2} = 0, \quad \lim_{n \rightarrow +\infty} \arctan\left(\frac{2n-1}{\sqrt{3}}\right) = \frac{\pi}{2}$$

$$\text{ដូចនេះ: } \lim_{n \rightarrow +\infty} J_n = \frac{\pi}{2\sqrt{3}} + \frac{\pi}{6\sqrt{3}} = \frac{2\pi}{3\sqrt{3}} \quad \checkmark$$

លំហាត់ទី៣ (ប្រឡងនៅប្រទេសម៉ាលេស៊ីឆ្នាំ ១៩៩៨)

គេឲ្យអាំងតេក្រាល $I_n = \int_0^1 x^n \sqrt{1-x} .dx$ ដែល n ជាចំនួនគត់មិនអវិជ្ជមាន

ក/រកទំនាក់ទំនងរវាង I_n និង I_{n-1} ។

ខ/គណនា $\lim_{n \rightarrow \infty} \frac{I_{n-1}}{I_n}$ ។

គ/គណនា I_0 រួចទាញរក I_n ។

ដំណោះស្រាយ

ក/រកទំនាក់ទំនងរវាង I_n និង I_{n-1} ៖

$$\text{មាន } I_n = \int_0^1 x^n \sqrt{1-x} .dx$$

$$\text{តាង } \begin{cases} u = x^n \\ dv = \sqrt{1-x} .dx \end{cases} \Rightarrow \begin{cases} du = nx^{n-1} .dx \\ v = \int \sqrt{1-x} dx = -\frac{2}{3}(1-x)\sqrt{1-x} \end{cases}$$

$$I_n = \left[-\frac{2x^n}{3}(1-x)\sqrt{1-x} \right]_0^1 + \frac{2n}{3} \int_0^1 x^{n-1}(1-x)\sqrt{1-x} dx$$

$$I_n = \frac{2n}{3} \int_0^1 x^{n-1} \sqrt{1-x} dx - \frac{2n}{3} \int_0^1 x^n \sqrt{1-x} dx$$

$$I_n = \frac{2n}{3} I_{n-1} - \frac{2n}{3} I_n$$

$$\left(1 + \frac{2n}{3}\right) I_n = \frac{2n}{3} I_{n-1}$$

ដូចនេះ $I_n = \frac{2n}{2n+3} I_{n-1}$ ជាទំនាក់ទំនងដែលត្រូវរក ។

ខ/គណនា $\lim_{n \rightarrow \infty} \frac{I_{n-1}}{I_n}$

តាមសម្រាយខាងលើគេមាន $I_n = \frac{2n}{2n+3} I_{n-1}$

$$\text{នោះ } \frac{I_{n-1}}{I_n} = \frac{2n+3}{2n} = 1 + \frac{3}{2n}$$

គេបាន $\lim_{n \rightarrow \infty} \frac{I_{n-1}}{I_n} = \lim_{n \rightarrow \infty} \left(1 + \frac{3}{2n}\right) = 1$ ។ ដូចនេះ $\lim_{n \rightarrow \infty} \frac{I_{n-1}}{I_n} = 1$ ។

គ/គណនា I_0 រួចទាញរក I_n ៖

$$\text{បើ } n = 0 \text{ នោះ } I_0 = \int_0^1 \sqrt{1-x} dx$$

តាង $\sqrt{1-x} = t$ នាំឲ្យ $x = 1-t^2$ នោះ $dx = -t dt$

បើ $x = 0$ នោះ $t = 1$ និង $x = 1$ នោះ $t = 0$

$$\text{គេបាន } I_0 = \int_1^0 t \cdot (-2t dt) = \int_0^1 2t^2 \cdot dx = \left[\frac{2}{3} t^3 \right]_0^1 = \frac{2}{3}$$

$$\text{ដូចនេះ } I_0 = \frac{2}{3} \quad \text{។ ម្យ៉ាងទៀត } I_n = \frac{2n}{2n+3} I_{n-1} \quad \text{នោះ } \frac{I_n}{I_{n-1}} = \frac{2n}{2n+3}$$

$$\text{បើ } n = 1 \quad \text{នោះ } \frac{I_1}{I_0} = \frac{2}{5}$$

$$\text{បើ } n = 2 \quad \text{នោះ } \frac{I_2}{I_1} = \frac{4}{7}$$

$$\text{បើ } n = 3 \quad \text{នោះ } \frac{I_3}{I_2} = \frac{6}{9}$$

$$\text{បើ } n = n \quad \text{នោះ } \frac{I_{n-1}}{I_n} = \frac{2n}{2n+3}$$

$$\text{គុណអង្គនិងអង្គគេបាន } \frac{I_n}{I_0} = \frac{2 \times 4 \times 6 \times \dots \times 2n}{5 \times 7 \times 9 \times \dots \times (2n+3)} \quad \text{ដោយ } I_0 = \frac{2}{3}$$

$$\text{ដូចនេះ } I_n = \frac{2 \times 4 \times 6 \times \dots \times 2n}{5 \times 7 \times 9 \times \dots \times (2n+3)} \times \frac{2}{3} \quad \text{។}$$

លំហាត់ទី៤ (ប្រឡងអាហារូបករណ៍ប្រទេសចិនឆ្នាំ១៩៩៦)

គេឲ្យអាំងតេក្រាល $I_n = \int_0^{\frac{\pi}{2}} \cos^n x \cdot dx$, $n \in \mathbb{N}$

1/រកទំនាក់ទំនងរវាង I_n និង I_{n-2} ។

2/ទាញរក I_{2p} និង I_{2p+1} ដែល $p \in \mathbb{N}$ ។

ដំណោះស្រាយ

1/រកទំនាក់ទំនងរវាង I_n និង I_{n-2} ៖

មាន $I_n = \int_0^{\frac{\pi}{2}} \cos^n x \cdot dx = \int_0^{\frac{\pi}{2}} \cos^{n-1} x \cdot \cos x \cdot dx$, $n \in \mathbb{N}$

តាង $\begin{cases} u = \cos^{n-1} x \\ dv = \cos x \cdot dx \end{cases} \Rightarrow \begin{cases} du = -(n-1) \sin x \cos^{n-2} x \cdot dx \\ v = \sin x \end{cases}$

$$I_n = \left[\cos^{n-1} x \sin x \right]_0^{\frac{\pi}{2}} + (n-1) \int_0^{\frac{\pi}{2}} \sin^2 x \cos^{n-2} x \cdot dx$$

$$I_n = (n-1) \int_0^{\frac{\pi}{2}} (1 - \cos^2 x) \cos^{n-2} x \cdot dx$$

$$I_n = (n-1) \int_0^{\frac{\pi}{2}} \cos^{n-2} x \cdot dx - (n-1) \int_0^{\frac{\pi}{2}} \cos^n x \cdot dx$$

$$I_n = (n-1)I_{n-2} - (n-1)I_n \Rightarrow I_n = \frac{n-1}{n} \cdot I_{n-2}$$

ដូចនេះ: $I_n = \frac{n-1}{n} I_{n-2}$,

2/ ទាញរក I_{2p} និង I_{2p+1} ដែល $p \in \mathbb{N}$:

គេមាន $I_n = \frac{n-1}{n} I_{n-2}$ នៅ: $\frac{I_n}{I_{n-2}} = \frac{n-1}{n}$

- បើ $n = 2k$ នៅ: $\frac{I_{2k}}{I_{2k-2}} = \frac{2k-1}{2k}$

គេបាន $\prod_{k=1}^p \frac{I_{2k}}{I_{2k-2}} = \prod_{k=1}^p \frac{2k-1}{2k}$

$$\frac{I_2}{I_0} \cdot \frac{I_4}{I_2} \cdot \frac{I_6}{I_4} \cdots \frac{I_{2p}}{I_{2p-2}} = \frac{1 \times 3 \times 5 \times \dots \times (2p-1)}{2 \times 4 \times 6 \times \dots \times 2p}$$

$$I_{2p} = \frac{1 \times 3 \times 5 \times \dots \times (2p-1)}{2 \times 4 \times 6 \times \dots \times 2p} \times I_0$$

តែ $I_0 = \int_0^{\frac{\pi}{2}} dx = \frac{\pi}{2}$ ដូចនេះ: $I_{2p} = \frac{1 \times 3 \times 5 \times \dots \times (2p-1)}{2 \times 4 \times 6 \times \dots \times 2p} \times \frac{\pi}{2}$ ។

-បើ $n = 2k + 1$ នោះ $\frac{I_{2k+1}}{I_{2k-1}} = \frac{2k}{2k+1}$

គេបាន $\prod_{k=1}^p \frac{I_{2k+1}}{I_{2k-1}} = \prod_{k=1}^n \frac{2k}{2k+1}$

$$\frac{I_3}{I_1} \cdot \frac{I_5}{I_3} \cdot \frac{I_7}{I_5} \cdots \frac{I_{2p+1}}{I_{2p-1}} = \frac{2 \times 4 \times 6 \times \dots \times 2p}{3 \times 5 \times 7 \times \dots \times 2p+1}$$

$$I_{2p+1} = \frac{2 \times 4 \times 6 \times \dots \times (2p)}{3 \times 5 \times 7 \times \dots \times 2p+1} \times I_1$$

តែ $I_1 = \int_0^{\frac{\pi}{2}} \cos x dx = [\sin x]_0^{\frac{\pi}{2}} = 1$

ដូច្នេះ $I_{2p+1} = \frac{2 \times 4 \times 6 \times \dots \times (2p)}{3 \times 5 \times 7 \times \dots \times 2p+1}$ ។

លំហាត់ទី៥ (ប្រឡងនៅប្រទេសអូស្ត្រាលីផ្នែកអេឡិចត្រូនិក)

គេឲ្យអាំងតេក្រាល $I_n = \int_0^1 x^n \sqrt{1-x} .dx$ ដែល $n = 0,1,2,\dots$

ក/រក I_0 រួចបង្កើតទំនាក់ទំនងរវាង I_n និង I_{n-1} ។ គណនា I_n ។

ខ/ស្រាយបញ្ជាក់ថា $I_n < \frac{1}{\sqrt{(n+1)^3}}$ ។

ដំណោះស្រាយ

ក/រក I_0 រួចបង្កើតទំនាក់ទំនងរវាង I_n និង I_{n-1} ៖

$$\text{បើ } n = 0 \text{ នោះ } I_0 = \int_0^1 \sqrt{1-x} .dx$$

តាង $\sqrt{1-x} = t$ នាំឲ្យ $x = 1-t^2$ នោះ $dx = -2t .dt$

បើ $x = 0$ នោះ $t = 1$ និង $x = 1$ នោះ $t = 0$

$$\text{គេបាន } I_0 = \int_1^0 t .(-2t dt) = \int_0^1 2t^2 .dx = \left[\frac{2}{3} t^3 \right]_0^1 = \frac{2}{3}$$

$$\text{ដូចនេះ } I_0 = \frac{2}{3} \quad \text{។}$$

$$\text{ម្យ៉ាងទៀតគេមាន } I_n = \int_0^1 x^n \sqrt{1-x} .dx$$

$$\text{តាង } \begin{cases} u = x^n \\ dv = \sqrt{1-x} \cdot dx \end{cases} \Rightarrow \begin{cases} du = nx^{n-1} \cdot dx \\ v = \int \sqrt{1-x} dx = -\frac{2}{3}(1-x)\sqrt{1-x} \end{cases}$$

$$I_n = \left[-\frac{2x^n}{3}(1-x)\sqrt{1-x} \right]_0^1 + \frac{2n}{3} \int_0^1 x^{n-1}(1-x)\sqrt{1-x} dx$$

$$I_n = \frac{2n}{3} \int_0^1 x^{n-1} \sqrt{1-x} \cdot dx - \frac{2n}{3} \int_0^1 x^n \sqrt{1-x} \cdot dx$$

$$I_n = \frac{2n}{3} I_{n-1} - \frac{2n}{3} I_n$$

$$\left(1 + \frac{2n}{3}\right) I_n = \frac{2n}{3} I_{n-1}$$

ដូចនេះ $I_n = \frac{2n}{2n+3} I_{n-1}$ ជាទំនាក់ទំនងដែលត្រូវរក ។

គណនា I_n ៖

គេមាន $I_n = \frac{2n}{2n+3} I_{n-1}$ នោះ $\frac{I_n}{I_{n-1}} = \frac{2n}{2n+3}$

គេបាន $\prod_{k=1}^n \frac{I_k}{I_{k-1}} = \prod_{k=1}^n \frac{2k}{2k+3}$

ឬ $\frac{I_n}{I_0} = \frac{2 \times 4 \times 6 \times \dots \times 2n}{5 \times 7 \times 9 \times \dots \times (2n+3)}$ ដោយ $I_0 = \frac{2}{3}$

ដូចនេះ $I_n = \frac{2 \times 4 \times 6 \times \dots \times 2n}{5 \times 7 \times 9 \times \dots \times (2n+3)} \times \frac{2}{3}$ ។

ខ/ស្រាយបញ្ជាក់ថា $I_n < \frac{1}{\sqrt{(n+1)^3}}$

$$\begin{aligned} \text{គេមាន } I_n &= \frac{2 \times 4 \times 6 \times \dots \times 2n}{5 \times 7 \times 9 \times \dots \times (2n+3)} \times \frac{2}{3} \\ &= \frac{2 \times 4 \times 6 \times \dots \times (2n+2)}{3 \times 5 \times 7 \times \dots \times (2n+3)} \times \frac{1}{n+1} = \frac{1}{n+1} \prod_{k=1}^{n+1} \frac{2k}{2k+1} \end{aligned}$$

តាមវិសមភាពមធ្យមនព្វន្ត និង មធ្យមធរណីមាត្រចំពោះគ្រប់ $k \in \mathbb{N}$

$$\text{គេមាន } (2k) + (2k+2) \geq 2\sqrt{(2k)(2k+2)} \quad \text{ឬ} \quad 2k+1 \geq \sqrt{2k(2k+2)}$$

$$\text{គេទាញ } \frac{2k}{2k+1} \leq \frac{2k}{\sqrt{2k(2k+2)}} = \sqrt{\frac{k}{k+1}}$$

$$\text{គេបាន } I_n \leq \frac{1}{n+1} \prod_{k=1}^{n+1} \sqrt{\frac{k}{k+1}} = \frac{1}{(n+1)\sqrt{n+2}} < \frac{1}{(n+1)\sqrt{n+1}}$$

$$\text{ដូចនេះ } I_n < \frac{1}{\sqrt{(n+1)^3}} \quad \square$$

លំហាត់ទី៦

គេឲ្យអនុគមន៍ f និង g កំណត់ដោយ ៖

$$f(x) = \begin{cases} \frac{\sin \pi x}{1-x} & \text{បើ } x \neq 1 \\ \pi & \text{បើ } x = 1 \end{cases} \quad \text{និង}$$

$$g(x) = \begin{cases} \frac{x^n \sin \pi x}{1-x} & \text{បើ } 0 \leq x < 1 \\ \pi & \text{បើ } x = 1 \end{cases}$$

1/ស្រាវជ្រាវថា f និង g ជាអនុគមន៍ជាប់លើចន្លោះ $[0,1]$ ។

2/គណនា $S_n = I_0 + I_1 + I_2 + \dots + I_{n-1}$ ដែល $I_n = \int_0^1 x^n \sin \pi x \cdot dx$ ។

3/ស្រាយថា $S_n = \int_0^1 f(x) \cdot dx - \int_0^1 g(x) \cdot dx$ រួចទាញថា $\lim_{n \rightarrow +\infty} S_n = \int_0^1 \frac{\sin x}{x} \cdot dx$

ដំណោះស្រាយ

1/ស្រាវជ្រាវថា f និង g ជាអនុគមន៍ជាប់លើចន្លោះ $[0,1]$

គេមាន $\lim_{x \rightarrow 1} \frac{\sin \pi x}{1-x} = \lim_{t \rightarrow 0} \frac{\sin \pi(1-t)}{t} = \lim_{t \rightarrow 0} \frac{\sin \pi}{\pi t} \times \pi = \pi = f(1)$

ដូចគ្នាដែរ $\lim_{x \rightarrow 1} g(x) = \lim_{x \rightarrow 1} \frac{x^n \sin \pi x}{1-x} = \lim_{x \rightarrow 1} [x^n f(x)] = \pi = g(1)$

ដូចនេះ f ជាអនុគមន៍ជាប់លើ $[0,1]$ ។

$$2/\text{គណនា } S_n = I_0 + I_1 + I_2 + \dots + I_{n-1} \quad \text{ដែល } I_n = \int_0^1 x^n \sin \pi x \cdot dx$$

$$\begin{aligned} \text{គេបាន } S_n &= \int_0^1 (1 + x + x^2 + \dots + x^{n-1}) \sin \pi x \cdot dx = \int_0^1 \frac{1 - x^n}{1 - x} \sin \pi x \cdot dx \\ &= \int_0^1 \frac{\sin \pi x}{1 - x} \cdot dx - \int_0^1 \frac{x^n \sin \pi x}{1 - x} \cdot dx \quad \text{។} \end{aligned}$$

$$3/\text{ស្រាយថា } S_n = \int_0^1 f(x) \cdot dx - \int_0^1 g(x) \cdot dx \quad \text{និង } \lim_{n \rightarrow +\infty} S_n = \int_0^1 \frac{\sin x}{x} \cdot dx$$

$$\text{គេមាន } = \int_0^1 \frac{\sin \pi x}{1 - x} \cdot dx - \int_0^1 \frac{x^n \sin \pi x}{1 - x} \cdot dx \quad \text{។}$$

$$\text{ដោយ } f(x) = \frac{\sin \pi x}{1 - x} \quad \text{និង } g(x) = \frac{x^n \sin \pi x}{1 - x} \quad \text{កំណត់ជាប់លើ } [0,1] \quad \text{។}$$

$$\text{ដូចនេះ } S_n = \int_0^1 f(x) \cdot dx - \int_0^1 g(x) \cdot dx \quad \text{។}$$

ដោយ f និង g ជាអនុគមន៍កំណត់ និង ជាប់លើ $[0,1]$

នោះគ្រប់ $x \in [0,1]$ មាន $M > 0$ ដែល $|f(x)| < M$

ហើយនិង $|g(x)| = x^n |f(x)| < M \cdot x^n$ ។

$$\text{នាំឱ្យ } \left| \int_0^1 g(x).dx \right| \leq \int_0^1 |g(x)| dx < M \cdot \int_0^1 x^n .dx = \frac{M}{n+1}$$

$$\text{ដោយ } \lim_{n \rightarrow +\infty} \frac{M}{n+1} = 0 \quad \text{នោះ: } \lim_{n \rightarrow \infty} \int_0^1 g(x).dx = 0$$

$$\text{គេទាញ } \lim_{n \rightarrow +\infty} S_n = \int_0^1 \frac{\sin \pi x}{1-x} .dx \quad (1)$$

$$\text{តាង } 1-x = t \text{ ឬ } x = 1-t \Rightarrow dx = -dt$$

$$\text{បើ } x = 0 \text{ នោះ: } t = 1 \text{ និង } x = 1 \text{ នោះ: } t = 0$$

$$\text{គេបាន } \int_0^1 \frac{\sin \pi x}{1-x} .dx = \int_1^0 \frac{\sin \pi(1-t)}{t} (-dt) = \int_0^1 \frac{\sin \pi t}{t} .dt \quad (2)$$

$$\text{តាង } x = \pi t \Rightarrow dx = \pi .dt$$

$$\text{បើ } t = 0 \text{ នោះ: } x = 0 \text{ និង } t = 1 \text{ នោះ: } t = \pi$$

$$\text{គេបាន } \int_0^1 \frac{\sin \pi t}{t} .dt = \int_0^\pi \frac{\sin x}{x} .dx \quad (3)$$

$$\text{តាម (1) , (2) និង (3) គេបាន } \lim_{n \rightarrow +\infty} S_n = \int_0^\pi \frac{\sin x}{x} .dx \text{ ពិត ។}$$

លំហាត់ទី៧

លើអង្កត់ $[0, \frac{\pi}{2}]$ ដែលត្រូវនឹងចំនួនគត់ធម្មជាតិ $n \in \mathbb{N}$ គេកំណត់អនុគមន៍

$$f_n(x) = \begin{cases} \frac{\sin(nx)}{\sin x} & \text{បើ } x > 0 \\ n & \text{បើ } x = 0 \end{cases}$$

1/ស្រាយថា $f_n(x)$ មានអាំងតេក្រាលលើ អង្កត់ $[0, \frac{\pi}{2}]$ ។

2/តាង $I_n = \int_0^{\frac{\pi}{2}} f_n(x).dx$ ។ រកទំនាក់ទំនងរវាង I_{2n+1} និង I_{2n-1} ។

ដំណោះស្រាយ

1/ស្រាយថា $f_n(x)$ មានអាំងតេក្រាលលើ អង្កត់ $[0, \frac{\pi}{2}]$ ៖

$$\text{គេមាន } \lim_{x \rightarrow 0} f_n(x) = \lim_{x \rightarrow 0} \frac{\sin(nx)}{\sin x} = n \lim_{x \rightarrow 0} \frac{\sin(nx)}{(nx)} \cdot \frac{x}{\sin x} = n = f(0)$$

នាំឲ្យ f_n ជាអនុគមន៍ជាប់ត្រង់ $x = 0$ នោះ f_n ជាប់លើ $[0, \frac{\pi}{2}]$ ។

ដូចនេះ $f_n(x)$ មានអាំងតេក្រាលលើ $[0, \frac{\pi}{2}]$ ។

2/ រកទំនាក់ទំនងរវាង I_{2n+1} និង I_{2n-1}

$$\text{គឺមាន } I_n = \int_0^{\frac{\pi}{2}} \frac{\sin(nx)}{\sin x} \cdot dx \quad \text{នោះ } I_{2n-1} = \int_0^{\frac{\pi}{2}} \frac{\sin(2n-1)x}{\sin x} \cdot dx$$

$$\text{និង } I_{2n+1} = \int_0^{\frac{\pi}{2}} \frac{\sin(2n+1)x}{\sin x} \cdot dx \quad \text{។}$$

$$\begin{aligned} \text{គឺបាន } I_{2n+1} - I_{2n-1} &= \int_0^{\frac{\pi}{2}} \frac{\sin(2n+1)x - \sin(2n-1)x}{\sin x} \cdot dx \\ &= \int_0^{\frac{\pi}{2}} \frac{2 \sin x \cos(2nx)}{\sin x} \cdot dx \\ &= 2 \int_0^{\frac{\pi}{2}} \cos(2nx) \cdot dx = \frac{1}{n} [\sin(2nx)]_0^{\frac{\pi}{2}} = 0 \end{aligned}$$

$$\text{ដូច្នេះ } I_{2n+1} = I_{2n-1} \quad \text{។}$$

លំហាត់ទី៨

គេឲ្យ $I_n = \int_0^{\frac{\pi}{2}} \sin^n x \cdot dx$ ដែល n ជាចំនួនគត់មិនអវិជ្ជមាន ។

1/រកទំនាក់ទំនងរវាង I_n និង I_{n+2} ។

2/ស្រាយបញ្ជាក់ថាអនុគមន៍ $f(n) = (n+1)I_n \cdot I_{n+1}$

ផ្ទៀងផ្ទាត់ $f(n+1) = f(n)$ ។

3/គណនា $f(n)$ ។

ដំណោះស្រាយ

1/រកទំនាក់ទំនងរវាង I_n និង I_{n+2} ៖

គេមាន $I_n = \int_0^{\frac{\pi}{2}} \sin^n x \cdot dx$ នៅ៖ $I_{n+2} = \int_0^{\frac{\pi}{2}} \sin^{n+2} x \cdot dx = \int_0^{\frac{\pi}{2}} \sin^{n+1} x \cdot \sin x \cdot dx$

តាង $\begin{cases} u = \sin^{n+1} x \\ dv = \sin x \cdot dx \end{cases} \Rightarrow \begin{cases} du = (n+1) \cos x \sin^n x \cdot dx \\ v = -\cos x \end{cases}$

គេបាន $I_{n+2} = \left[-\sin^{n+1} x \cos x \right]_0^{\frac{\pi}{2}} + (n+1) \int_0^{\frac{\pi}{2}} \cos^2 x \sin^n x \cdot dx$

$$I_{n+2} = (n+1) \int_0^{\frac{\pi}{2}} (1 - \sin^2 x) \sin^n x \cdot dx$$

$$I_{n+2} = (n+1) \int_0^{\frac{\pi}{2}} \sin^n x \cdot dx - (n+1) \int_0^{\frac{\pi}{2}} \sin^{n+2} x \cdot dx$$

$$I_{n+2} = (n+1)I_n - (n+1)I_{n+2} \quad \text{នាំឱ្យ } I_{n+2} = \frac{n+1}{n+2} I_n \quad \text{។}$$

2/បញ្ជាក់ថាអនុគមន៍ $f(n) = (n+1)I_n \cdot I_{n+1}$ ផ្ទៀងផ្ទាត់ $f(n+1) = f(n)$

គេមាន $f(n) = (n+1)I_n \cdot I_{n+1}$ នោះ $f(n+1) = (n+2)I_{n+1} \cdot I_{n+2}$

តែ $I_{n+2} = \frac{n+1}{n+2} I_n$ នោះ

$$f(n+1) = (n+2) \cdot I_{n+1} \cdot \frac{n+1}{n+2} I_n = (n+1)I_n I_{n+1}$$

ដូចនេះ $f(n+1) = f(n)$ ។

3/គណនា $f(n)$ ៖

ដោយ $f(n+1) = f(n)$ នោះ $f(n)$ ជាអនុគមន៍ថេរ ។

$$\text{គេបាន } f(n) = f(0) = I_0 \cdot I_1 \quad \text{ដោយ } I_0 = \int_0^{\frac{\pi}{2}} dx = \frac{\pi}{2} \quad \text{និង } I_1 = \int_0^{\frac{\pi}{2}} \sin x \cdot dx = 1$$

ដូចនេះ $f(n) = \frac{\pi}{2}$ ។

លំហាត់ទី៩

គេឲ្យអាំងតេក្រាល $I_n = \int_0^1 x(1+x)^n \cdot dx$ ដែល $n = 0, 1, 2, \dots$ ។

តាង $S_n = I_0 + I_1 + I_2 + \dots + I_n$ ។

ក/ចូរស្រាយថា $S_n = -1 + \int_0^1 (1+x)^{n+1} \cdot dx$ ។

ខ/គណនា S_n រួចទាញរក I_n ។

គ/ដោយប្រើលទ្ធផលខាងលើចូរទាញថា៖

$$\frac{1}{2}C_n^0 + \frac{1}{3}C_n^1 + \frac{1}{4}C_n^2 + \dots + \frac{1}{n+2}C_n^n = \frac{n \cdot 2^{n+1} + 1}{(n+1)(n+2)} \quad \text{។}$$

ដំណោះស្រាយ

ក/ស្រាយថា $S_n = -1 + \int_0^1 (1+x)^{n+1} \cdot dx$

គេមាន $I_n = \int_0^1 x(1+x)^n \cdot dx = \int_0^1 [(x+1) - 1](1+x)^n \cdot dx$

$$I_n = \int_0^1 (x+1)^{n+1} \cdot dx - \int_0^1 (x+1)^n \cdot dx$$

$$\begin{aligned} \text{គេបាន } S_n &= \sum_{k=0}^n (I_k) = \sum_{k=0}^n \left[\int_0^1 (1+x)^{k+1} \cdot dx - \int_0^1 (1+x)^k \cdot dx \right] \\ &= \int_0^1 (1+x)^{n+1} \cdot dx - \int_0^1 dx \quad \text{ដោយ } \int_0^1 dx = 1 \end{aligned}$$

$$\text{ដូចនេះ } S_n = -1 + \int_0^1 (1+x)^{n+1} \cdot dx \quad \text{។}$$

ខ/គណនា S_n រួចទាញរក I_n ៖

$$\begin{aligned} \text{គេមាន } S_n &= -1 + \int_0^1 (1+x)^{n+1} \cdot dx \\ &= -1 + \left[\frac{1}{n+2} (1+x)^{n+2} \right]_0^1 = -1 + \frac{2^{n+2} - 1}{n+2} \end{aligned}$$

$$\text{ដូចនេះ } S_n = -1 + \frac{2^{n+2} - 1}{n+2} \quad \text{។}$$

ម្យ៉ាងទៀត $S_n = I_0 + I_1 + \dots + I_n = S_{n-1} + I_n$ នោះ $I_n = S_n - S_{n-1}$

$$I_n = \left(-1 + \frac{2^{n+2} - 1}{n+2} \right) - \left(-1 + \frac{2^{n+1} - 1}{n+1} \right) = \frac{n \cdot 2^{n+1} + 1}{(n+1)(n+2)}$$

$$\text{ដូចនេះ } I_n = \frac{n \cdot 2^{n+1} + 1}{(n+1)(n+2)} \quad \text{។}$$

គ/ដោយប្រើលទ្ធផលខាងលើចូរទាញថា៖

$$\frac{1}{2}C_n^0 + \frac{1}{3}C_n^1 + \frac{1}{4}C_n^2 + \dots + \frac{1}{n+2}C_n^n = \frac{n \cdot 2^{n+1} + 1}{(n+1)(n+2)}$$

តាមទ្រឹស្តីប្រូប៊ីណូមីយ៉ាល់ $(1+x)^n = C_n^0 + C_n^1x + C_n^2x^2 + \dots + C_n^nx^n$

គុណអង្គទាំងពីរនឹង x គេបាន ៖

$$x(1+x)^n = C_n^0x + C_n^1x^2 + C_n^2x^3 + \dots + C_n^nx^{n+1}$$

ធ្វើអាំងតេក្រាលកំណត់ពី 0 ទៅ 1 លើសមភាពនេះគេបាន ៖

$$\int_0^1 x(1+x)^n \cdot dx = \int_0^1 (C_n^0x + C_n^1x^2 + C_n^2x^3 + \dots + C_n^nx^{n+1}) \cdot dx$$

$$I_n = \left[\frac{1}{2}C_n^0x^2 + \frac{1}{3}C_n^1x^3 + \frac{1}{4}C_n^2x^4 + \dots + \frac{1}{n+2}C_n^nx^{n+2} \right]_0^1$$

$$I_n = \frac{1}{2}C_n^0 + \frac{1}{3}C_n^1 + \frac{1}{4}C_n^2 + \dots + \frac{1}{n+2}C_n^n$$

ដោយ $I_n = \frac{n \cdot 2^{n+1} + 1}{(n+1)(n+2)}$ (តាមសម្រាយខាងលើ)

$$\text{ដូចនេះ: } \frac{1}{2}C_n^0 + \frac{1}{3}C_n^1 + \frac{1}{4}C_n^2 + \dots + \frac{1}{n+2}C_n^n = \frac{n \cdot 2^{n+1} + 1}{(n+1)(n+2)} \quad \text{។}$$

លំហាត់ទី១០ (ប្រឡងសាលាច្បាប់-សេដ្ឋកិច្ច ២៦/១០/១៩៩៧)

គេឲ្យ $I_n = \int_0^{\frac{\pi}{2}} \cos^n x \cdot dx, n \in \mathbb{N}$

ក/រកទំនាក់ទំនង I_n និង I_{n-2} ដែលមាន n ។

ខ/គេសន្មត $I_{2p} = \frac{1 \times 3 \times \dots \times (2p-1)}{2 \times 4 \times 6 \times \dots \times (2p)} \times \frac{\pi}{2}$

និង $I_{2p+1} = \frac{2 \times 4 \times 6 \times \dots \times 2p}{1 \times 3 \times 5 \times \dots \times (2p+1)}$ ។ បញ្ជាក់ថា $\frac{I_{2p+2}}{I_{2p}} \leq \frac{I_{2p+1}}{I_{2p}} \leq 1$

រួចទាញរក $\lim_{p \rightarrow +\infty} \frac{(2 \times 4 \times 6 \times \dots \times 2p)^2}{[1 \times 3 \times 5 \times \dots \times (2p-1)]^2} \times \frac{1}{2p+1}$ ។

ដំណោះស្រាយ

ក/រកទំនាក់ទំនង I_n និង I_{n-2} ដែលមាន n ៖

មាន $I_n = \int_0^{\frac{\pi}{2}} \cos^n x \cdot dx = \int_0^{\frac{\pi}{2}} \cos^{n-1} x \cdot \cos x \cdot dx, n \in \mathbb{N}$

តាំង $\begin{cases} u = \cos^{n-1} x \\ dv = \cos x \cdot dx \end{cases} \Rightarrow \begin{cases} du = -(n-1) \sin x \cos^{n-2} x \cdot dx \\ v = \sin x \end{cases}$

$$I_n = \left[\cos^{n-1} x \sin x \right]_0^{\frac{\pi}{2}} + (n-1) \int_0^{\frac{\pi}{2}} \sin^2 x \cos^{n-2} x \cdot dx$$

$$I_n = (n-1) \int_0^{\frac{\pi}{2}} (1 - \cos^2 x) \cos^{n-2} x \, dx$$

$$I_n = (n-1) \int_0^{\frac{\pi}{2}} \cos^{n-2} x \, dx - (n-1) \int_0^{\frac{\pi}{2}} \cos^n x \, dx$$

$$I_n = (n-1)I_{n-2} - (n-1)I_n \Rightarrow I_n = \frac{n-1}{n} \cdot I_{n-2}$$

ដូចនេះ: $I_n = \frac{n-1}{n} I_{n-2} \quad \forall$

ខ/បង្ហាញថា $\frac{I_{2p+2}}{I_{2p}} \leq \frac{I_{2p+1}}{I_{2p}} \leq 1$

គ្រប់ $x \in [0, \frac{\pi}{2}]$ និង $p \in \mathbb{N}$ គេមាន $\cos^{2p+2} x \leq \cos^{2p+1} x \leq \cos^{2p} x$

គេបាន $\int_0^{\frac{\pi}{2}} \cos^{2p+2} x \, dx \leq \int_0^{\frac{\pi}{2}} \cos^{2p+1} x \, dx \leq \int_0^{\frac{\pi}{2}} \cos^{2p} x \, dx$

ឬ $I_{2p+2} \leq I_{2p+1} \leq I_{2p}$ នាំឱ្យ $\frac{I_{2p+2}}{I_{2p}} \leq \frac{I_{2p+1}}{I_{2p}} \leq 1 \quad \forall$

ទាញរក $\lim_{p \rightarrow +\infty} \frac{(2 \times 4 \times 6 \times \dots \times 2p)^2}{[1 \times 3 \times 5 \times \dots \times (2p-1)]^2} \times \frac{1}{2p+1} \quad \circ$

គេមាន $I_n = \frac{n-1}{n} I_{n-2}$ នៅ: $I_{2p+2} = \frac{2p+1}{2p} I_{2p}$ ឬ $\frac{I_{2p+2}}{I_{2p}} = \frac{2p+1}{2p}$

ដោយ $\frac{I_{2p+2}}{I_{2p}} \leq \frac{I_{2p+1}}{I_{2p}} \leq 1$ នោះ $\frac{2p+1}{2p} \leq \frac{I_{2p+1}}{I_{2p}} \leq 1$

ដោយ $\lim_{p \rightarrow +\infty} \frac{2p+1}{2p} = 1$ គេទាញ $\lim_{n \rightarrow +\infty} \frac{I_{2p+1}}{I_{2p}} = 1$ ។

មិន $I_{2p} = \frac{1 \times 3 \times \dots \times (2p-1)}{2 \times 4 \times 6 \times \dots \times (2p)} \times \frac{\pi}{2}$ និង $I_{2p+1} = \frac{2 \times 4 \times 6 \times \dots \times 2p}{1 \times 3 \times 5 \times \dots \times (2p+1)}$

គេបាន $\frac{I_{2p+1}}{I_{2p}} = \frac{(2 \times 4 \times 6 \times \dots \times 2p)^2}{[1 \times 3 \times 5 \times \dots \times (2p-1)]^2} \times \frac{1}{2p+1} \times \frac{2}{\pi}$

គេទាញ $\frac{(2 \times 4 \times 6 \times \dots \times 2p)^2}{[1 \times 3 \times 5 \times \dots \times (2p-1)]^2} \times \frac{1}{2p+1} = \frac{\pi}{2} \cdot \frac{I_{2p+1}}{I_{2p}}$

ដោយ $\lim_{n \rightarrow +\infty} \frac{I_{2p+1}}{I_{2p}} = 1$ (សម្រាយខាងលើ)

ដូចនេះ $\lim_{p \rightarrow +\infty} \frac{(2 \times 4 \times 6 \times \dots \times 2p)^2}{[1 \times 3 \times 5 \times \dots \times (2p-1)]^2} \times \frac{1}{2p+1} = \frac{\pi}{2}$ ។

លំហាត់ទី១១

គេឲ្យអនុគមន៍ $f(x) = \frac{1}{x(x+1)}$

1/គ្រប់ a វិជ្ជមាន គណនា $F(a) = \int_1^a f(x).dx$

2/គ្រប់ $n \in \mathbb{N}$ គេតាង $S_n = F(1) + F(2) + \dots + F(n)$ ។

គណនា S_n រួចរកលីមីតរបស់ស្វ៊ីត (S_n) កាលណា $n \rightarrow +\infty$ ។

ដំណោះស្រាយ

1/គ្រប់ a វិជ្ជមាន គណនា $F(a) = \int_1^a f(x).dx$

គេមាន $f(x) = \frac{1}{x(x+1)} = \frac{1}{x} - \frac{1}{x+1}$

គេបាន $F(a) = \int_1^a \left(\frac{1}{x} - \frac{1}{x+1}\right).dx$

$$= [\ln|x| - \ln|x+1|]_1^a = \left[\ln \left| \frac{x}{x+1} \right| \right]_1^a$$

$$= \ln\left(\frac{a}{a+1}\right) - \ln\frac{1}{2} = \ln\frac{2a}{a+1}, a > 0$$

2/គណនា S_n រួចរកលីមីតរបស់ស្រ្តីត (S_n) កាលណា $n \rightarrow +\infty$

គឺមាន $S_n = F(1) + F(2) + \dots + F(n) = \sum_{k=1}^n F(k)$ ដោយ $F(a) = \ln \frac{2a}{a+1}$

គឺបាន $S_n = \sum_{k=1}^n \ln\left(\frac{2k}{k+1}\right) = \ln\left[\prod_{k=1}^n \frac{2k}{k+1}\right] = \ln \frac{2^n}{n+1}$

ដូចនេះ $S_n = \ln \frac{2^n}{n+1}$ ។

ហើយ $\lim_{n \rightarrow +\infty} S_n = \lim_{n \rightarrow +\infty} \ln \frac{2^n}{n+1} = +\infty$ (ព្រោះ $\lim_{n \rightarrow \infty} \frac{2^n}{n+1} = +\infty$) ។

លំហាត់ទី១២

គណនាអាំងតេក្រាល $I = \int_0^1 \sqrt{\frac{x}{x^3 + 1}} \cdot dx$

ដំណោះស្រាយ

គណនាអាំងតេក្រាល $I = \int_0^1 \sqrt{\frac{x}{x^3 + 1}} \cdot dx$

គេអាចសរសេរ $I = \int_0^1 \frac{1}{\sqrt{x^3 + 1}} \cdot dx$ តាង $t = x^{\frac{3}{2}}$ នោះ $dt = \frac{3}{2} x^{\frac{1}{2}} \cdot dx$

បើ $x = 0$ នោះ $t = 0$ និង $x = 1$ នោះ $t = 1$ ។

គេបាន $I = \frac{2}{3} \int_0^1 \frac{dt}{\sqrt{t^2 + 1}}$ តាង $t = \tan \varphi$ នោះ $dt = (1 + \tan^2 \varphi) d\varphi$

បើ $t = 0$ នោះ $\varphi = 0$ និង $t = 1$ នោះ $\varphi = \frac{\pi}{4}$ ។

គេបាន $I = \frac{2}{3} \int_0^{\frac{\pi}{4}} \frac{(1 + \tan^2 \varphi) d\varphi}{\sqrt{1 + \tan^2 \varphi}} = \frac{2}{3} \int_0^{\frac{\pi}{4}} \frac{d\varphi}{\cos \varphi} = \frac{2}{3} \int_0^{\frac{\pi}{4}} \frac{\cos \varphi \cdot d\varphi}{1 - \sin^2 \varphi}$

តាង $u = \sin \varphi$ នោះ $du = \cos \varphi \cdot d\varphi$

បើ $\varphi = 0$ នោះ $u = 0$ និង $\varphi = \frac{\pi}{4}$ នោះ $u = \frac{1}{\sqrt{2}}$

$$\text{គឺបាន } I = \frac{2}{3} \int_0^{\frac{1}{\sqrt{2}}} \frac{du}{1-u^2} = \frac{1}{3} \int_0^{\frac{1}{\sqrt{2}}} \left(\frac{1}{1-u} + \frac{1}{1+u} \right) du$$

$$I = \frac{1}{3} \left[-\ln|1-u| + \ln|1+u| \right]_0^{\frac{1}{\sqrt{2}}} = \frac{1}{3} \ln\left(\frac{\sqrt{2}+1}{\sqrt{2}-1}\right)$$

$$\text{ដោយ } \frac{\sqrt{2}+1}{\sqrt{2}-1} = (\sqrt{2}+1)^2 \text{ នោះ } I = \frac{1}{3} \ln(\sqrt{2}+1)^2$$

$$\text{ដូចនេះ } I = \frac{2}{3} \ln(\sqrt{2}+1) \quad \square$$

លំហាត់ទី១៣

គេឲ្យអាំងតេក្រាល $I_n = \int_0^{\pi} x \sin^n x \cdot dx$ ដែល $n = 0, 1, 2, \dots$

ក/ចូរស្រាយថា $I_n = \pi \int_0^{\frac{\pi}{2}} \sin^n x \cdot dx$ ។

ចំពោះគ្រប់ $n \geq 2$ ស្រាយថា $I_n = \frac{n-1}{n} I_{n-2}$ ។

ដំណោះស្រាយ

ក/ ស្រាយថា $I_n = \pi \int_0^{\frac{\pi}{2}} \sin^n x \cdot dx$

គេមាន $I_n = \int_0^{\pi} x \sin^n x \cdot dx$ ដែល $n = 0, 1, 2, \dots$

តាំង $x = \pi - t$ នោះ $dx = -dt$

បើ $x = 0$ នោះ $t = \pi$ និង $x = \pi$ នោះ $t = 0$

គេបាន $I_n = \int_{\pi}^0 (\pi - t) \sin^n(\pi - t) (-dt)$

$$I_n = \int_0^{\pi} (\pi - t) \sin^n t \, dt = \pi \int_0^{\pi} \sin^n t \, dt - \int_0^{\pi} t \sin^n t \, dt$$

$$I_n = \pi \int_0^{\pi} \sin^n x \, dx - I_n \quad \text{នាំឱ្យ} \quad I_n = \frac{\pi}{2} \int_0^{\pi} \sin^n x \, dx \quad (1)$$

$$\text{គេមាន} \quad \int_0^{\pi} \sin^n x \, dx = \int_0^{\frac{\pi}{2}} \sin^n x \, dx + \int_{\frac{\pi}{2}}^{\pi} \sin^n x \, dx \quad (2)$$

តាំង $x = \pi - t$ នោះ $dx = -dt$

បើ $x = \frac{\pi}{2}$ នោះ $t = \frac{\pi}{2}$ និង $x = \pi$ នោះ $t = 0$

$$\text{គេបាន} \quad \int_{\frac{\pi}{2}}^{\pi} \sin^n x \, dx = \int_{\frac{\pi}{2}}^0 \sin^n(\pi - t)(-dt) = \int_0^{\frac{\pi}{2}} \sin^n t \, dt \quad (3)$$

$$\text{តាម} \quad \text{គេបាន} \quad (3) \quad \text{និង} \quad (2) \quad \int_{\frac{\pi}{2}}^{\pi} \sin^n x \, dx = 2 \int_0^{\frac{\pi}{2}} \sin^n x \, dx \quad (4)$$

យក គេបាន (1) ជំនួសក្នុង(4) $I_n = \pi \int_0^{\frac{\pi}{2}} \sin^n x \, dx$ ពិត ។

ចំពោះគ្រប់ $n \geq 2$ ស្រាយថា $I_n = \frac{n-1}{n} I_{n-2}$

$$\text{គេមាន } I_n = \pi \int_0^{\frac{\pi}{2}} \sin^n x \, dx = \pi \int_0^{\frac{\pi}{2}} \sin^{n-1} x \cdot \sin x \, dx$$

$$\text{តាង } \begin{cases} u = \sin^{n-1} x \\ dv = \sin x \, dx \end{cases} \quad \text{នាំឱ្យ } \begin{cases} du = (n-1) \cos x \sin^{n-2} x \, dx \\ v = \int \sin x \, dx = -\cos x \end{cases}$$

$$I_n = \pi \left[-\sin^{n-1} x \cos x \right]_0^{\frac{\pi}{2}} + (n-1) \pi \int_0^{\frac{\pi}{2}} \cos^2 x \sin^{n-2} x \, dx$$

$$I_n = (n-1) \pi \int_0^{\frac{\pi}{2}} (1 - \sin^2 x) \sin^{n-2} x \, dx$$

$$I_n = (n-1) \pi \int_0^{\frac{\pi}{2}} \sin^{n-2} x \, dx - (n-1) \pi \int_0^{\frac{\pi}{2}} \sin^n x \, dx$$

$$I_n = (n-1) I_{n-2} - (n-1) I_n$$

$$\text{គេទាញ } n I_n = (n-1) I_{n-2} \quad \text{ឬ} \quad I_n = \frac{n-1}{n} I_{n-2} \quad \text{។}$$

$$\text{ដូចនេះ } I_n = \frac{n-1}{n} I_{n-2} \quad \text{។}$$

លំហាត់ទី១៤

គេឲ្យអាំងតេក្រាល ៖

$$I_n = \int_{\frac{\pi}{6}}^{\frac{\pi}{3}} \frac{\sin^n x}{\sin^n x + \cos^n x} .dx \quad \text{និង} \quad J_n = \int_{\frac{\pi}{6}}^{\frac{\pi}{3}} \frac{\cos^n x}{\sin^n x + \cos^n x} .dx$$

ចូរស្រាយថា/ក $I_n = J_n$ ។

ខ /គណនា I_n និង J_n ។

ដំណោះស្រាយ

ក/ស្រាយថា $I_n = J_n$

$$\text{មាន } I_n = \int_{\frac{\pi}{6}}^{\frac{\pi}{3}} \frac{\sin^n x}{\sin^n x + \cos^n x} .dx \quad \text{និង} \quad J_n = \int_{\frac{\pi}{6}}^{\frac{\pi}{3}} \frac{\cos^n x}{\sin^n x + \cos^n x} .dx$$

$$\text{ចំពោះ } I_n = \int_{\frac{\pi}{6}}^{\frac{\pi}{3}} \frac{\sin^n x}{\sin^n x + \cos^n x} .dx \quad \text{តាង } x = \frac{\pi}{2} - t \quad \text{នោះ } dx = -dt$$

$$\text{បើ } x = \frac{\pi}{6} \quad \text{នោះ } t = \frac{\pi}{3} \quad \text{និង } x = \frac{\pi}{3} \quad \text{នោះ } t = \frac{\pi}{6}$$

គេបាន
$$I_n = \int_{\frac{\pi}{6}}^{\frac{\pi}{3}} \frac{\sin^n(\frac{\pi}{2} - t)}{\sin^n(\frac{\pi}{2} - t) + \cos^n(\frac{\pi}{2} - t)} \cdot (-dt)$$

$$I_n = \int_{\frac{\pi}{6}}^{\frac{\pi}{3}} \frac{\cos^n t}{\cos^n t + \sin^n t} \cdot dt = J_n$$

ដូចនេះ $I_n = J_n$ ។

ខ / គណនា I_n និង J_n ៖

គេបាន
$$I_n + J_n = \int_{\frac{\pi}{6}}^{\frac{\pi}{3}} \frac{\sin^n x}{\sin^n x + \cos^n x} \cdot dx + \int_{\frac{\pi}{6}}^{\frac{\pi}{3}} \frac{\cos^n x}{\sin^n x + \cos^n x} \cdot dx$$

$$I_n + J_n = \int_{\frac{\pi}{6}}^{\frac{\pi}{3}} dx = \frac{\pi}{3} - \frac{\pi}{6} = \frac{\pi}{6} \quad \text{តែ } I_n = J_n$$

នោះ $2I_n = 2J_n = \frac{\pi}{6}$ នាំឱ្យ $I_n = J_n = \frac{\pi}{12}$ ។

ដូចនេះ $I_n = \frac{\pi}{12}$ និង $J_n = \frac{\pi}{12}$ ។

លំហាត់ទី១៥

គេឲ្យអាំងតេក្រាល $I_\alpha = \int_0^{\sqrt{\alpha}} x^3 e^{-x^2} .dx$ ដែល $\alpha > 0$ ។

គណនា I_α ជាអនុគមន៍នៃ α រួចគណនា $\lim_{\alpha \rightarrow +\infty} I_\alpha$ ។

ដំណោះស្រាយ

គណនា I_α ជាអនុគមន៍នៃ α រួចគណនា $\lim_{\alpha \rightarrow +\infty} I_\alpha$

គេមាន $I_\alpha = \int_0^{\sqrt{\alpha}} x^3 e^{-x^2} .dx$ ដែល $\alpha > 0$

តាំង $\begin{cases} u = x^2 \\ dv = xe^{-x^2} dx \end{cases}$ នាំឲ្យ $\begin{cases} du = 2x .dx \\ v = -\frac{1}{2} e^{-x^2} \end{cases}$

គេបាន $I_\alpha = \left[-\frac{x^2}{2} e^{-x^2} \right]_0^{\sqrt{\alpha}} + \int_0^{\sqrt{\alpha}} xe^{-x^2} .dx$
 $= -\frac{\alpha}{2} e^{-\alpha} - \left[\frac{1}{2} e^{-x^2} \right]_0^{\sqrt{\alpha}} = -\frac{1}{2} \alpha e^{-\alpha} - \left(\frac{1}{2} e^{-\alpha} - \frac{1}{2} \right)$

ដូចនេះ $I_\alpha = \frac{1}{2} - \frac{\alpha + 1}{2} e^{-\alpha}$ និង $\lim_{\alpha \rightarrow +\infty} I_\alpha = \frac{1}{2}$ ។

លំហាត់ទី១៦

គេមានអាំងតេក្រាល $I_n = \int_0^1 \frac{x^n}{x^2 + x + 1} \cdot dx$ ដែល $n = 0, 1, 2, \dots$

ក / ស្រាយថា (I_n) ជាស្វ៊ីតចុះ រួចគណនា $I_n + I_{n+1} + I_{n+2}$ ។

ខ / គណនាលីមីត $\lim_{n \rightarrow +\infty} (nI_n)$ ។

ដំណោះស្រាយ

ក/ ស្រាយថា (I_n) ជាស្វ៊ីតចុះ

គេមាន $I_n = \int_0^1 \frac{x^n}{x^2 + x + 1} \cdot dx$ និង $I_{n+1} = \int_0^1 \frac{x^{n+1}}{x^2 + x + 1} \cdot dx$

ចំពោះគ្រប់ $x \in [0, 1]$ និង $n \in \mathbb{N}$ គេមាន $x^n \geq x^{n+1}$

នាំឲ្យ $\frac{x^n}{x^2 + x + 1} \geq \frac{x^{n+1}}{x^2 + x + 1}$ នោះ $I_n \geq I_{n+1}$ ។

ដូចនេះ (I_n) ជាស្វ៊ីតចុះ ។

គណនា $I_n + I_{n+1} + I_{n+2} \div$

$$\begin{aligned} \text{គេបាន } I_n + I_{n+1} + I_{n+2} &= \int_0^1 \frac{x^n + x^{n+1} + x^{n+2}}{x^2 + x + 1} \cdot dx \\ &= \int_0^1 \frac{x^n(1 + x + x^2)}{x^2 + x + 1} \cdot dx \\ &= \int_0^1 x^n \cdot dx = \left[\frac{x^{n+1}}{n+1} \right]_0^1 = \frac{1}{n+1} \end{aligned}$$

ដូចនេះ $I_n + I_{n+1} + I_{n+2} = \frac{1}{n+1}$ ។

ខ / គណនាលីមីត $\lim_{n \rightarrow +\infty} (nI_n) \div$

គេមាន $I_n + I_{n+1} + I_{n+2} = \frac{1}{n+1}$ (1)

គេបាន $I_{n-2} + I_{n-1} + I_n = \frac{1}{n-1}$ (2) គ្រប់ $n \geq 2$ ។

ដោយ (I_n) ជាស្វ៊ីតចុះនោះចំពោះគ្រប់ $n \geq 2$ គេមាន

$$I_{n+2} \leq I_{n+1} \leq I_n \leq I_{n-1} \leq I_{n-2}$$

នាំឲ្យ $I_n + I_{n+1} + I_{n+2} \leq 3I_n \leq I_{n-2} + I_{n-1} + I_n$ (3)

តាម (1), (2) និង គេទាញបាន \div (3)

$$\frac{1}{n+1} \leq 3I_n \leq \frac{1}{n-1}$$

នាំឱ្យ $\frac{n}{3(n+1)} \leq nI_n \leq \frac{n}{3(n-1)}$

ដោយ $\lim_{n \rightarrow \infty} \frac{n}{3(n+1)} = \lim_{n \rightarrow \infty} \frac{n}{3(n-1)} = \frac{1}{3}$

ដូចនេះ $\lim_{n \rightarrow \infty} (nI_n) = \frac{1}{3}$ ។

លំហាត់ទី១៧

គេឲ្យអាំងតេក្រាល $I_n = \int_0^n \frac{dx}{8x^2 + 6x + 1}$ ដែល $n > 0$

គណនា I_n ជាអនុគមន៍នៃ n រួចទាញរកលីមីត $\lim_{n \rightarrow +\infty} I_n$ ។

ដំណោះស្រាយ

គណនា I_n ជាអនុគមន៍នៃ n រួចទាញរកលីមីត $\lim_{n \rightarrow +\infty} I_n$

គេមាន $I_n = \int_0^n \frac{dx}{8x^2 + 6x + 1}$ ដែល $n > 0$

តាង $f(x) = \frac{1}{8x^2 + 6x + 1} = \frac{1}{(2x + 1)(4x + 1)}$

សរសេរ $f(x)$ ជាពងកាណូនិច្ច $f(x) = \frac{a}{2x + 1} + \frac{b}{4x + 1}$

គេបាន $\frac{a}{2x + 1} + \frac{b}{4x + 1} = \frac{1}{8x^2 + 6x + 1}$

នាំឲ្យ $a(4x + 1) + b(2x + 1) = 1$

ឬ $(4a + 2b)x + (a + b) = 1$

គេទាញ $\begin{cases} 4a + 2b = 0 \\ a + b = 1 \end{cases}$ នាំឲ្យ $a = -1, b = 2$

គេបាន $f(x) = -\frac{1}{2x+1} + \frac{2}{4x+1}$

$$I_n = \int_0^n f(x).dx = \int_0^n \left(\frac{2}{4x+1} - \frac{1}{2x+1} \right).dx$$

$$= \int_0^n \frac{2dx}{4x+1} - \int_0^n \frac{dx}{2x+1}$$

$$= \frac{1}{2} [\ln |4x+1|]_0^n - \frac{1}{2} [\ln |2x+1|]_0^n$$

$$= \frac{1}{2} \ln(4n+1) - \frac{1}{2} \ln(2n+1) = \ln \sqrt{\frac{4n+1}{2n+1}}$$

ដូចនេះ $I_n = \ln \sqrt{\frac{4n+1}{2n+1}}$ និង $\lim_{n \rightarrow \infty} I_n = \lim_{n \rightarrow \infty} \ln \sqrt{\frac{4n+1}{2n+1}} = \ln \sqrt{2}$ ។

លំហាត់ទី១៨

គេឲ្យអាំងតេក្រាល $I_n = \int_0^1 \frac{t^{3n}}{1+t^3} dt$ ដែល $n = 0, 1, 2, \dots$ ។

ចូរគណនាលីមីត $\lim_{n \rightarrow +\infty} (nI_n)$ ។

ដំណោះស្រាយ

គណនាលីមីត $\lim_{n \rightarrow +\infty} (nI_n)$

គេមាន $I_n = \int_0^1 \frac{t^{3n}}{1+t^3} dt$ ដែល $n = 0, 1, 2, \dots$

គេបាន $I_{n+1} = \int_0^1 \frac{t^{3n+3}}{1+t^3} dt$

$$I_n + I_{n+1} = \int_0^1 \frac{t^{3n} + t^{3n+3}}{1+t^3} dt = \int_0^1 t^{3n} dt = \left[\frac{t^{3n+1}}{3n+1} \right]_0^1 = \frac{1}{3n+1}$$

$$I_n + I_{n+1} = \frac{1}{3n+1} \quad (1) \quad \text{និង} \quad I_{n-1} + I_n = \frac{1}{3n-2} \quad (2)$$

គ្រប់ $t \in [0, 1]$ គេមាន $t^{3n} \geq t^{3n+3}$ នាំឲ្យ $\frac{t^{3n}}{1+t^3} \geq \frac{t^{3n+3}}{1+t^3}$

គេទាញ $\int_0^1 \frac{t^{3n}}{1+t^3} dt \geq \int_0^1 \frac{t^{3n+3}}{1+t^3} dt$ ឬ $I_n \geq I_{n+1}$ គ្រប់ $n = 0, 1, 2, \dots$

នាំឲ្យ (I_n) ជាស្វ័យគុណៈ ។ តាមលក្ខណៈនៃស្វ័យគុណៈគេបាន ៖

$$I_{n+1} \leq I_n \leq I_{n-1} \quad \text{នាំឲ្យ} \quad \frac{I_{n+1} + I_n}{2} \leq I_n \leq \frac{I_n + I_{n-1}}{2} \quad (3)$$

យកទំនាក់ទំនងគេបាន ៖ (3) ជំនួសក្នុង (2) និង (1)

$$\frac{1}{6n+2} \leq I_n \leq \frac{1}{6n-4} \quad \text{នាំឲ្យ} \quad \frac{n}{6n+2} \leq nI_n \leq \frac{n}{6n-4}$$

$$\text{ដោយ} \quad \lim_{n \rightarrow \infty} \frac{n}{6n+2} = \lim_{n \rightarrow \infty} \frac{n}{6n-4} = \frac{1}{6}$$

$$\text{ដូចនេះ} \quad \lim_{n \rightarrow +\infty} (nI_n) = \frac{1}{6} \quad \text{។}$$

លំហាត់ទី១៩

គេឲ្យ f ជាអនុគមន៍កំណត់ពីសំណុំ \mathbf{IR} ទៅ \mathbf{IR} ហើយផ្ទៀងផ្ទាត់

$$សមីការ $f(x+1) + x^2 f(x^3 + 1) = x^3 + \sqrt[3]{x}$ គ្រប់ $x \in \mathbf{IR}$ ។$$

$$ចូរគណនាអាំងតេក្រាល $I = \int_1^2 f(x).dx$ ។$$

ដំណោះស្រាយ

$$គណនាអាំងតេក្រាល $I = \int_1^2 f(x).dx$$$

$$\text{បើគេតាង } -x = t + 1 \text{ នោះ } dx = dt$$

$$\text{ចំពោះ } x = 1 \text{ នោះ } t = 0 \text{ និង } x = 2 \text{ នោះ } t = 1 \text{ ។}$$

$$\text{គេបាន } I = \int_1^2 f(x).dx = \int_0^1 f(t+1).dt \quad (1)$$

$$\text{បើគេតាង } -x = t^3 + 1 \text{ នោះ } dx = 3t^2 dt$$

$$\text{ចំពោះ } x = 1 \text{ នោះ } t = 0 \text{ និង } x = 2 \text{ នោះ } t = 1 \text{ ។}$$

$$\text{គេបាន } I = \int_1^2 f(x).dx = 3 \int_0^1 t^2 f(t+1).dt$$

$$\text{ឬ } \frac{1}{3}I = \int_0^1 t^2 f(t^3 + 1).dt \quad (2)$$

បូកសមីការ គេបាន ៖ (2) និង (1)

$$I + \frac{1}{3}I = \int_0^1 [f(t+1) + t^2 f(t^3 + 1)].dt$$

ដោយ $f(x+1) + x^2 f(x^3 + 1) = x^3 + \sqrt[3]{x}$ គ្រប់ $x \in \mathbb{R}$ ។

$$\text{គេបាន } \frac{4}{3}I = \int_0^1 (t^3 + \sqrt[3]{t}).dt = \left[\frac{1}{4}t^4 + \frac{3}{4}t^{\frac{4}{3}} \right]_0^1 = 1$$

$$\text{ដូចនេះ } I = \frac{3}{4} \quad \text{។}$$

លំហាត់ទី២០

គេឲ្យអាំងតេក្រាល $I_n = \int_{(n-1)\pi}^{n\pi} e^{-x} \sin x \cdot dx$ ដែល $n = 1, 2, 3, \dots$ ។

ក/ ចូរគណនា I_1 ។

ខ/ បង្ហាញថា (I_n) ជាស្វ៊ីតធរណីមាត្ររួចទាញរក I_n ជាអនុគមន៍នៃ n ។

គ / គណនាផលបូក $S_n = I_1 + I_2 + \dots + I_n$ ជាអនុគមន៍នៃ n ។

ឃ / ទាញរកលីមីតនៃ S_n កាលណា $n \rightarrow +\infty$ ។

ដំណោះស្រាយ

គេឲ្យអាំងតេក្រាល $I_n = \int_{(n-1)\pi}^{n\pi} e^{-x} \sin x \cdot dx$ ដែល $n = 1, 2, 3, \dots$ ។

ក / គណនា I_1 ៖

បើ $n = 1$ នោះ $I_1 = \int_0^{\pi} e^{-x} \sin x \cdot dx$

តាង $\begin{cases} u = e^{-x} \\ dv = \sin x \cdot dx \end{cases}$ នាំឲ្យ $\begin{cases} du = -e^{-x} \cdot dx \\ v = -\cos x \end{cases}$

គេបាន៖

$$I_1 = \left[-e^{-x} \cos x \right]_0^{\pi} - \int_0^{\pi} e^{-x} \cos x \cdot dx$$

$$I_1 = 1 + e^{-\pi} - \int_0^{\pi} e^{-x} \cos x \cdot dx$$

តាំង $\begin{cases} u = e^{-x} \\ dv = \cos x \cdot dx \end{cases}$ នាំឱ្យ $\begin{cases} du = -e^{-x} \cdot dx \\ v = \sin x \end{cases}$

គេបាន ៖

$$I_1 = 1 + e^{-\pi} - \left[e^{-x} \sin x \right]_0^{\pi} - \int_0^{\pi} e^{-x} \sin x \cdot dx$$

$$I_1 = 1 + e^{-\pi} - I_1$$

ដូចនេះ $I_1 = \frac{1 + e^{-\pi}}{2} = \frac{1 + e^{\pi}}{2e^{\pi}}$ ។

ខ/បង្ហាញថា (I_n) ជាស្វ័យគុណធរណីមាត្រ ៖

មាន $I_n = \int_{(n-1)\pi}^{n\pi} e^{-x} \sin x \cdot dx$ នោះ $I_{n+1} = \int_{n\pi}^{(n+1)\pi} e^{-x} \sin x \cdot dx$

តាំង $x = \pi + t$ នោះ $dx = dt$

ចំពោះ $x = n\pi$ នោះ $t = (n-1)\pi$ និង $x = (n+1)\pi$ នោះ $t = n\pi$

$$\text{គេបាន } I_{n+1} = \int_{(n-1)\pi}^{n\pi} e^{-\pi-t} \sin(\pi+t).dt = -e^{-\pi} \int_{(n-1)\pi}^{n\pi} e^{-t} \sin t .dt$$

$$I_{n+1} = -e^{-\pi} I_n \text{ នាំឲ្យ } (I_n) \text{ ជាស្វ៊ីតធរណីមាត្រ ។}$$

ទាញរក I_n ជាអនុគមន៍នៃ n ៖

$$\text{តាមរូបមន្ត } I_n = I_1 \times q^{n-1} = \frac{1+e^{-\pi}}{2} \times (-e^{-\pi})^{n-1} \quad ។$$

គ គណនាផលបូក $S_n = I_1 + I_2 + \dots + I_n$ ជាអនុគមន៍នៃ n ៖

$$\text{គេបាន } S_n = I_1 \times \frac{1-q^n}{1-q} = \frac{1+e^{-\pi}}{2} \times \frac{1-(-e^{-\pi})^n}{1+e^{-\pi}} = \frac{1-(-e^{-\pi})^n}{2}$$

ឃ ទាញរកលីមីតនៃ S_n កាលណា $n \rightarrow +\infty$ ៖

$$\text{គេបាន } \lim_{n \rightarrow \infty} S_n = \lim_{n \rightarrow \infty} \frac{1+(-e^{-\pi})^n}{2} = \frac{1}{2} \quad \text{ព្រោះ } \lim_{n \rightarrow \infty} (-e^{-\pi})^n = 0 \quad ។$$

$$\text{ដូចនេះ } \lim_{n \rightarrow \infty} S_n = \frac{1}{2} \quad ។$$

លំហាត់ទី២១

គេឱ្យអាំងតេក្រាល $I_n = \int_0^a \frac{x^n \cdot dx}{x^3 + a^3}, a > 0$

ក. ចូរកំណត់តម្លៃរបស់ n ដើម្បីឱ្យ I_n មិនអាស្រ័យនឹង a ។

ខ. គណនា I_n ចំពោះតម្លៃ n ដែលបានរកឃើញខាងលើ ។

ដំណោះស្រាយ

ក. កំណត់តម្លៃរបស់ n ដើម្បីឱ្យ I_n មិនអាស្រ័យនឹង a

យើងមាន $I_n = \int_0^a \frac{x^n \cdot dx}{x^3 + a^3}, a > 0$

យើងតាង $x = a \cdot t$ នាំឱ្យ $dx = a \cdot dt$

ហើយចំពោះ $x \in [0, a]$ នាំឱ្យ $t \in [0, 1]$

គេបាន $I_n = \int_0^1 \frac{(a \cdot t)^n \cdot a \cdot dt}{(a \cdot t)^3 + a^3} = a^{n-2} \cdot \int_0^1 \frac{t^n \cdot dt}{t^3 + 1}$

តាមទំនាក់ទំនងនេះ ដើម្បីឱ្យ I_n មិនអាស្រ័យនឹង a លុះត្រាតែ

$$n - 2 = 0 \quad \text{ឬ} \quad n = 2 \quad \text{។}$$

ដូចនេះ ដើម្បីឱ្យ I_n មិនអាស្រ័យនឹង a គេត្រូវឱ្យ $n = 2$ ។

ខ. គណនា I_n ចំពោះតម្លៃ n ដែលបានរកឃើញខាងលើ

$$\text{ចំពោះ } n = 2 \text{ គេបាន } I_2 = \int_0^1 \frac{x^2 dx}{x^3 + 1}$$

$$\text{តាង } U = x^3 + 1 \text{ នាំឱ្យ } dU = 3x^2 \cdot dx$$

$$\text{ហើយចំពោះ } x \in [0, 1] \text{ នាំឱ្យ } U \in [1, 2]$$

$$\text{យើងបាន } I_2 = \frac{1}{3} \int_1^2 \frac{dU}{U} = \frac{1}{3} [\ln |U|]_1^2 = \frac{1}{3} \ln 2 \quad \text{។}$$

$$\text{ដូចនេះ: } \boxed{I_2 = \frac{1}{3} \ln 2} \quad \text{។}$$

លំហាត់ទី២២

គេឱ្យស្វ៊ីតអាំងតេក្រាល $I_n = \int_0^1 x^n \sqrt{1-x^2} .dx$ ដែល $n \in \mathbb{N}$ ។

ក. ចូររកទំនាក់ទំនងរវាង I_n និង I_{n-2}

ខ. គណនាផលគុណ $P_n = I_n \cdot I_{n-1}$, $\forall n \geq 1$ ជាអនុគមន៍នៃ n ។

គ. គណនាផលបូក $S_n = \sum_{k=1}^n (P_k) = P_1 + P_2 + \dots + P_n$ ជាអនុគមន៍នៃ n

រួចទាញរកតម្លៃនៃលីមីត $\lim_{n \rightarrow +\infty} S_n$ ។

ឃ. រករូបមន្តគណនា I_n ជាអនុគមន៍នៃ n ។

ដំណោះស្រាយ

ក. រកទំនាក់ទំនងរវាង I_n និង I_{n-2}

យើងមាន $I_n = \int_0^1 x^n \sqrt{1-x^2} .dx$ និង $I_{n-2} = \int_0^1 x^{n-2} \cdot \sqrt{1-x^2} .dx$

$$\text{តាង } \begin{cases} U = \sqrt{1-x^2} \\ dV = x^n .dx \end{cases} \quad \text{នាំឱ្យ} \quad \begin{cases} dU = -\frac{x}{\sqrt{1-x^2}} .dx \\ V = \int x^n .dx = \frac{1}{n+1} x^{n+1} \end{cases}$$

យើងបាន
$$I_n = \left[\frac{1}{n+1} x^{n+1} \cdot \sqrt{1-x^2} \right]_0^1 + \frac{1}{n+1} \int_0^1 \frac{x^{n+2}}{\sqrt{1-x^2}} \cdot dx$$

$$I_n = \frac{1}{n+1} \int_0^1 \frac{x^n - (x^n - x^{n+2})}{\sqrt{1-x^2}} \cdot dx = \frac{1}{n+1} \int_0^1 \frac{x^n - x^n(1-x^2)}{\sqrt{1-x^2}} \cdot dx$$

$$I_n = \frac{1}{n+1} \int_0^1 \frac{x^n \cdot dx}{\sqrt{1-x^2}} - \frac{1}{n+1} \int_0^1 x^n \sqrt{1-x^2} \cdot dx$$

$$I_n = \frac{1}{n+1} \int_0^1 x^{n-1} \cdot \frac{xdx}{\sqrt{1-x^2}} - \frac{1}{n+1} I_n$$

តាង
$$\begin{cases} U = x^{n-1} \\ dV = \frac{xdx}{\sqrt{1-x^2}} \end{cases} \quad \text{នាំឱ្យ} \quad \begin{cases} dU = (n-1)x^{n-2} \cdot dx \\ V = -\sqrt{1-x^2} \end{cases}$$

យើងបាន

$$I_n = \frac{1}{n+1} \left\{ \left[-x^{n-1} \sqrt{1-x^2} \right]_0^1 + (n-1) \int_0^1 x^{n-2} \sqrt{1-x^2} \cdot dx \right\} - \frac{1}{n+1} I_n$$

គេទាញ $(n+1)I_n = (n-1)I_{n-2} - I_n$ នាំឱ្យ $I_n = \frac{n-1}{n+2} I_{n-2}$

ដូចនេះ ទំនាក់ទំនងរវាង I_n និង I_{n-2}

$$\boxed{I_n = \frac{n-1}{n+2} I_{n-2}, \forall n \geq 2} \quad \text{។}$$

ខ. គណនាផលគុណ $P_n = I_n \cdot I_{n-1}$, $\forall n \geq 1$ ជាអនុគមន៍នៃ n

យើងមាន $P_n = I_n \cdot I_{n-1}$ នាំឱ្យ $P_{n+1} = I_{n+1} \cdot I_n$

ដោយ $I_n = \frac{n-1}{n+2} I_{n-2}$ នាំឱ្យ $I_{n+1} = \frac{n}{n+3} I_{n-1}$

គេទាញ $P_{n+1} = \frac{n}{n+3} I_{n-1} \cdot I_n = \frac{n}{n+3} P_n$ (ព្រោះ $P_n = I_n \cdot I_{n-1}$)

នាំអោយ $\frac{P_{n+1}}{P_n} = \frac{n}{n+3} = \frac{n}{n+1} \cdot \frac{n+1}{n+2} \cdot \frac{n+2}{n+3}$ ។

យើងបាន $\prod_{k=1}^{(n-1)} \left(\frac{P_{k+1}}{P_k} \right) = \prod_{k=1}^{(n-1)} \left(\frac{k}{k+1} \cdot \frac{k+1}{k+2} \cdot \frac{k+2}{k+3} \right)$

$$\prod_{k=1}^{(n-1)} \left(\frac{P_{k+1}}{P_k} \right) = \prod_{k=1}^{(n-1)} \left(\frac{k}{k+1} \right) \times \prod_{k=1}^{(n-1)} \left(\frac{k+1}{k+2} \right) \times \prod_{k=1}^{(n-1)} \left(\frac{k+2}{k+3} \right)$$

$$\frac{P_2}{P_1} \cdot \frac{P_3}{P_2} \cdots \frac{P_n}{P_{n-1}} = \left(\frac{1}{2} \cdot \frac{2}{3} \cdots \frac{n-1}{n} \right) \times \left(\frac{2}{3} \cdot \frac{3}{4} \cdots \frac{n}{n+1} \right) \times \left(\frac{3}{4} \cdot \frac{4}{5} \cdots \frac{n+1}{n+2} \right)$$

$$\frac{P_n}{P_1} = \frac{1}{n} \cdot \frac{2}{n+1} \cdot \frac{3}{n+2}$$

នាំឱ្យគេទាញ $P_n = \frac{6}{n(n+1)(n+2)} \cdot P_1 = \frac{6}{n(n+1)(n+2)} \cdot I_0 \cdot I_1$

ដោយ $I_0 = \int_0^1 \sqrt{1-x^2} \cdot dx = \left[\frac{x}{2} \sqrt{1-x^2} + \frac{1}{2} \arcsin x \right]_0^1 = \frac{\pi}{4}$

ដឹង
$$I_1 = \int_0^1 x\sqrt{1-x^2} \cdot dx = \left[-\frac{1}{3}(1-x^2)^{\frac{3}{2}} \right]_0^1 = \frac{1}{3}$$

គេបាន
$$P_n = \frac{6}{n(n+1)(n+2)} \cdot \frac{\pi}{4} \cdot \frac{1}{3} = \frac{\pi}{2} \cdot \frac{1}{n(n+1)(n+2)}$$

ដូចនេះ
$$P_n = \frac{\pi}{2} \cdot \frac{1}{n(n+1)(n+2)}$$
 ។

គ. គណនាផលបូក
$$S_n = \sum_{k=1}^n (P_k) = P_1 + P_2 + \dots + P_n$$

$$P_n = \frac{\pi}{2} \cdot \frac{1}{n(n+1)(n+2)} = \frac{\pi}{4} \left[\frac{1}{n(n+1)} - \frac{1}{(n+1)(n+2)} \right]$$

យើងបាន
$$S_n = \frac{\pi}{4} \sum_{k=1}^n \left[\frac{1}{k(k+1)} - \frac{1}{(k+1)(k+2)} \right]$$

$$= \frac{\pi}{4} \left[\left(\frac{1}{1 \cdot 2} - \frac{1}{2 \cdot 3} \right) + \left(\frac{1}{2 \cdot 3} - \frac{1}{3 \cdot 4} \right) + \dots + \left(\frac{1}{n(n+1)} - \frac{1}{(n+1)(n+2)} \right) \right]$$

$$= \frac{\pi}{4} \left[\frac{1}{2} - \frac{1}{(n+1)(n+2)} \right] = \frac{\pi}{8} \cdot \frac{n(n+3)}{(n+1)(n+2)}$$

ដូចនេះ
$$S_n = \frac{\pi}{8} \cdot \frac{n(n+3)}{(n+1)(n+2)}$$
 ដឹង
$$\lim_{n \rightarrow +\infty} S_n = \frac{\pi}{8}$$
 ។

យ. រក្សាបម្រុងគណនា I_n ជាអនុគមន៍នៃ n

តាមសម្រាយខាងលើយើងមាន $I_n = \frac{n-1}{n+2} I_{n-2}, \forall n \geq 2$

-ករណី $n = 2p + 1$ (ចំនួនសេស)

យើងបាន $I_{2p+1} = \frac{2p}{2p+3} \cdot I_{2p-1}$

ឬ $\frac{I_{2p+1}}{I_{2p-1}} = \frac{2p}{2p+3}$

គេទាញ $\frac{I_3}{I_1} \cdot \frac{I_5}{I_3} \cdot \frac{I_7}{I_5} \cdots \frac{I_{2p+1}}{I_{2p-1}} = \frac{2}{5} \cdot \frac{4}{7} \cdot \frac{6}{9} \cdots \frac{2p}{2p+3}$

$$\frac{I_{2p+1}}{I_1} = \frac{2}{5} \cdot \frac{4}{7} \cdot \frac{6}{9} \cdots \frac{2p}{2p+3}$$

នាំឱ្យ $I_{2p+1} = \frac{2.4.6 \dots 2p}{5.7.9 \dots (2p+3)} \cdot I_1$ ដោយ $I_1 = \frac{1}{3}$

ដូចនេះ $I_{2p+1} = \frac{2.4.6 \dots 2p}{5.7.9 \dots (2p+3)} \cdot \frac{1}{3}$ ។

-ករណី $n = 2p$ (ចំនួនគូ)

យើងបាន $I_{2p} = \frac{2p-1}{2p+2} \cdot I_{2p-2}$ ឬ $\frac{I_{2p}}{I_{2p-2}} = \frac{2p-1}{2p+2}$

គេទាញ $\frac{I_2}{I_0} \cdot \frac{I_4}{I_2} \cdot \frac{I_6}{I_4} \cdots \frac{I_{2p}}{I_{2p-2}} = \frac{1}{4} \cdot \frac{3}{6} \cdot \frac{5}{8} \cdots \frac{2p-1}{2p+2}$

$$\frac{I_{2p}}{I_0} = \frac{1}{4} \cdot \frac{3}{6} \cdot \frac{5}{8} \cdots \frac{2p-1}{2p+2}$$

នាំឱ្យ $I_{2p+1} = \frac{1.3.5 \dots (2p-1)}{4.6.8 \dots (2p+2)} \cdot I_0$ ដោយ $I_0 = \frac{\pi}{4}$

ដូចនេះ:
$$I_{2p+1} = \frac{1.3.5 \dots (2p-1)}{4.6.8 \dots (2p+2)} \cdot \frac{\pi}{4}$$
 ។

លំហាត់ទី២៣

ចូរបង្ហាញថា
$$\int_a^b f(x).dx = \int_a^b f(a+b-x).dx$$

អនុវត្តន៍ ៖ ចូរគណនាអាំងតេក្រាល
$$I = \int_0^{\frac{\pi}{3}} \ln(1 + \sqrt{3} \tan x).dx$$

ដំណោះស្រាយ

បង្ហាញថា
$$\int_a^b f(x).dx = \int_a^b f(a+b-x).dx$$

តាង $t = a + b - x \Rightarrow dt = -dx$

បើ $x = a \Rightarrow t = b$ និង $x = b \Rightarrow t = a$

យើងបាន

$$\int_a^b f(x).dx = \int_b^a f(a+b-t)(-dt) = -\int_b^a f(a+b-t).dt = \int_a^b f(a+b-t).dt$$

ដូចនេះ
$$\int_a^b f(x).dx = \int_a^b f(a+b-x).dx \quad \square$$

គណនាអាំងតេក្រាល $I = \int_0^{\frac{\pi}{3}} \ln(1 + \sqrt{3} \tan x).dx$

តាមរូបមន្តខាងលើយើងអាចសរសេរ៖

$$I = \int_0^{\frac{\pi}{3}} \ln \left[1 + \sqrt{3} \tan \left(\frac{\pi}{3} - x \right) \right].dx = \int_0^{\frac{\pi}{3}} \ln \left(1 + \sqrt{3} \cdot \frac{\sqrt{3} - \tan x}{1 + \sqrt{3} \tan x} \right).dx$$

$$I = \int_0^{\frac{\pi}{3}} \ln \left(\frac{4}{1 + \sqrt{3} \tan x} \right).dx = \int_0^{\frac{\pi}{3}} [\ln 4 - \ln(1 + \sqrt{3} \tan x)].dx$$

$$I = \ln 4 \int_0^{\frac{\pi}{3}} dx - \int_0^{\frac{\pi}{3}} \ln(1 + \sqrt{3} \tan x).dx = \frac{2\pi}{3} \ln 2 - I$$

$$2I = \frac{2\pi}{3} \ln 2 \quad \text{នាំឱ្យ} \quad I = \frac{\pi}{3} \ln 2$$

ដូចនេះ

$$I = \int_0^{\frac{\pi}{3}} \ln(1 + \sqrt{3} \tan x).dx = \frac{\pi}{3} \ln 2$$

។

លំហាត់ទី២៤

គេឱ្យ f ជាអនុគមន៍ជាប់លើ $[0,1]$ ។

$$\text{ចូរបង្ហាញថា } \int_0^{\pi} x \cdot f(\sin x) \cdot dx = \frac{\pi}{2} \int_0^{\pi} f(\sin x) \cdot dx \quad ?$$

$$\text{អនុវត្តន៍: ចូរគណនា } I = \int_0^{\pi} \frac{x \sin x \cdot dx}{1 + \cos^2 x} \quad ។$$

ដំណោះស្រាយ

$$\text{បង្ហាញថា } \int_0^{\pi} x \cdot f(\sin x) \cdot dx = \frac{\pi}{2} \int_0^{\pi} f(\sin x) \cdot dx$$

$$\text{តាង } x = \pi - t \text{ នាំឱ្យ } dx = -dt$$

$$\text{និង ចំពោះ } x \in [0, \pi] \text{ នាំឱ្យ } t \in [\pi, 0]$$

$$\text{គេបាន } \int_0^{\pi} x \cdot f(\sin x) \cdot dx = - \int_{\pi}^0 (\pi - t) \cdot f[\sin(\pi - t)] \cdot dt$$

$$\int_0^{\pi} x \cdot f(\sin x) \cdot dx = \int_0^{\pi} (\pi - t) \cdot f(\sin t) \cdot dt = \pi \int_0^{\pi} f(\sin t) \cdot dt - \int_0^{\pi} t \cdot f(\sin t) \cdot dt$$

$$\int_0^{\pi} x \cdot f(\sin x) \cdot dx = \pi \int_0^{\pi} f(\sin x) \cdot dx - \int_0^{\pi} x \cdot f(\sin x) \cdot dx$$

$$\text{នាំឱ្យគេទាញបាន } \int_0^{\pi} x \cdot f(\sin x) \cdot dx = \frac{\pi}{2} \int_0^{\pi} f(\sin x) \cdot dx \quad ។$$

អនុវត្តន៍: គណនា $I = \int_0^{\pi} \frac{x \sin x \cdot dx}{1 + \cos^2 x}$

គេមាន $I = \int_0^{\pi} \frac{x \cdot \sin x \cdot dx}{1 + \cos^2 x} = \int_0^{\pi} x \cdot \frac{\sin x \cdot dx}{2 - \sin^2 x} = \frac{\pi}{2} \int_0^{\pi} \frac{\sin x \cdot dx}{2 - \sin^2 x}$

តាង $z = \cos x$ នាំឱ្យ $dz = -\sin x \cdot dx$

ហើយចំពោះ $x \in [0, \pi]$ នោះ $z \in [1, -1]$

គេបាន $I = \frac{\pi}{2} \int_1^{-1} \frac{-dz}{1+z^2} = \frac{\pi}{2} [\arctan z]_{-1}^1 = \frac{\pi}{2} \left(\frac{\pi}{4} + \frac{\pi}{4} \right) = \frac{\pi^2}{4}$ ។

ដូចនេះ: $I = \int_0^{\pi} \frac{x \sin x \cdot dx}{1 + \cos^2 x} = \frac{\pi^2}{4}$ ។

លំហាត់ទី២៥

គេឱ្យ f ជាអនុគមន៍គូលើ $[-a, a]$ ។

ក. ចូរបង្ហាញថា $\int_{-a}^a \frac{f(x).dx}{1+q^x} = \int_0^a f(x).dx$, $q > 0, q \neq 1$ ។

ខ. អនុវត្តន៍ ៖ គណនា $I = \int_{-\pi}^{\pi} \frac{\sqrt{2+2\cos 2x}}{1+3^x}.dx$

ដំណោះស្រាយ

ក. បង្ហាញថា $\int_{-a}^a \frac{f(x).dx}{1+q^x} = \int_0^a f(x).dx$, $q > 0, q \neq 1$ ។

គេមាន $\int_{-a}^a \frac{f(x).dx}{1+q^x} = \int_{-a}^0 \frac{f(x).dx}{1+q^x} + \int_0^a \frac{f(x).dx}{1+q^x}$ (1)

តាង $x = -t$ នាំឱ្យ $dx = -dt$ និងចំពោះ $x \in [-a, 0]$ នាំឱ្យ $t \in [a, 0]$

គេបាន $\int_{-a}^0 \frac{f(x).dx}{1+q^x} = -\int_a^0 \frac{f(-t).dt}{1+q^{-t}} = \int_0^a \frac{q^t.f(-t)dt}{1+q^t} = \int_0^a \frac{q^x.f(-x).dx}{1+q^x}$

ដោយ $f(x)$ ជាអនុគមន៍គូនោះ $f(-x) = f(x)$, $\forall x \in [-a, a]$

គេទាញបាន $\int_{-a}^0 \frac{f(x).dx}{1+q^x} = \int_0^a \frac{q^x.f(x)}{1+q^x}.dx$ (2)

យក (2) ទៅជួសក្នុង (1) គេបាន៖

$$\int_{-a}^a \frac{f(x).dx}{1+q^x} = \int_0^a \frac{q^x.f(x).dx}{1+q^x} + \int_0^a \frac{f(x).dx}{1+q^x} = \int_0^a \frac{(q^x+1)f(x).dx}{1+q^x} = \int_0^a f(x).dx$$

ដូច្នេះនេះ: $\int_{-a}^a \frac{f(x).dx}{1+q^x} = \int_0^a f(x).dx$, $q > 0$, $q \neq 1$ ។

ខ. អនុគមន៍នៃ ៖ គណនា $I = \int_{-\pi}^{\pi} \frac{\sqrt{2+2\cos 2x}}{1+3^x}.dx$

ដោយ $f(x) = \sqrt{2+2\cos 2x}$ ជាអនុគមន៍គូនោះគេបាន៖

$$I = \int_0^{\pi} \sqrt{2+2\cos 2x}.dx = 2 \int_0^{\pi} |\cos x|.dx$$

$$= 2 \int_0^{\frac{\pi}{2}} \cos x.dx - 2 \int_{\frac{\pi}{2}}^{\pi} \cos x.dx$$

$$= 2[\sin x]_0^{\frac{\pi}{2}} - 2[\sin x]_{\frac{\pi}{2}}^{\pi} = 2(1-0) - 2(0-1) = 4$$

ដូច្នេះនេះ: $I=4$ ។

លំហាត់ទី២៦

គេមានអាំងតេក្រាល $I = \int_0^{\frac{\pi}{4}} \cos^2 x \cdot dx$ និង $J = \int_0^{\frac{\pi}{4}} \sin^2 x \cdot dx$

ក-ចូរគណនា $I+J$ និង $I-J$ ។

ខ-ទាញរកតម្លៃនៃ I និង J ។

ដំណោះស្រាយ

ក-គណនា $I+J$ និង $I-J$

យើងបាន $I+J = \int_0^{\frac{\pi}{4}} \cos^2 x \cdot dx + \int_0^{\frac{\pi}{4}} \sin^2 x \cdot dx$

$$= \int_0^{\frac{\pi}{4}} (\cos^2 x + \sin^2 x) \cdot dx = \int_0^{\frac{\pi}{4}} dx = \frac{\pi}{4}$$

ដូចនេះ: $I+J = \frac{\pi}{4}$ ។

យើងបាន $I-J = \int_0^{\frac{\pi}{4}} \cos^2 x \cdot dx - \int_0^{\frac{\pi}{4}} \sin^2 x \cdot dx$

$$\begin{aligned}
 &= \int_0^{\frac{\pi}{4}} (\cos^2 x - \sin^2 x) \cdot dx = \int_0^{\frac{\pi}{4}} \cos 2x dx \\
 &= \left[\frac{1}{2} \sin 2x \right]_0^{\frac{\pi}{4}} = \frac{1}{2} \sin \frac{\pi}{2} - \frac{1}{2} \sin 0 = \frac{1}{2}
 \end{aligned}$$

ដូចនេះ:
$$\boxed{I - J = \frac{1}{2}} \quad \text{។}$$

ខ-ទាញរកតម្លៃនៃ I និង J

គេមាន
$$\begin{cases} I + J = \frac{\pi}{4} \\ I - J = \frac{1}{2} \end{cases}$$

នាំឱ្យ
$$I = \frac{\pi}{8} + \frac{1}{4} \quad \text{និង} \quad J = \frac{\pi}{8} - \frac{1}{4} \quad \text{។}$$

លំហាត់ទី២៧

គេឱ្យអាំងតេក្រាល $I_n = \int_0^1 \frac{e^{nx}}{e^x + 1} \cdot dx$, $n \in \mathbb{N}$ ។

ក-គណនា $I_0 + I_1$, I_1 រួមទាំងរក I_0 ។

ខ-គណនា $I_n + I_{n+1}$ ជាអនុគមន៍នៃ n ។

ដំណោះស្រាយ

ក-គណនា $I_0 + I_1$, I_1 រួមទាំងរក I_0

$$\text{យើងមាន } I_0 = \int_0^1 \frac{1}{e^x + 1} \cdot dx, \quad I_1 = \int_0^1 \frac{e^x}{e^x + 1}$$

$$\text{យើងបាន } I_0 + I_1 = \int_0^1 \frac{1}{e^x + 1} \cdot dx + \int_0^1 \frac{e^x}{e^x + 1} \cdot dx = \int_0^1 \frac{1 + e^x}{e^x + 1} \cdot dx = \int_0^1 dx = 1$$

$$I_1 = \int_0^1 \frac{e^x}{e^x + 1} \cdot dx = \int_0^1 \frac{(e^x + 1)'}{(e^x + 1)} \cdot dx = \left[\ln(e^x + 1) \right]_0^1 = \ln(e + 1) - \ln 2 = \ln \frac{e + 1}{2}$$

$$\text{ដោយ } I_0 + I_1 = 1 \text{ នាំឱ្យ } I_0 = 1 - I_1 = 1 - \ln \left(\frac{e + 1}{2} \right) \quad \text{។}$$

$$\text{ដូចនេះ: } \boxed{I_0 + I_1 = 1, \quad I_1 = \ln \left(\frac{e + 1}{2} \right), \quad I_0 = 1 - \ln \left(\frac{e + 1}{2} \right)} \quad \text{។}$$

ខ-គណនា $I_n + I_{n+1}$ ជាអនុគមន៍នៃ n

$$\begin{aligned} \text{យើងបាន } I_n + I_{n+1} &= \int_0^1 \frac{e^{nx}}{e^x + 1} \cdot dx + \int_0^1 \frac{e^{(n+1)x}}{e^x + 1} \cdot dx \\ &= \int_0^1 \frac{e^{nx} + e^{(n+1)x}}{e^x + 1} \cdot dx = \int_0^1 \frac{e^{nx}(1 + e^x)}{e^x + 1} \cdot dx \\ &= \int_0^1 e^{nx} \cdot dx = \left[\frac{1}{n} e^{nx} \right]_0^1 = \frac{e^n - 1}{n} \end{aligned}$$

ដូចនេះ:
$$I_n + I_{n+1} = \frac{e^n - 1}{n} \quad \square$$

លំហាត់ទី២៨

គេសន្មតថា f ជាអនុគមន៍មួយកំនត់លើ \mathbf{IR} ហើយផ្ទៀងផ្ទាត់

$$f(x) + f(-x) = \sqrt{2 - 2\cos 2x} \quad 1$$

$$\text{ចូរគណនា } I = \int_{-\frac{\pi}{3}}^{\frac{\pi}{3}} f(x).dx \quad 1$$

ដំណោះស្រាយ

$$\text{គណនា } I = \int_{-\frac{\pi}{3}}^{\frac{\pi}{3}} f(x).dx$$

$$\text{យើងមាន } I = \int_{-\frac{\pi}{3}}^{\frac{\pi}{3}} f(x).dx = \int_{-\frac{\pi}{3}}^0 f(x).dx + \int_0^{\frac{\pi}{3}} f(x).dx$$

$$\text{តាង } x = -t \text{ នាំឱ្យ } dx = -dt$$

$$\text{ចំពោះ } x \in \left[-\frac{\pi}{3}, 0\right] \text{ នាំឱ្យ } t \in \left[\frac{\pi}{3}, 0\right]$$

គេបាន
$$\int_{-\frac{\pi}{3}}^0 f(x).dx = \int_{\frac{\pi}{3}}^0 f(-t).(-dt) = \int_0^{\frac{\pi}{3}} f(-t).dt = \int_0^{\frac{\pi}{3}} f(-x).dx$$

គេទាញ
$$I = \int_0^{\frac{\pi}{3}} f(-x).dx + \int_0^{\frac{\pi}{3}} f(x).dx = \int_0^{\frac{\pi}{3}} [f(-x) + f(x)].dx$$

ដោយ $f(x) + f(-x) = \sqrt{2 - 2\cos 2x} = \sqrt{4\sin^2 x} = 2|\sin x|$

គេបាន

$$I = \int_0^{\frac{\pi}{3}} 2|\sin x|.dx = 2 \int_0^{\frac{\pi}{3}} \sin x.dx = 2[-\cos x]_0^{\frac{\pi}{3}} = 2\left(-\frac{1}{2} + 1\right) = 1$$

ដូចនេះ
$$\boxed{I = \int_{-\frac{\pi}{3}}^{\frac{\pi}{3}} f(x).dx = 1} \quad \text{។}$$

លំហាត់ទី២៩

ក-គណនាអាំងតេក្រាលកំនត់ $I_n = \int_0^1 (1+x)^n \cdot dx$, $n \in \mathbb{IN}$ ។

ខ-ទាញបង្ហាញថា $C_n^0 + \frac{1}{2}C_n^1 + \frac{1}{3}C_n^2 + \dots + \frac{1}{n+1}C_n^n = \frac{2^{n+1} - 1}{n+1}$

ដំណោះស្រាយ

ក-គណនាអាំងតេក្រាលកំនត់

$$I_n = \int_0^1 (1+x)^n \cdot dx \quad , n \in \mathbb{IN}$$

$$\begin{aligned} &= \left[\frac{1}{n+1} (1+x)^{n+1} \right]_0^1 = \frac{1}{n+1} \cdot 2^{n+1} - \frac{1}{n+1} \\ &= \frac{2^{n+1} - 1}{n+1} \end{aligned}$$

ខ-ទាញបង្ហាញថា $C_n^0 + \frac{1}{2}C_n^1 + \frac{1}{3}C_n^2 + \dots + \frac{1}{n+1}C_n^n = \frac{2^{n+1} - 1}{n+1}$

តាមរូបមន្តទ្រូណូមីត្រគុណគេមាន៖

$$(1+x)^n = C_n^0 + C_n^1x + C_n^2x^2 + \dots + C_n^nx^n$$

ធ្វើអាំងតេក្រាលកំនត់ក្នុងចន្លោះ $[0,1]$ នៃសមភាពនេះគេបាន៖

$$\int_0^1 (1+x)^n \cdot dx = \int_0^1 (C_n^0 + C_n^1 x + C_n^2 x^2 + \dots + C_n^n x^n) \cdot dx$$

$$\frac{2^{n+1} - 1}{n+1} = \left[C_n^0 x + \frac{1}{2} C_n^1 x^2 + \frac{1}{3} C_n^2 x^3 + \dots + \frac{1}{n+1} C_n^n x^{n+1} \right]_0^1$$

$$\frac{2^{n+1} - 1}{n+1} = C_n^0 + \frac{1}{2} C_n^1 + \frac{1}{3} C_n^2 + \dots + \frac{1}{n+1} C_n^n$$

ដូចនេះ៖

$$C_n^0 + \frac{1}{2} C_n^1 + \frac{1}{3} C_n^2 + \dots + \frac{1}{n+1} C_n^n = \frac{2^{n+1} - 1}{n+1}$$
 ។

លំហាត់ទី៣០

គេមានស្វ៊ីត (I_n) កំនត់ចំពោះគ្រប់ $n \geq 1$ ដោយ ៖

$$I_n = \frac{1}{n!} \cdot \int_0^1 (1-x)^n \cdot e^x \cdot dx$$

ក-ចូរគណនាតួ I_1 ។

ខ-ចូរបញ្ជាក់ I_{n+1} ជាអនុគមន៍នៃ I_n រួចទាញថា $I_n = e - \sum_{p=0}^n \left(\frac{1}{p!} \right)$

គ-ចូររកលីមីត $\lim_{n \rightarrow +\infty} I_n$

រួចទាញថា $\lim_{n \rightarrow +\infty} \left(1 + \frac{1}{1!} + \frac{1}{2!} + \frac{1}{3!} + \dots + \frac{1}{n!} \right) = e = 2.71828$

ដំណោះស្រាយ

ក-ចូរគណនាតួ I_1

$$\text{គេមាន } I_1 = \frac{1}{1!} \int_0^1 (1-x)e^x \cdot dx = \int_0^1 (1-x) \cdot e^x \cdot dx$$

$$\text{តាង } \begin{cases} u = 1-x \\ dv = e^x dx \end{cases} \quad \text{នាំឱ្យ } \begin{cases} du = -dx \\ v = e^x \end{cases}$$

$$\text{គេបាន } I = \left[(1-x)e^x \right]_0^1 - \int_0^1 e^x (-dx) = -1 + \left[e^x \right]_0^1 = e - 2$$

ដូចនេះ:
$$\boxed{I = e - 2} \quad \text{។}$$

ខ-បញ្ជាក់ I_{n+1} ជាអនុគមន៍នៃ I_n

គេមាន
$$I_n = \frac{1}{n!} \cdot \int_0^1 (1-x)^n \cdot e^x \cdot dx$$

នាំឱ្យ
$$I_{n+1} = \frac{1}{(n+1)!} \cdot \int_0^1 (1-x)^{n+1} \cdot e^x dx$$

តាង
$$\begin{cases} u = (1-x)^{n+1} \\ dv = e^x dx \end{cases} \quad \text{នាំឱ្យ} \quad \begin{cases} du = -(n+1)(1-x)^n \\ v = e^x \end{cases}$$

គេបាន
$$I_{n+1} = \frac{1}{(n+1)!} \left[(1-x)^{n+1} e^x \right]_0^1 + \frac{n+1}{(n+1)!} \int_0^1 (1-x)^n e^x \cdot dx$$

$$I_{n+1} = -\frac{1}{(n+1)!} + \frac{1}{n!} \int_0^1 (1-x)^n e^x dx = I_n - \frac{1}{(n+1)!}$$

ដូចនេះ:
$$I_{n+1} = I_n - \frac{1}{(n+1)!} \quad \text{។}$$

ទាញឱ្យបានថា
$$I_n = e - \sum_{p=0}^n \left(\frac{1}{p!} \right)$$

គេមាន
$$I_{n+1} = I_n - \frac{1}{(n+1)!} \quad \text{ឬ} \quad I_{n+1} - I_n = -\frac{1}{(n+1)!}$$

គេបាន
$$\sum_{k=1}^{n-1} (I_{k+1} - I_k) = -\sum_{k=1}^{n-1} \frac{1}{(k+1)!}$$

$$I_n - I_1 = -\frac{1}{2!} - \frac{1}{3!} - \dots - \frac{1}{n!}$$

ដោយ $I_1 = e - 2 = e - \frac{1}{0!} - \frac{1}{1!}$

គេបាន $I_n = e - \frac{1}{0!} - \frac{1}{1!} - \frac{1}{2!} - \dots - \frac{1}{n!}$

ដូចនេះ $I_n = e - \sum_{p=0}^n \left(\frac{1}{p!} \right)$ ។

គ-ចូររកលីមីត $\lim_{n \rightarrow +\infty} I_n$

ចំពោះ $x \in [0, 1]$ គេមាន $1 \leq e^x \leq e$ និង $(1-x)^n \geq 0$

គេបាន $(1-x)^n \leq e^x(1-x)^n \leq e(1-x)^n$

នាំឱ្យ $\frac{1}{n!} \int_0^1 (1-x)^n \cdot dx \leq \frac{1}{n!} \int_0^1 (1-x)^n e^x \cdot dx \leq \frac{e}{n!} \int_0^1 (1-x)^n \cdot dx$

ដោយ $\int_0^1 (1-x)^n \cdot dx = \left[-\frac{1}{n+1} (1-x)^{n+1} \right]_0^1 = \frac{1}{n+1}$

គេទាញបាន $\frac{1}{n!(n+1)} \leq I_n \leq \frac{e}{n!(n+1)}$ ។

កាលណា $n \rightarrow +\infty$ នាំឱ្យ $\frac{1}{n!(n+1)} \rightarrow 0$

ដូចនេះ: $\lim_{n \rightarrow +\infty} I_n = 0$ ។

ទាញថា $\lim_{n \rightarrow +\infty} \left(1 + \frac{1}{1!} + \frac{1}{2!} + \frac{1}{3!} + \dots + \frac{1}{n!} \right) = e = 2.71828$

គេមាន $I_n = e - \sum_{p=0}^n \left(\frac{1}{p!} \right)$ នាំឱ្យ $\sum_{p=0}^n \left(\frac{1}{p!} \right) = e - I_n$

គេបាន $\lim_{n \rightarrow +\infty} \sum_{p=0}^n \left(\frac{1}{p!} \right) = \lim_{n \rightarrow +\infty} (e - I_n) = e$ ព្រោះ: $\lim_{n \rightarrow +\infty} I_n = 0$

ដូចនេះ: $\lim_{n \rightarrow +\infty} \left(1 + \frac{1}{1!} + \frac{1}{2!} + \frac{1}{3!} + \dots + \frac{1}{n!} \right) = e = 2.71828$

លំហាត់ទី៣១

គេឲ្យអនុគមន៍ $f(x) = \left(\frac{x}{1-x^2}\right)^n$ ដែល $n \in \mathbb{N}$ និង $x \neq \pm 1$ ។

ក/ចូរស្រាយថា $f'(x) = \frac{nx^{n-1}(1+x^2)}{(1-x^2)^{n+1}}$ ។

ខ/គេពិនិត្យ $I_n = \int_0^{\sqrt{2}-1} \frac{f(x).dx}{1+x^2}$ និង $J_n = \int_0^{\sqrt{2}-1} f'(x).dx$

ចូរស្រាយថា $I_{n-1} + 4I_{n+1} = \frac{J_n}{n}$ គ្រប់ $n \in \mathbb{N}$ ។

គ/បង្ហាញថា (I_n) ជាស្វ័យគុណចុះ រួចចំពោះគ្រប់ $n \geq 2$ ចូរស្រាយថា

$$\frac{1}{5(n+1)2^{n+1}} \leq I_n \leq \frac{1}{5(n-1)2^{n-1}} \quad \forall$$

ឃ/គណនាលីមីត $\lim_{n \rightarrow +\infty} (n 2^n I_n)$ ។

ដំណោះស្រាយ

ក/ស្រាយថា $f'(x) = \frac{nx^{n-1}(1+x^2)}{(1-x^2)^{n+1}}$

តាមរូបមន្ត $(u^n)' = nu'u^{n-1}$

គេបាន $f'(x) = n\left(\frac{x}{1-x^2}\right)' \left(\frac{x}{1-x^2}\right)^{n-1}$

$$= n \frac{1 - x^2 + 2x^2}{(1 - x^2)^2} \cdot \frac{x^{n-1}}{(1 - x^2)^{n-1}} = \frac{nx^{n-1}(1 + x^2)}{(1 - x^2)^{n+1}}$$

ដូចនេះ $f'(x) = \frac{nx^{n-1}(1 + x^2)}{(1 - x^2)^{n+1}}$ ។

ខ/ស្រាយថា $I_{n-1} + 4I_{n+1} = \frac{J_n}{n}$

គេបាន $I_n = \int_0^{\sqrt{2}-1} \frac{x^n dx}{(1 - x^2)^n (1 + x^2)}$ និង $J_n = \int_0^{\sqrt{2}-1} \frac{nx^{n-1}(1 + x^2)}{(1 - x^2)^{n+1}} \cdot dx$

$$I_{n-1} + 4I_{n+1} = \int_0^{\sqrt{2}-1} \left[\frac{x^{n-1}}{(1 - x^2)^{n-1} (1 + x^2)} + \frac{4x^{n+1}}{(1 - x^2)^{n+1} (1 + x^2)} \right] \cdot dx$$

$$= \int_0^{\sqrt{2}-1} \frac{x^{n-1}(1 - x^2)^2 + 4x^{n+1}}{(1 - x^2)^{n+1} (1 + x^2)} \cdot dx = \int_0^{\sqrt{2}-1} \frac{x^{n-1}(1 + x^2)^2}{(1 - x^2)^{n+1} (1 + x^2)} \cdot dx$$

$$= \int_0^{\sqrt{2}-1} \frac{x^{n-1}(1 + x^2)}{(1 - x^2)^{n+1}} \cdot dx = \frac{1}{n} \int_0^{\sqrt{2}-1} f'(x) \cdot dx = \frac{1}{n} \cdot J_n$$

ដូចនេះ $I_{n-1} + 4I_{n+1} = \frac{J_n}{n}$ ។

គ/បង្ហាញថា (I_n) ជាស្វ័តិចុះ

$$\text{គេមាន } I_n = \int_0^{\sqrt{2}-1} \frac{x^n dx}{(1-x^2)^n(1+x^2)}$$

$$\text{តាង } x = \tan \frac{\varphi}{2} \text{ នាំឲ្យ } d\varphi = \frac{2dx}{1+x^2} \text{ និង } \tan \varphi = \frac{2x}{1-x^2}$$

ចំពោះ $x = 0$ គេបាន $\tan \varphi = 0$ នោះ $\varphi = 0$

$$\text{ចំពោះ } x = \sqrt{2}-1 \text{ គេបាន } \tan \varphi = \frac{2(\sqrt{2}-1)}{1-(\sqrt{2}-1)^2} = 1 \text{ នោះ } \varphi = \frac{\pi}{4}$$

$$\text{គេបាន } I_n = \frac{1}{2^{n+1}} \int_0^{\frac{\pi}{4}} \tan^n \varphi \cdot d\varphi$$

ចំពោះ $\varphi \in [0, \frac{\pi}{4}]$ គេមាន $\tan^n \varphi \geq \tan^{n+1} \varphi$

$$\text{គេបាន } \frac{1}{2^{n+1}} \tan^n \varphi \geq \frac{1}{2^{n+1}} \tan^{n+1} \varphi \geq \frac{1}{2^{n+2}} \tan^{n+1} \varphi$$

$$\text{នោះ } \frac{1}{2^{n+1}} \int_0^{\frac{\pi}{4}} \tan^n \varphi \cdot d\varphi \geq \frac{1}{2^{n+2}} \int_0^{\frac{\pi}{4}} \tan^{n+1} \varphi \cdot d\varphi \text{ ឬ } I_n \geq I_{n+1} \text{ ដូចនេះ}$$

(I_n) ជាស្វ័តិចុះ ។

បង្ហាញថា ៖
$$\frac{1}{5(n+1)2^{n+1}} \leq I_n \leq \frac{1}{5(n-1)2^{n-1}}$$

គេមាន
$$I_{n-1} + 4I_{n+1} = \frac{J_n}{n}$$

ហើយ
$$J_n = \int_0^{\sqrt{2}-1} f'(x) \cdot dx = [f(x)]_0^{\sqrt{2}-1} = \left[\left(\frac{x}{1-x^2} \right)^n \right]_0^{\sqrt{2}-1} = \frac{1}{2^n}$$

គេបាន
$$I_{n-1} + 4I_{n+1} = \frac{1}{n \cdot 2^n} \quad \text{គ្រប់ } n \geq 2 \text{ ។}$$

ដោយ (I_n) ជាស្វ័យគុណ៖ នោះគេមាន $I_{n+2} \leq I_n$ ឬ $I_n + 4I_{n+2} \leq 5I_n$

តែ $I_{n-1} + 4I_{n+1} = \frac{1}{n \cdot 2^n}$ គេទាញ $I_n + 4I_{n+2} = \frac{1}{(n+1)2^{n+1}}$

ហេតុនេះ $5I_n \geq \frac{1}{(n+1)2^{n+1}}$ ឬ $I_n \geq \frac{1}{5(n+1) \cdot 2^{n+1}} \quad (1)$

ម្យ៉ាងទៀត $I_n \leq I_{n-2}$ ឬ $5I_n \leq I_{n-2} + 4I_n$ តែ $I_{n-2} + 4I_n = \frac{1}{(n-1)2^{n-1}}$

ហេតុនេះ $5I_n \leq \frac{1}{(n-1)2^{n-1}}$ ឬ $I_n \leq \frac{1}{5(n-1)2^{n-1}} \quad (2)$

តាម(1)និង(2)គេបាន
$$\frac{1}{5(n+1)2^{n+1}} \leq I_n \leq \frac{1}{5(n-1)2^{n-1}} \quad \text{។}$$

យ/គណនាលីមីត $\lim_{n \rightarrow +\infty} (n 2^n I_n) \div$

តាមសម្រាយខាងលើគេមាន $\frac{1}{5(n+1)2^{n+1}} \leq I_n \leq \frac{1}{5(n-1)2^{n-1}}$

គុណអង្គទាំងពីរនឹង $n \cdot 2^n$ គេបាន $\frac{n}{10(n+1)} \leq n 2^n I_n \leq \frac{1}{10(n-1)}$

ហេតុនេះ

$$\lim_{n \rightarrow \infty} \frac{n}{10(n+1)} \leq \lim_{n \rightarrow \infty} (n 2^n I_n) \leq \lim_{n \rightarrow \infty} \frac{1}{10(n-1)}$$

$$\frac{1}{10} \leq \lim_{n \rightarrow \infty} (n 2^n I_n) \leq \frac{1}{10}$$

ដូចនេះ $\lim_{n \rightarrow +\infty} (n 2^n I_n) = \frac{1}{10}$ ។

លំហាត់ទី៣២

គេឲ្យអាំងតេក្រាល $I_n = \int_1^e \frac{x^{-(2n+1)}}{1+x^2} \cdot dx ; n = 0, 1, 2, \dots, e = 2.71828$

ក/គណនា I_0

ខ/បង្ហាញថា $I_n + I_{n+1} = \frac{e^{2n+2} - 1}{2(n+1)e^{2n+2}}$

គ/គ្រប់ $x \geq 1$ ស្រាយថា $\frac{1}{2}x^{-2(n+1)} \leq \frac{x^{-2n}}{1+x^2} \leq \frac{1}{2}x^{-2n}$

ឃ/គណនាលីមីត $\lim_{n \rightarrow +\infty} I_n$ និង $\lim_{n \rightarrow +\infty} nI_n$ ។

ដំណោះស្រាយ

ក/គណនា I_0

$$\begin{aligned} \text{គេបាន } I_0 &= \int_1^e \frac{dx}{x(x^2+1)} = \int_1^e \left(\frac{1}{x} - \frac{x}{1+x^2} \right) \cdot dx \\ &= \left[\ln x - \frac{1}{2} \ln(1+x^2) \right]_1^e = \ln \frac{e\sqrt{2}}{\sqrt{1+e^2}} \end{aligned}$$

ដូចនេះ $I = \ln \frac{e\sqrt{2}}{1+e^2}$ ។

ខ/បង្ហាញថា $I_n + I_{n+1} = \frac{e^{2n+2} - 1}{2(n+1)e^{2n+2}}$

គេបាន $I_n + I_{n+1} = \int_1^e \frac{x^{-(2n+3)} + x^{-(2n+1)}}{1+x^2} \cdot dx$

$$= \int_1^e x^{-2n-3} \cdot dx = \left[-\frac{1}{2n+2} x^{-2n-2} \right]_1^e = \frac{1 - e^{-2n-2}}{2(n+1)}$$

ដូចនេះ $I_n + I_{n+1} = \frac{e^{2n+2} - 1}{2(n+1)e^{2n+2}}$ ។

គ/ ស្រាយថា $\frac{1}{2}x^{-2(n+1)} \leq \frac{x^{-2n}}{1+x^2} \leq \frac{1}{2}x^{-2n}$

គ្រប់ $x \geq 1$ គេមាន $x^{2n+2} \geq x^{2n}$

គេបាន $\frac{1}{x^{2n+2}} \leq \frac{1}{x^{2n}}$ ឬ $x^{-2(n+1)} \leq x^{-2n}$

$$\frac{1}{2}x^{-2(n+1)} \leq \frac{1}{2}x^{-2n}$$

$$\frac{1}{2}x^{-2n} + \frac{1}{2}x^{-2(n+1)} \leq x^{-2n}$$

$$\frac{1}{2}x^{-2(n+1)}(1+x^2) \leq x^{-2n}$$

គេទាញបាន $x^{-2(n+1)} \leq \frac{x^{-2n}}{1+x^2}$ (1)

ម្យ៉ាងទៀត $\forall x \geq 1: x^{2n} \geq x^{2n-2}$ ឬ $x^{-2n} \leq x^{-2n+2}$

គេទាញ $x^{-2n} \leq \frac{1}{2}x^{-2n+2} + \frac{1}{2}x^{-2n} = \frac{1}{2}x^{-2n}(1+x^2)$

នាំឲ្យ $\frac{1}{2}x^{-2n} \geq \frac{x^{-2n}}{1+x^2}$ (2)

តាម (1) និង (2) គេបាន $\frac{1}{2}x^{-2(n+1)} \leq \frac{x^{-2n}}{1+x^2} \leq \frac{1}{2}x^{-2n}$ គ្រប់ $x \geq 1$ ។

យ/គណនាលីមីត $\lim_{n \rightarrow \infty} I_n$ ៖

គេមាន $\frac{1}{2}x^{-2(n+1)} \leq \frac{x^{-2n}}{1+x^2} \leq \frac{1}{2}x^{-2n}$ គ្រប់ $x \geq 1$

គេបាន $\frac{1}{2}x^{-2n-3} \leq \frac{x^{-(2n+1)}}{1+x^2} \leq \frac{1}{2}x^{-2n-1}$

$$\frac{1}{2} \int_1^e x^{-2n-3} \cdot dx \leq \int_1^e \frac{x^{-(2n+1)}}{1+x^2} \cdot dx \leq \frac{1}{2} \int_1^e x^{-2n-1} \cdot dx$$

$$-\frac{1}{4(n+1)} [x^{-2n-2}]_1^e \leq I_n \leq -\frac{1}{4n} [x^{-2n}]_1^e$$

$$\frac{1-e^{-2n-2}}{4(n+1)} \leq I_n \leq \frac{1-e^{-2n}}{4n}$$

ដោយ $\lim_{n \rightarrow \infty} \frac{1-e^{-2n-2}}{4(n+1)} = \lim_{n \rightarrow \infty} \frac{1-e^{-2n}}{4n} = 0$ ។

ដូចនេះ $\lim_{n \rightarrow +\infty} I_n = 0$

ហើយម្យ៉ាងទៀត $\frac{n(1 - e^{-2n-2})}{4(n+1)} \leq nI_n \leq \frac{1 - e^{-2n}}{4}$

ដោយ $\lim_{n \rightarrow +\infty} \frac{n(1 - e^{-2n-2})}{4(n+1)} = \lim_{n \rightarrow +\infty} \frac{1 - e^{-2n}}{4} = \frac{1}{4}$

ដូចនេះ $\lim_{n \rightarrow +\infty} nI_n = \frac{1}{4}$ ។

លំហាត់ទី៣៣

គេឲ្យអនុគមន៍ f និង g កំណត់ដោយ ៖

$$f(x) = \arcsin(\sin x - \cos x)$$

$$g(x) = \ln(\sin x + \cos x + \sqrt{\sin 2x})$$

ក/គណនាដេរីវេនៃ $h(x) = f(x) - g(x)$ ។

$$ខ/ទាញរកអាំងតេក្រាល $I = \int_0^{\frac{\pi}{4}} \sqrt{\tan x} \cdot dx$ ។$$

ដំណោះស្រាយ

ក/គណនាដេរីវេនៃ $h(x) = f(x) - g(x)$

គេបាន $h'(x) = f'(x) - g'(x)$

$$\text{ដោយ } f'(x) = \frac{(\sin x - \cos x)'}{\sqrt{1 - (\sin x - \cos x)^2}} = \frac{\cos x + \sin x}{\sqrt{\sin 2x}}$$

$$\text{ហើយ } g'(x) = \frac{(\sin x + \cos x + \sqrt{\sin 2x})'}{\sin x + \cos x + \sqrt{\sin 2x}}$$

$$g'(x) = \frac{\cos x - \sin x + \frac{\cos 2x}{\sqrt{\sin 2x}}}{\sin x + \cos x + \sqrt{\sin 2x}}$$

$$\frac{(\cos x - \sin x) + \frac{(\cos x - \sin x)(\cos x + \sin x)}{\sqrt{\sin 2x}}}{\sin x + \cos x + \sqrt{\sin 2x}}$$

$$= \frac{\cos x - \sin x}{\sqrt{\sin 2x}}$$

គេបាន $h'(x) = \frac{\cos x + \sin x}{\sqrt{\sin 2x}} - \frac{\cos x - \sin x}{\sqrt{\sin 2x}} = \frac{2\sin x}{\sqrt{2\sin x \cos x}}$

ដូចនេះ $h'(x) = \sqrt{2} \cdot \sqrt{\tan x}$ ។

ខ/ទាញរកអាំងតេក្រាល $I = \int_0^{\frac{\pi}{4}} \sqrt{\tan x} \cdot dx$

គេបាន $I = \frac{1}{\sqrt{2}} \int_0^{\frac{\pi}{4}} \sqrt{2} \cdot \sqrt{\tan x} \cdot dx = \frac{1}{\sqrt{2}} \int_0^{\frac{\pi}{4}} h'(x) \cdot dx = \frac{1}{\sqrt{2}} [h(\frac{\pi}{4}) - h(0)]$

ដោយ $h(\frac{\pi}{4}) = f(\frac{\pi}{4}) - g(\frac{\pi}{4}) = \arcsin(0) - \ln(\sqrt{2} + 1) = -\ln(\sqrt{2} + 1)$

និង $h(0) = \arcsin(-1) - \ln(1) = -\frac{\pi}{2}$ ។

ដូចនេះ $I = \frac{\sqrt{2}}{2} [\frac{\pi}{2} - \ln(\sqrt{2} + 1)]$

លំហាត់ទី៣៤

គេឲ្យអាំងតេក្រាល $I_n = \int_0^{\frac{\pi}{4}} \tan^n x \sqrt{\tan x} \cdot dx, n = 0, 1, 2, \dots$ ។

ក/ស្រាយថា (I_n) ជាស្វ៊ីតចុះរួចគណនា I_0 ។

ខ/គណនា $I_n + I_{n+2}$ ជាអនុគមន៍នៃ n ។

គ/ស្រាយថា $\frac{1}{2n+3} \leq I_n \leq \frac{1}{2n-1}$ ។ រកលីមីត $\lim_{n \rightarrow \infty} I_n$ និង $\lim_{n \rightarrow \infty} (nI_n)$ ។

ដំណោះស្រាយ

ក/ស្រាយថា (I_n) ជាស្វ៊ីតចុះរួចគណនា I_0 ៖

គេមាន $\forall x \in [0, \frac{\pi}{4}] : \tan^{n+1} x \leq \tan^n x$

ឬ $\tan^{n+1} x \cdot \sqrt{\tan x} \leq \tan^n x \cdot \sqrt{\tan x}$

គេបាន $\int_0^{\frac{\pi}{4}} \tan^{n+1} x \sqrt{\tan x} \cdot dx \leq \int_0^{\frac{\pi}{4}} \tan^n x \sqrt{\tan x} \cdot dx$ ឬ $I_{n+1} \leq I_n$ ។

ដូចនេះ (I_n) ជាស្វ៊ីតចុះរួចគណនា ។

បើ $n = 0$ គេបាន $I_0 = \int_0^{\frac{\pi}{4}} \sqrt{\tan x} \cdot dx$

តាង $\sqrt{\tan x} = t$ នោះ: $dt = \frac{1 + \tan^2 x}{2\sqrt{\tan x}} \cdot dx = \frac{1 + t^4}{2t} \cdot dx$

នាំឱ្យ $dx = \frac{2t}{1+t^4} \cdot dt$ ហើយចំពោះ: $x \in [0, \frac{\pi}{4}]$ នោះ: $t \in [0, 1]$

គេបាន $I_0 = \int_0^1 \frac{2t^2}{1+t^4} \cdot dt = \int_0^1 \frac{(1+t^2) - (1-t^2)}{1+t^4} \cdot dt$
 $= \int_0^1 \frac{1+t^2}{1+t^4} dt - \int_0^1 \frac{1-t^2}{1+t^4} \cdot dt$

យក $A = \int_0^1 \frac{1+t^2}{1+t^4} \cdot dt = \int_0^1 \frac{1 + \frac{1}{t^2}}{t^2 + \frac{1}{t^2}} \cdot dt = \int_0^1 \frac{d(t - \frac{1}{t})}{(t - \frac{1}{t})^2 + 2}$
 $= \frac{1}{\sqrt{2}} \arctan\left(\frac{t^2 - 1}{t\sqrt{2}}\right) \Big|_0^1 = \frac{\pi}{2\sqrt{2}}$

យក $B = \int_0^1 \frac{1-t^2}{1+t^4} \cdot dt = \int_0^1 \frac{\frac{1}{t^2} - 1}{t^2 + \frac{1}{t^2}} \cdot dt = -\int_0^1 \frac{d(t + \frac{1}{t})}{(t + \frac{1}{t})^2 - 2}$

$B = -\frac{1}{2\sqrt{2}} \ln \frac{t^2 - t\sqrt{2} + 1}{t^2 + t\sqrt{2} + 1} \Big|_0^1$
 $= -\frac{1}{2\sqrt{2}} \ln\left(\frac{2 - \sqrt{2}}{2 + \sqrt{2}}\right) = \frac{1}{\sqrt{2}} \ln(\sqrt{2} + 1)$

ដូចនេះ $I_0 = \frac{\pi}{2\sqrt{2}} - \frac{1}{\sqrt{2}} \ln(\sqrt{2} + 1)$ ។

ខ/គណនា $I_n + I_{n+2}$ ជាអនុគមន៍នៃ n ៖

$$\begin{aligned} \text{គេបាន } I_n + I_{n+2} &= \int_0^{\frac{\pi}{4}} (\tan^n x + \tan^{n+2} x) \sqrt{\tan x} \cdot dx \\ &= \int_0^{\frac{\pi}{4}} \tan^{n+\frac{1}{2}} x \cdot (1 + \tan^2 x) \cdot dx \end{aligned}$$

តាង $t = \tan x \Rightarrow dt = (1 + \tan^2 x) \cdot dx$

ចំពោះ $x \in [0, \frac{\pi}{4}]$ នោះ $t \in [0, 1]$

$$\text{គេបាន } I_n + I_{n+2} = \int_0^1 t^{n+\frac{1}{2}} \cdot dt = \left[\frac{2}{2n+3} t^{n+\frac{3}{2}} \right]_0^1 = \frac{2}{2n+3}$$

ដូចនេះ $I_n + I_{n+2} = \frac{2}{2n+3}$ ។

គ/ស្រាយថា $\frac{1}{2n+3} \leq I_n \leq \frac{1}{2n-1}$ ៖

$$\text{គេមាន } I_n + I_{n+2} = \frac{2}{2n+3} \quad (1)$$

$$\text{គេបាន } I_{n-2} + I_n = \frac{2}{2n-1} \quad (2) \quad \text{គ្រប់ } n \geq 2 \quad \text{។}$$

ដោយ (I_n) ជាស្វ៊ីតចុះនោះ: $I_n + I_{n+2} \leq 2I_n \leq I_{n-2} + I_n$ (3)

តាម (1),(2) & (3) គេបាន $\frac{2}{2n+3} \leq 2I_n \leq \frac{2}{2n-1}$

ដូចនេះ: $\frac{1}{2n+3} \leq I_n \leq \frac{1}{2n-1}$ ។

យ/គណនាលីមីត $\lim_{n \rightarrow \infty} I_n$ និង $\lim_{n \rightarrow \infty} (nI_n)$

គេមាន $\frac{1}{2n+3} \leq I_n \leq \frac{1}{2n-1}$ នោះ: $\frac{n}{2n+3} \leq nI_n \leq \frac{n}{2n-1}$

ដូចនេះ: $\lim_{n \rightarrow \infty} I_n = 0$ និង $\lim_{n \rightarrow \infty} (nI_n) = \frac{1}{2}$ ។

លំហាត់ទី៣៥

គេឲ្យអាំងតេក្រាល ៖

$$I(\alpha) = \int_0^\alpha \left(\frac{2x+1}{\sqrt{x^2+x}} + \frac{2x+2}{\sqrt{x^2+2x}} + \dots + \frac{2x+n}{\sqrt{x^2+nx}} - \frac{2nx}{\sqrt{x^2+1}} \right) dx$$

ដែល $\alpha > 0$ ។

ក/គណនា $I(\alpha)$

ខ/គណនាលីមីត $\lim_{\alpha \rightarrow +\infty} I(\alpha)$ ។

ដំណោះស្រាយ

ក/គណនា $I(\alpha)$ ៖

$$\begin{aligned} \text{គេអាចសរសេរ } I(\alpha) &= \int_0^\alpha \sum_{k=1}^n \left(\frac{2x+k}{\sqrt{x^2+kx}} - \frac{2x}{\sqrt{x^2+1}} \right) dx \\ &= \sum_{k=1}^n \int_0^\alpha \left(\frac{2x+k}{\sqrt{x^2+kx}} - \frac{2x}{\sqrt{x^2+1}} \right) dx \\ &= \sum_{k=1}^n \left[2\sqrt{x^2+kx} - 2\sqrt{x^2+1} \right]_0^\alpha \end{aligned}$$

$$\text{ដូចនេះ } I(\alpha) = 2 \sum_{k=1}^n (\sqrt{\alpha^2+k\alpha} - \sqrt{\alpha^2+1} + 1) \quad \text{។}$$

ខ/គណនាលីមីត $\lim_{\alpha \rightarrow +\infty} I(\alpha) \text{ ៖}$

$$\begin{aligned} \text{គឺមាន } I(\alpha) &= 2 \sum_{k=1}^n (\sqrt{\alpha^2 + k\alpha} - \sqrt{\alpha^2 + 1} + 1) \\ &= 2 \sum_{k=1}^n \left[\frac{k\alpha - 1}{\sqrt{\alpha^2 + k\alpha} + \sqrt{\alpha^2 + 1}} + 1 \right] \\ &= 2 \sum_{k=1}^n \left[\frac{k - 1/\alpha}{\sqrt{1 + k/\alpha} + \sqrt{1 + 1/\alpha^2}} + 1 \right] \end{aligned}$$

ដូច្នេះ $\lim_{\alpha \rightarrow +\infty} I(\alpha) = 2 \sum_{k=1}^n \left(\frac{k}{2} + 1 \right) = \frac{n(n+5)}{2} \quad \uparrow$

លំហាត់ទី៣៦

គេឲ្យអាំងតេក្រាល $I = \int_0^1 \frac{x^n}{\sqrt{1-x^2}} dx$ ដែល $n = 0, 1, 2, \dots$ ។

ក/គណនា I_0 និង I_1 រួចស្រាយថា (I_n) ជាស្វ៊ីតចុះ ។

ខ/សរសេរទំនាក់ទំនងរវាង I_n និង I_{n+2} រួចគណនាលីមីត $\lim_{n \rightarrow +\infty} \frac{I_{n+2}}{I_n}$ ។

គ/គណនាផលគុណ $P_n = I_n \cdot I_{n+1}$ ជាអនុគមន៍នៃ n ។

ឃ/គណនា $\lim_{n \rightarrow +\infty} \frac{I_{n+1}}{I_n}$ រួចទាញថា $\lim_{n \rightarrow +\infty} (\sqrt{n} \cdot I_n) = \sqrt{\frac{\pi}{2}}$ ។

ង/រករូបមន្តសម្រាប់គណនា I_n ។

ច/គណនាលីមីត $\lim_{n \rightarrow +\infty} \left(\frac{2 \times 4 \times 6 \times \dots \times (2k)}{1 \times 3 \times 5 \times \dots \times (2k-1)} \right)^2 \times \frac{1}{2k+1}$ ។

ដំណោះស្រាយ

ក/គណនា I_0 និង I_1 រួចស្រាយថា (I_n) ជាស្វ៊ីតចុះ ៖

ចំពោះ $n = 0$ គេបាន ៖

$$I_0 = \int_0^1 \frac{dx}{\sqrt{1-x^2}} = [\text{Arcsin } x]_0^1 = \arcsin(1) - \arcsin(0) = \frac{\pi}{2}$$

ចំពោះ $n = 1$ គេបាន ៖

$$I_1 = \int_0^1 \frac{x}{\sqrt{1-x^2}} \cdot dx = -\frac{1}{2} \int_0^1 \frac{(1-x^2)'}{\sqrt{1-x^2}} \cdot dx = -\frac{1}{2} \left[2\sqrt{1-x^2} \right]_0^1 = 1$$

ដូចនេះ $I_0 = \frac{\pi}{2}$ និង $I_1 = 1$ ។

ខ/សរសេរទំនាក់ទំនងរវាង I_n និង I_{n+2} ៖

គេមាន $I_n = \int_0^1 \frac{x^n}{\sqrt{1-x^2}} \cdot dx$ នាំឱ្យ $I_{n+2} = \int_0^1 \frac{x^{n+2}}{\sqrt{1-x^2}} \cdot dx$

តាំង $\begin{cases} u = x^{n+1} \\ dv = \frac{x}{\sqrt{1-x^2}} \cdot dx \end{cases} \Rightarrow \begin{cases} du = (n+1)x^n \cdot dx \\ v = -\sqrt{1-x^2} \end{cases}$

$$I_{n+2} = \left[-x^{n+1} \sqrt{1-x^2} \right]_0^1 + (n+1) \int_0^1 x^n \sqrt{1-x^2} \cdot dx$$

$$I_{n+2} = (n+1) \int_0^1 \frac{x^n(1-x^2)}{\sqrt{1-x^2}} \cdot dx = (n+1) \int_0^1 \frac{x^n}{\sqrt{1-x^2}} \cdot dx - (n+1) \int_0^1 \frac{x^{n+2}}{\sqrt{1-x^2}} \cdot dx$$

$$I_{n+2} = (n+1)I_n - (n+1)I_{n+2} \quad \text{នាំឱ្យ} \quad I_{n+2} = \frac{n+1}{n+2} I_n \quad \text{។}$$

ដូចនេះ $I_{n+2} = \frac{n+1}{n+2} I_n$ ។

គណនាលីមីត $\lim_{n \rightarrow +\infty} \frac{I_{n+2}}{I_n} \text{ ៖}$

គេមាន $I_{n+2} = \frac{n+1}{n+2} I_n$ គេទាញ $\frac{I_{n+2}}{I_n} = \frac{n+1}{n+2}$

គេបាន $\lim_{n \rightarrow +\infty} \frac{I_{n+2}}{I_n} = \lim_{n \rightarrow +\infty} \frac{n+1}{n+2} = 1 \quad \text{។}$

គ/គណនាផលគុណ $P_n = I_n \cdot I_{n+1}$ ជាអនុគមន៍នៃ n ៖

គេមាន $P_n = I_n \cdot I_{n+1}$ នោះ $P_{n+1} = I_{n+1} \cdot I_{n+2}$ តែ $I_{n+2} = \frac{n+1}{n+2} I_n$

គេបាន $P_{n+1} = I_{n+1} \times \frac{n+1}{n+2} I_n = \frac{n+1}{n+2} P_n$ ឬ $\frac{P_{n+1}}{P_n} = \frac{n+1}{n+2}$

គេទាញ $\prod_{k=0}^{n-1} \frac{P_{k+1}}{P_k} = \prod_{k=0}^{n-1} \frac{k+1}{k+2}$ ឬ $\frac{P_n}{P_0} = \frac{1}{2} \times \frac{2}{3} \times \frac{3}{4} \times \dots \times \frac{n}{n+1} = \frac{1}{n+1}$

ដោយ $P_0 = I_0 \cdot I_1 = \frac{\pi}{2}$

ដូចនេះ $P_n = I_n I_{n+1} = \frac{\pi}{2} \cdot \frac{1}{n+1}$ ។

យ/គណនា $\lim_{n \rightarrow +\infty} \frac{I_{n+1}}{I_n}$ រួចទាញថា $\lim_{n \rightarrow +\infty} (\sqrt{n} \cdot I_n) = \sqrt{\frac{\pi}{2}} \text{ ៖}$

គេមាន (I_n) ជាស្វ័តចុះនោះ $I_{n+2} \leq I_{n+1} \leq I_n$

គេទាញ $\frac{I_{n+2}}{I_n} \leq \frac{I_{n+1}}{I_n} \leq 1$ ឬ $\frac{n+1}{n+2} \leq \frac{I_{n+1}}{I_n} \leq 1$ ដោយ $\lim_{n \rightarrow \infty} \frac{n+1}{n+2} = 1$

ដូចនេះ $\lim_{n \rightarrow +\infty} \frac{I_{n+1}}{I_n} = 1$ ។

ម្យ៉ាងទៀតគេមាន $P_n = I_n I_{n+1} = \frac{\pi}{2} \cdot \frac{1}{n+1}$

គេទាញ $n I_n^2 = \frac{\pi}{2} \cdot \frac{n}{n+1} \cdot \frac{I_n}{I_{n+1}}$ ឬ $\sqrt{n} I_n = \sqrt{\frac{\pi}{2}} \times \sqrt{\frac{n}{n+1}} \times \sqrt{\frac{I_n}{I_{n+1}}}$

គេបាន $\lim_{n \rightarrow \infty} \sqrt{n} I_n = \sqrt{\frac{\pi}{2}} \cdot \lim_{n \rightarrow \infty} \sqrt{\frac{n}{n+1}} \cdot \lim_{n \rightarrow \infty} \sqrt{\frac{I_n}{I_{n+1}}} = \sqrt{\frac{\pi}{2}}$

ដូចនេះ $\lim_{n \rightarrow +\infty} (\sqrt{n} \cdot I_n) = \sqrt{\frac{\pi}{2}}$ ។

ឯ/វករូបមន្តសម្រាប់គណនា I_n ៖

គេមាន $\frac{I_{n+2}}{I_n} = \frac{n+1}{n+2}$ គ្រប់ $n = 0, 1, 2, 3, \dots$

- ករណី $n = 2p$ (គូ)

គេបាន $\frac{I_{2p+2}}{I_{2p}} = \frac{2p+1}{2p+2}$ នាំឱ្យ $\prod_{p=0}^{k-1} \left(\frac{I_{2p+2}}{I_{2p}} \right) = \prod_{p=0}^{k-1} \left(\frac{2p+1}{2p+2} \right)$

ឬ $\frac{I_{2k}}{I_0} = \frac{1 \times 3 \times 5 \times \dots \times (2k-1)}{2 \times 4 \times 6 \times \dots \times (2k)}$ ដោយ $I_0 = \frac{\pi}{2}$

$$\text{ដូចនេះ } I_{2k} = \frac{1 \times 3 \times 5 \times \dots \times (2k-1)}{2 \times 4 \times 6 \times \dots \times (2k)} \times \frac{\pi}{2} \quad \text{។}$$

- ករណី $n = 2p - 1$ (សេស)

$$\text{គេបាន } \frac{I_{2p+1}}{I_{2p-1}} = \frac{2p}{2p+1} \quad \text{នាំឱ្យ } \prod_{p=1}^k \left(\frac{I_{2p+1}}{I_{2p-1}} \right) = \prod_{p=1}^k \left(\frac{2p}{2p+1} \right)$$

$$\text{ឬ } \frac{I_{2k+1}}{I_1} = \frac{2 \times 4 \times 6 \times \dots \times (2k)}{3 \times 5 \times 7 \times \dots \times (2k+1)} \quad \text{ដោយ } I_1 = 1$$

$$\text{ដូចនេះ } I_{2k+1} = \frac{2 \times 4 \times 6 \times \dots \times (2k)}{3 \times 5 \times 7 \times \dots \times (2k+1)} \quad \text{។}$$

$$\text{ច/គណនាលីមីត } \lim_{n \rightarrow +\infty} \left(\frac{2 \times 4 \times 6 \times \dots \times (2k)}{1 \times 3 \times 5 \times \dots \times (2k-1)} \right)^2 \times \frac{1}{2k+1}$$

$$\text{គេមាន } I_{2k+1} = \frac{2 \times 4 \times 6 \times \dots \times (2k)}{3 \times 5 \times 7 \times \dots \times (2k+1)} \quad (1)$$

$$\text{និង } I_{2k} = \frac{1 \times 3 \times 5 \times \dots \times (2k-1)}{2 \times 4 \times 6 \times \dots \times (2k)} \times \frac{\pi}{2} \quad (2)$$

$$\text{ចែក(1)និង(2)គេបាន } \frac{I_{2k+1}}{I_{2k}} = \left(\frac{2 \times 4 \times 6 \times \dots \times (2k)}{1 \times 3 \times 5 \times \dots \times (2k-1)} \right)^2 \times \frac{1}{2k+1} \times \frac{2}{\pi}$$

$$\text{គេទាញ } \left(\frac{2 \times 4 \times 6 \times \dots \times (2k)}{1 \times 3 \times 5 \times \dots \times (2k-1)} \right)^2 \times \frac{1}{2k+1} = \frac{\pi}{2} \cdot \frac{I_{2k+1}}{I_{2k}}$$

$$\lim_{k \rightarrow +\infty} \left(\frac{2 \times 4 \times 6 \times \dots \times (2k)}{1 \times 3 \times 5 \times \dots \times (2k-1)} \right)^2 \times \frac{1}{2k+1} = \frac{\pi}{2} \lim_{k \rightarrow +\infty} \frac{I_{2k+1}}{I_{2k}}$$

គេមាន (I_n) ជាស្វ័យគុណនោះ $I_{2k+2} \leq I_{2k+1} \leq I_{2k}$ គ្រប់ $k = 0, 1, 2, \dots$

គេបាន $\frac{I_{2k+2}}{I_{2k}} \leq \frac{I_{2k+1}}{I_{2k}} \leq 1$ ដោយ $\frac{I_{n+2}}{I_n} = \frac{n+1}{n+2}$ នោះ $\frac{I_{2k+2}}{I_{2k}} = \frac{2k+1}{2k+2}$

ហេតុនេះ $\frac{2k+1}{2k+2} \leq \frac{I_{2k+1}}{I_{2k}} \leq 1$ ដោយ $\lim_{k \rightarrow \infty} \frac{2k+1}{2k+2} = 1$ នោះ $\lim_{k \rightarrow \infty} \frac{I_{2k+1}}{I_{2k}} = 1$

ដូចនេះ $\lim_{k \rightarrow +\infty} \left(\frac{2 \times 4 \times 6 \times \dots \times (2k)}{1 \times 3 \times 5 \times \dots \times (2k-1)} \right)^2 \times \frac{1}{2k+1} = \frac{\pi}{2}$ ។

លំហាត់ទី៣៧

ចូរស្រាយបញ្ជាក់ថា ៖

$$\frac{\pi}{3\sqrt{3}} \leq \int_0^1 \frac{dx}{x^3 + x^2 + 1} \leq \frac{\pi}{4}$$

ដំណោះស្រាយ

ស្រាយបញ្ជាក់ថា ៖

$$\frac{\pi}{3\sqrt{3}} \leq \int_0^1 \frac{dx}{x^3 + x^2 + 1} \leq \frac{\pi}{4}$$

គ្រប់ $x \in [0,1]$ គេមាន $0 \leq x^3 \leq x^2 \leq x \leq 1$

គេទាញ $x^2 + 1 \leq x^3 + x^2 + 1 \leq x^2 + x + 1$

$$\frac{1}{x^2 + x + 1} \leq \frac{1}{x^3 + x^2 + 1} \leq \frac{1}{x^2 + 1}$$

$$\int_0^1 \frac{dx}{x^2 + x + 1} \leq \int_0^1 \frac{dx}{x^3 + x^2 + 1} \leq \int_0^1 \frac{dx}{x^2 + 1}$$

ដោយ $\int_0^1 \frac{dx}{x^2 + 1} = [\arctan x]_0^1 = \frac{\pi}{4}$

ហើយ $\int_0^1 \frac{dx}{x^2 + x + 1} = \int_0^1 \frac{d(x + \frac{1}{2})}{(x + \frac{1}{2})^2 + (\frac{\sqrt{3}}{2})^2}$

$$\begin{aligned} &= \frac{2}{\sqrt{3}} \left[\text{Arctan} \left(\frac{2x+1}{\sqrt{3}} \right) \right]_0^1 \\ &= \frac{2}{\sqrt{3}} \left(\frac{\pi}{3} - \frac{\pi}{6} \right) = \frac{\pi}{3\sqrt{3}} \end{aligned}$$

ដូចនេះ: $\frac{\pi}{3\sqrt{3}} \leq \int_0^1 \frac{dx}{x^3 + x^2 + 1} \leq \frac{\pi}{4}$ ។

លំហាត់ទី៣៨

ក/គ្រប់ចំនួនពិត $x \geq 0$ ចូរស្រាយថា $e^{-x^2} \leq \frac{1}{1+x^2}$

ខ/ទាញបង្ហាញថា $\int_0^{\sqrt{3}} e^{-x^2} \cdot dx \leq \frac{\pi}{3}$ ។

ដំណោះស្រាយ

ក/គ្រប់ចំនួនពិត $x \geq 0$ ស្រាយថា $e^{-x^2} \leq \frac{1}{1+x^2}$

តាងអនុគមន៍ f កំណត់គ្រប់ $x \geq 0$ ដោយ $f(x) = e^{x^2} - x^2 - 1$

គេបាន $f'(x) = 2x(e^{x^2} - 1) \geq 0$ គ្រប់ $x \geq 0$ នាំឲ្យ f ជាអនុគមន៍កើន

គេបាន $x \geq 0$ នាំឲ្យ $f(x) \geq f(0) = 0$

គេទាញ $e^{x^2} \geq 1 + x^2$ នាំឲ្យ $\frac{1}{e^{x^2}} = e^{-x^2} \leq \frac{1}{1+x^2}$

ដូចនេះគ្រប់ $x \geq 0$ គេមាន $e^{-x^2} \leq \frac{1}{1+x^2}$ ។

ខ/ទាញបង្ហាញថា $\int_0^{\sqrt{3}} e^{-x^2} \cdot dx \leq \frac{\pi}{3}$

តាមសម្រាយខាងលើគ្រប់ $x \geq 0$ គេមាន $e^{-x^2} \leq \frac{1}{1+x^2}$

គេបាន $\int_0^{\sqrt{3}} e^{-x^2} \cdot dx \leq \int_0^{\sqrt{3}} \frac{dx}{1+x^2}$

យក $I = \int_0^{\sqrt{3}} \frac{dx}{1+x^2}$ តាំង $x = \tan \varphi \Rightarrow dx = (1 + \tan^2 \varphi) \cdot d\varphi$

ចំពោះ $x = 0 \Rightarrow \varphi = 0$ និង $x = \sqrt{3} \Rightarrow \varphi = \frac{\pi}{3}$

គេបាន $I = \int_0^{\sqrt{3}} \frac{dx}{1+x^2} = \int_0^{\frac{\pi}{3}} \frac{(1 + \tan^2 \varphi) \cdot d\varphi}{1 + \tan^2 \varphi} = \int_0^{\frac{\pi}{3}} d\varphi = \frac{\pi}{3}$

ដូចនេះ $\int_0^{\sqrt{3}} e^{-x^2} \cdot dx \leq \frac{\pi}{3}$ ។

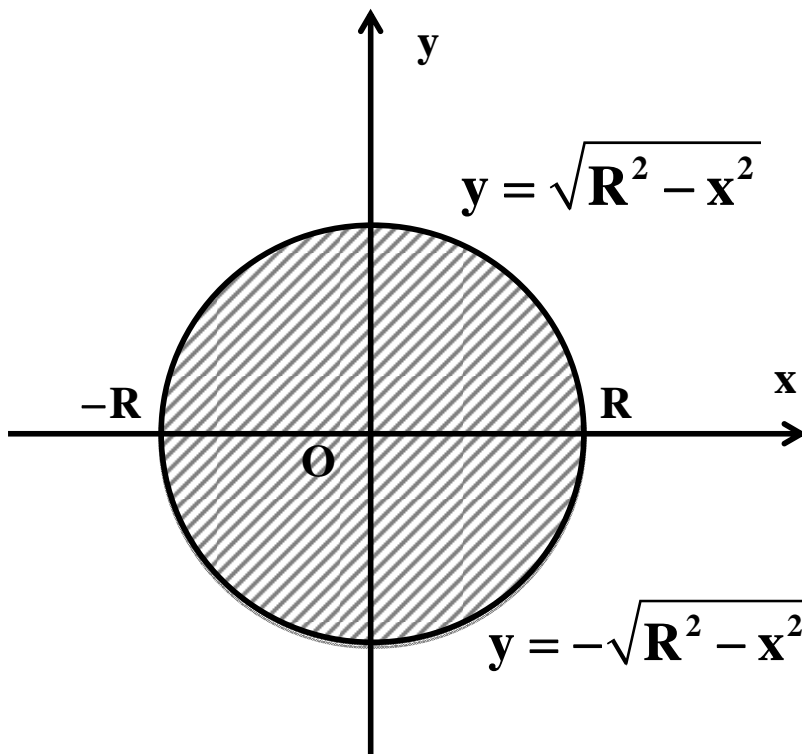
លំហាត់ទី៣៩

ស្រាយថាផ្ទៃក្រឡាបស់រង្វង់ដែលមានផ្ចិត O កាំរង្វាស់ R ស្មើនឹង

$$S = \pi R^2$$

ដំណោះស្រាយ

រង្វង់ផ្ចិត O កាំ R មានសមីការ $x^2 + y^2 = R^2 \Rightarrow \begin{cases} y = \sqrt{R^2 - x^2} \\ y = -\sqrt{R^2 - x^2} \end{cases}$



ផ្ទៃក្រឡារង្វង់កំណត់ដោយ $S = 2 \int_{-R}^R \sqrt{R^2 - x^2} \cdot dx$

តាង $x = R \sin t \Rightarrow dx = R \cos t \cdot dt$

ចំពោះ $x \in [-R, R] \Rightarrow t \in [-\frac{\pi}{2}, \frac{\pi}{2}]$

$$\text{គេបាន } S = 2 \int_{-\frac{\pi}{2}}^{\frac{\pi}{2}} \sqrt{R^2 - R^2 \sin^2 t} \cdot R \cos t \cdot dt$$

$$= 2 \int_{-\frac{\pi}{2}}^{\frac{\pi}{2}} R^2 \cos^2 t \cdot dt = 2R^2 \int_{-\frac{\pi}{2}}^{\frac{\pi}{2}} \frac{1 + \cos 2t}{2} \cdot dt$$

$$= R^2 \int_{-\frac{\pi}{2}}^{\frac{\pi}{2}} (1 + \cos 2t) \cdot dt = R^2 \left[t + \frac{1}{2} \sin 2t \right]_{-\frac{\pi}{2}}^{\frac{\pi}{2}}$$

$$= R^2 \left[\left(\frac{\pi}{2} + \frac{1}{2} \sin \pi \right) - \left(-\frac{\pi}{2} - \frac{1}{2} \sin \pi \right) \right] = \pi R^2$$

ដូចនេះរង្វង់ផ្ចិត O កាំរង្វាស់ R មានផ្ទៃក្រឡាស្មើនឹង $S = \pi R^2$ ។

លំហាត់ទី៤១

ចូររកក្រឡាផ្ទៃរបស់អេលីបដែលមានសមីការ $\frac{x^2}{a^2} + \frac{y^2}{b^2} = 1$ ។

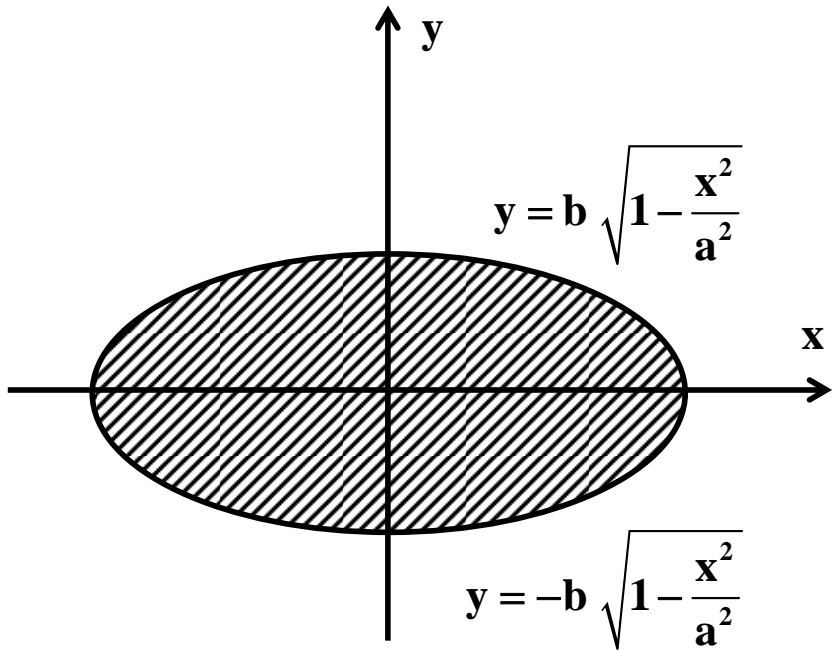
ដំណោះស្រាយ

គឺមាន $\frac{x^2}{a^2} + \frac{y^2}{b^2} = 1$

សមមូល $y = \pm b \sqrt{1 - \frac{x^2}{a^2}}$

ក្រឡាផ្ទៃរបស់អេលីបគឺ ៖

$$S = 2 \int_{-a}^a b \sqrt{1 - \frac{x^2}{a^2}} \cdot dx$$



តាង $x = a \sin t \Rightarrow dx = a \cos t \cdot dt$

ចំពោះ $x \in [-a, a]$ នោះ $t \in [-\frac{\pi}{2}, \frac{\pi}{2}]$

$$\text{គេបាន } S = 2b \int_{-\frac{\pi}{2}}^{\frac{\pi}{2}} \sqrt{1 - \sin^2 t} \cdot a \cos t \, dt = 2ab \int_{-\frac{\pi}{2}}^{\frac{\pi}{2}} \cos^2 t \, dt = \pi ab$$

ដូច្នេះ $S = \pi ab$ ។

លំហាត់ទី៤១

ចូរស្រាយថាកោណបរិវត្តន៍ដែលមានកាំថាសបាត r និង កម្ពស់ h

មានមាឌ $V = \frac{1}{3}\pi r^2 h$ ។

ដំណោះស្រាយ

មានរបស់កោណបានមកពីរង្វិល

ក្រឡាផ្ទៃខណ្ឌដោយបន្ទាត់

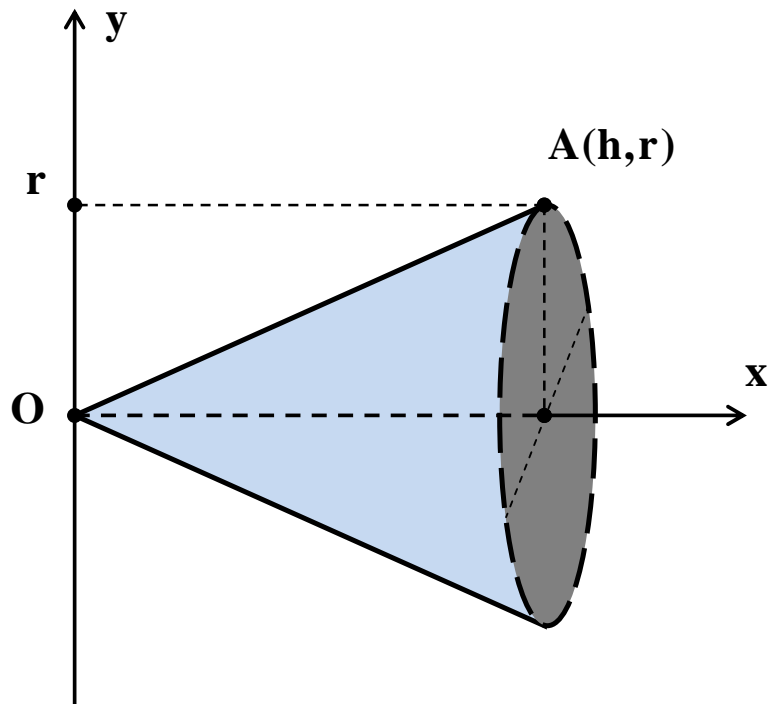
(OA) : $y = \frac{r}{h}x$ ជុំវិញអ័ក្ស (ox)

ក្នុងចន្លោះ : $[0, h]$ ។

គេបាន $V = \pi \int_0^h y^2 \cdot dx$

$$= \pi \int_0^h \frac{r^2}{h^2} x^2 \cdot dx = \frac{\pi r^2}{h^2} \left[\frac{x^3}{3} \right]_0^h = \frac{\pi r^2}{h^2} \left(\frac{h^3}{3} - 0 \right) = \frac{1}{3} \pi r^2 h$$

ដូចនេះ $V = \frac{1}{3}\pi r^2 h$ ។



លំហាត់ទី៤២

ក្នុងតម្រុយអរតូនរមេ $(\mathbf{o}, \vec{i}, \vec{j})$ គេឲ្យខ្សែកោង $(c): y = x^2$ ។

A និង B ជាពីរចំណុចនៃ (c) ដែល $AB = 2a$ ($a > 0$) ។

កំណត់កូអរដោនេនៃ A និង B ដើម្បីឲ្យផ្ទៃក្រឡាខណ្ឌដោយបន្ទាត់ (AB)

និងខ្សែកោង (c) មានតម្លៃអតិបរមា រួចកំណត់តម្លៃអតិបរមានោះ ។

ដំណោះស្រាយ

កំណត់កូអរដោនេនៃ A និង B ៖

តាង x_A និង x_B ជាអាប់ស៊ីសនៃ

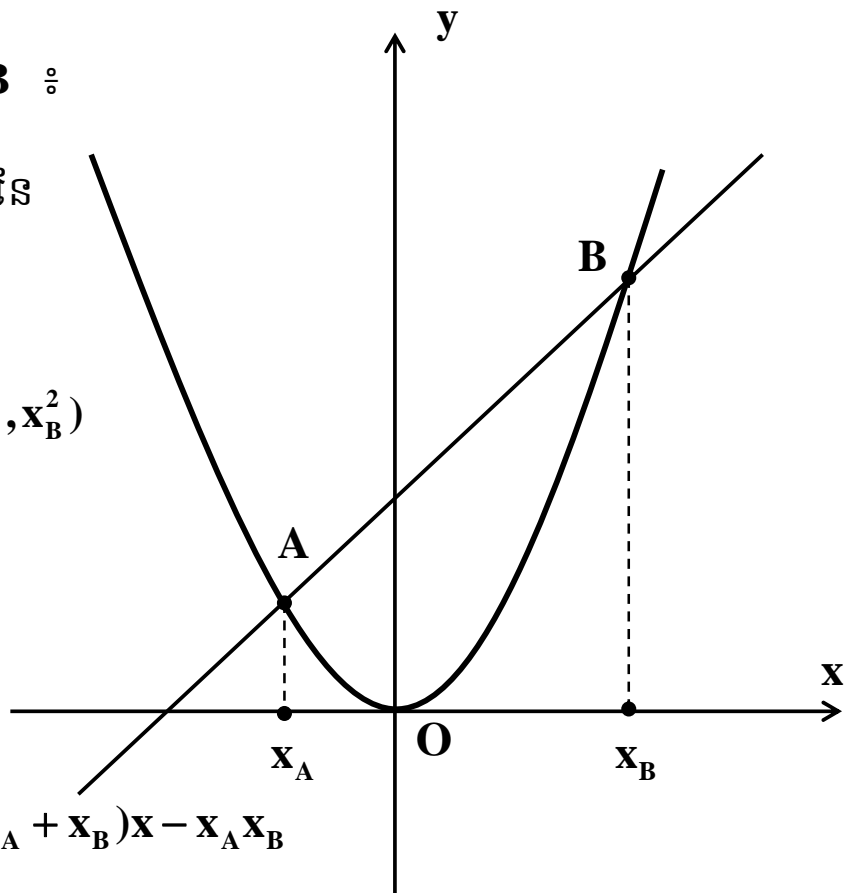
ចំណុច A និង B ។

គេបាន $A(x_A, x_A^2)$ និង $B(x_B, x_B^2)$

សមីការបន្ទាត់ (AB) គឺ ៖

$$\frac{y - y_A}{x - x_A} = \frac{y_B - y_A}{x_B - x_A}$$

$$\frac{y - x_A^2}{x - x_A} = \frac{x_B^2 - x_A^2}{x_B - x_A} \Rightarrow y = (x_A + x_B)x - x_A x_B$$



តាង S ជាផ្ទៃក្រឡាខណ្ឌដោយបន្ទាត់ (AB) និងខ្សែកោង x_A ។

$$\begin{aligned} \text{គេបាន } S &= \int_{x_A}^{x_B} [(x_A + x_B)x - x_A x_B - x^2]. dx \\ &= \left[\frac{1}{2}(x_A + x_B)x^2 - x_A x_B x - \frac{1}{3}x^3 \right]_{x_A}^{x_B} = \frac{1}{6}(x_B - x_A)^3 \quad (1) \end{aligned}$$

គេមាន $AB = 2a$ នោះ $AB^2 = 4a^2$

គេបាន $(x_B - x_A)^2 + (x_B^2 - x_A^2)^2 = 4a^2$

$$(x_B - x_A)^2 + (x_B - x_A)^2(x_B + x_A)^2 = 4a^2$$

គេទាញ $x_B - x_A = \frac{2a}{\sqrt{1 + (x_A + x_B)^2}} \quad (2)$

យក(2)ជំនួសក្នុង(1)គេបាន ៖

$$S = \frac{1}{6} \times \frac{8a^3}{\left[\sqrt{1 + (x_A + x_B)^2} \right]^3} = \frac{4a^3}{3} \cdot \frac{1}{\left[\sqrt{1 + (x_A + x_B)^2} \right]^3}$$

ដើម្បីឲ្យ S មានតម្លៃអតិបរមាលុះត្រាតែ $1 + (x_A + x_B)^2$ អប្បបរមា

គេទាញបាន $(x_A + x_B)^2 = 0$ នោះ $x_A = -x_B$

តាម(2)គេទាញបាន $2x_B = 2a$ នោះ $x_B = a$ ហើយ $x_A = -a$

ដូចនេះ $A(-a, a^2)$ និង $B(a, a^2)$ និង $S_{\max} = \frac{4a^3}{3}$ ។

លំហាត់ទី៤៣

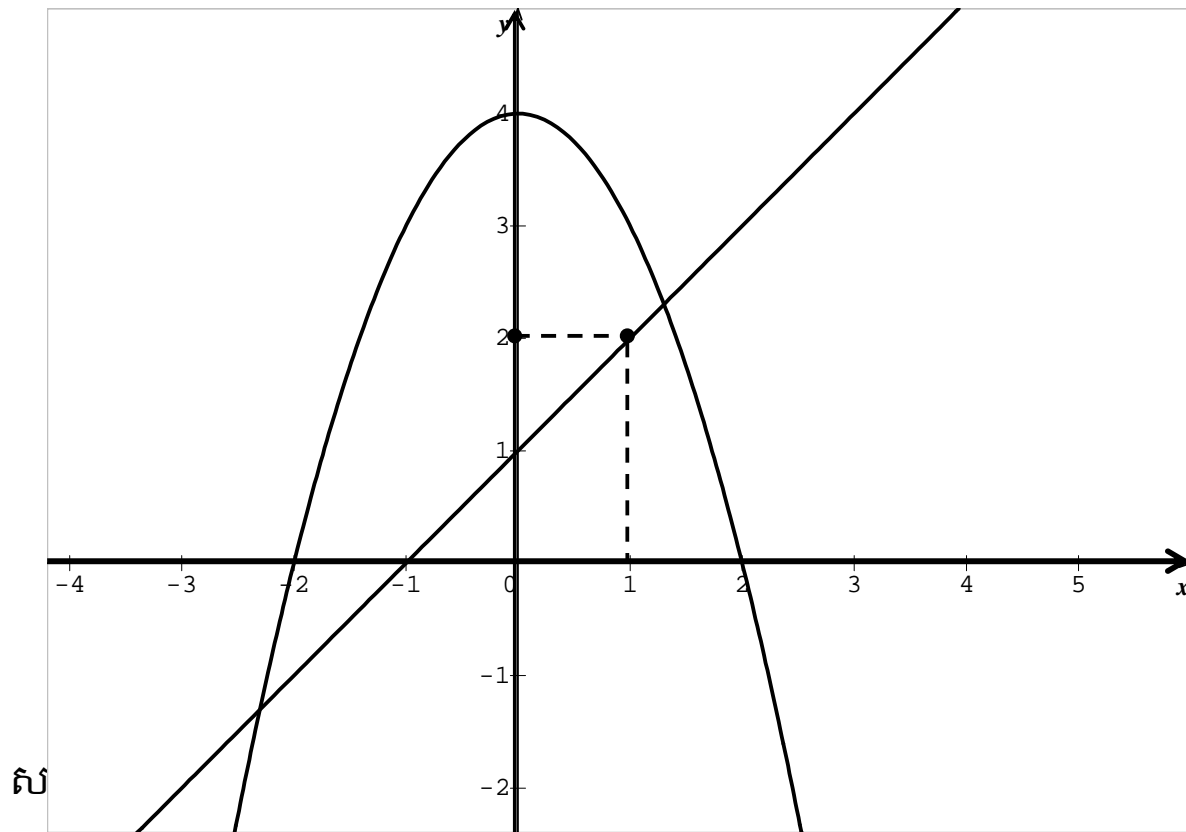
ក្នុងតម្រុយអរតូនរមេ $(\mathbf{o}, \vec{i}, \vec{j})$ គេឲ្យខ្សែកោង (c): $y = 4 - x^2$

និងបន្ទាត់ (D) មានមេគុណប្រាប់ទិស m វិលជុំវិញចំណុច $A(1,2)$ ។

កំណត់តម្លៃ m ដើម្បីឲ្យផ្ទៃក្រឡាខណ្ឌដោយខ្សែកោង (c) និងបន្ទាត់ (d)

មានតម្លៃអប្បបរមា រួចកំណត់តម្លៃអប្បបរមានោះ ។

ដំណោះស្រាយ



សមីការអាប៉ស៊ីសចំណុចប្រសព្វរវាងខ្សែកោង (c) និងបន្ទាត់ (d) ៖

$$mx - m + 2 = 4 - x^2 \quad \text{ឬ} \quad x^2 + mx - m - 2 = 0 \quad (E)$$

$$\text{ឌីសគ្រីមីណង់} \quad \Delta = m^2 + 4m + 8 = (m + 2)^2 + 4 > 0 \quad \forall m \in \mathbb{R}$$

នោះសមីការ (E) មានឫសពីរជានិច្ច ។ ហេតុនេះបន្ទាត់ (d) កាត់ (c) បាន

$$\text{ពីរចំណុច } A \text{ និង } B \text{ ដែល } x_A + x_B = -m \quad (1); \quad x_A x_B = -m - 2 \quad (2)$$

តាង S ជាផ្ទៃក្រលាខណ្ឌដោយ (d) និង (c) ។

$$\begin{aligned} S &= \int_{x_A}^{x_B} [(4 - x^2) - (mx - m + 2)] \cdot dx \\ &= \int_{x_A}^{x_B} (-x^2 - mx + m + 2) \cdot dx = \left[-\frac{1}{3}x^3 - \frac{1}{2}mx^2 + (m+2)x \right]_{x_A}^{x_B} \\ &= -\frac{1}{3}(x_B^3 - x_A^3) - \frac{1}{2}m(x_B^2 - x_A^2) + (m+2)(x_B - x_A) \\ &= -\frac{1}{6}(x_B - x_A)[2(x_A^2 + x_A x_B + x_B^2) + 3m(x_A + x_B) - 6m - 12] \\ &= -\frac{1}{6}(x_B - x_A)[2(x_A + x_B)^2 - 2x_A x_B + 3m(x_A + x_B) - 6m - 12] \quad (3) \end{aligned}$$

យក (1) និង (2) ជួសក្នុង (3) គេបាន ៖

$$S = -\frac{1}{6}(x_B - x_A)[2m^2 + 2m + 4 - 3m^2 - 6m - 12]$$

$$\begin{aligned} &= -\frac{1}{6}\sqrt{(\mathbf{x}_A + \mathbf{x}_B)^2 - 4\mathbf{x}_A\mathbf{x}_B} (-m^2 - 4m - 8) \\ &= \frac{1}{6}\sqrt{m^2 + 4m + 8} \cdot (m^2 + 4m + 8) = \frac{1}{6}\left[\sqrt{(m+2)^2 + 4}\right] \end{aligned}$$

ដើម្បីឲ្យ S មានតម្លៃអប្បបរមាលុះត្រាតែ $(m+2)^2 = 0$ នោះ $m = -2$

ហើយផ្ទៃក្រឡាអប្បបរមានោះគឺ $S_{\min} = \frac{1}{3}$ ។

លំហាត់ទី៤៤

គេឲ្យ $I(t) = \int_0^t \frac{3 \cdot dx}{4x^2 + 5x + 1}$ ដែល $t > 0$

ក/កំណត់ a និង b ដើម្បីឲ្យ $\frac{3}{4x^2 + 5x + 1} = \frac{a}{x+1} + \frac{b}{4x+1}$

ខ/គណនា $I(t)$ ជាអនុគមន៍នៃ t រួចទាញរក $\lim_{t \rightarrow +\infty} I(t)$ ។

ដំណោះស្រាយ

ក/កំណត់ a និង b ៖

$$\begin{aligned} \frac{3}{4x^2 + 5x + 1} &= \frac{a}{x+1} + \frac{b}{4x+1} \\ \frac{3}{4x^2 + 5x + 1} &= \frac{a(4x+1) + b(x+1)}{(x+1)(4x+1)} \\ \frac{3}{4x^2 + 5x + 1} &= \frac{(4a+b)x + (a+b)}{4x^2 + 5x + 1} \end{aligned}$$

គេទាញបាន $\begin{cases} a+b=3 \\ 4a+b=0 \end{cases}$ នាំឲ្យ $a = -1, b = 4$ ។

ដូចនេះ $a = -1, b = 4$ ។

ខ/គណនា $I(t)$ ជាអនុគមន៍នៃ t ៖

ចំពោះ $a = -1$, $b = 4$ គេបាន $\frac{3}{4x^2 + 5x + 1} = \frac{4}{4x + 1} - \frac{1}{x + 1}$

យើងបាន $I(t) = \int_0^t \left(\frac{4}{4x + 1} - \frac{1}{x + 1} \right) dx$

$$= [\ln |4x + 1| - \ln |x + 1|]_0^t$$

$$= \left[\ln \left| \frac{4x + 1}{x + 1} \right| \right]_0^t = \ln \left(\frac{4t + 1}{t + 1} \right)$$

ដូចនេះ $I = \ln \left(\frac{4t + 1}{t + 1} \right)$ ។

គណនាលីមីត $\lim_{t \rightarrow +\infty} I(t)$ ៖

គេបាន $\lim_{t \rightarrow +\infty} I(t) = \lim_{t \rightarrow +\infty} \ln \left(\frac{4t + 1}{t + 1} \right)$ ដោយ $\lim_{t \rightarrow +\infty} \frac{4t + 1}{t + 1} = 4$

ដូចនេះ $\lim_{t \rightarrow +\infty} I(t) = \lim_{t \rightarrow +\infty} \ln \left(\frac{4t + 1}{t + 1} \right) = \ln 4$ ។

លំហាត់ទី៤៥

គេដឹងថា $\{a_n\}$ ជាស្វ៊ីតកំណត់ដោយ $a_n = \int_0^{\frac{1}{n}} x \cos^2 x \cdot dx ; (n = 1, 2, 3, \dots)$

ចូររកតម្លៃ $\lim_{n \rightarrow +\infty} (n^2 a_n)$ ។

(ប្រឡងអាហារូបករណ៍ទៅប្រទេសចិនថ្នាក់ឧត្តមឆ្នាំ ២០០៧)

ដំណោះស្រាយ

រកតម្លៃ $\lim_{n \rightarrow +\infty} (n^2 a_n) \div$

គេមាន $a_n = \int_0^{\frac{1}{n}} x \cos^2 x \cdot dx$ ដោយ $\cos^2 x = \frac{1 + \cos 2x}{2}$

គេបាន $a_n = \frac{1}{2} \int_0^{\frac{1}{n}} x(1 + \cos 2x) \cdot dx$

តាំង $\begin{cases} u = x \\ dv = 1 + \cos 2x \end{cases} \Rightarrow \begin{cases} du = dx \\ v = x + \frac{1}{2} \sin 2x \end{cases}$

$a_n = \frac{1}{2} \left[x(x + \frac{1}{2} \sin 2x) \right]_0^{\frac{1}{n}} - \frac{1}{2} \int_0^{\frac{1}{n}} (x + \frac{1}{2} \sin 2x) \cdot dx$

$$\begin{aligned}
 &= \frac{1}{2} \left(\frac{1}{n^2} + \frac{1}{2n} \sin \frac{2}{n} \right) - \frac{1}{2} \left[\frac{x^2}{2} - \frac{1}{4} \cos 2x \right]_0^{\frac{1}{n}} \\
 &= \frac{1}{2} \left(\frac{1}{n^2} + \frac{1}{2n} \sin \frac{2}{n} \right) - \frac{1}{2} \left[\left(\frac{1}{2n^2} - \frac{1}{4} \cos \frac{2}{n} \right) - \left(-\frac{1}{4} \right) \right] \\
 &= \frac{1}{2n^2} + \frac{1}{4n} \sin \frac{2}{n} - \frac{1}{4n^2} + \frac{1}{8} \cos \frac{2}{n} - \frac{1}{8} \\
 &= \frac{1}{4n^2} + \frac{1}{4n} \sin \frac{2}{n} - \frac{1}{4} \sin^2 \frac{1}{n}
 \end{aligned}$$

គេបាន $\lim_{n \rightarrow +\infty} (n^2 a_n) = \lim_{n \rightarrow +\infty} \left(\frac{1}{4} + \frac{n}{4} \sin \frac{2}{n} - \frac{n^2}{4} \sin^2 \frac{1}{n} \right)$

តាង $u = \frac{1}{n}$ ហើយកាលណា $n \rightarrow +\infty$ នោះ $u \rightarrow 0$

$$\begin{aligned}
 \text{គេបាន } \lim_{n \rightarrow +\infty} (n^2 a_n) &= \lim_{u \rightarrow 0} \left(\frac{1}{4} + \frac{1}{4u} \sin 2u - \frac{1}{4u^2} \sin^2 u \right) \\
 &= \lim_{u \rightarrow 0} \left(\frac{1}{4} + \frac{1}{2} \cdot \frac{\sin 2u}{2u} - \frac{1}{4} \cdot \frac{\sin^2 u}{u^2} \right) = \frac{1}{4} + \frac{1}{2} - \frac{1}{4} = \frac{1}{2}
 \end{aligned}$$

ដូចនេះ $\lim_{n \rightarrow +\infty} (n^2 a_n) = \frac{1}{2}$ ។

ជំពូកទី៧

លំហាត់អនុវត្ត

១-ក/ចូរស្រាយបញ្ជាក់ថា $\sin^6 x + \cos^6 x = \frac{5}{8} + \frac{3}{8}\cos 4x$

ខ/ទាញរក $I = \int_0^{\frac{\pi}{8}} (\sin^6 x + \cos^6 x).dx$ ។

២-ក/ចូរស្រាយថា $\frac{1}{1+e^x} = 1 - \frac{1}{1+e^x}$

ខ/គណនា $I = \int_0^{\ln 2} \frac{dx}{1+e^x}$

៣-គេឱ្យអាំងតេក្រាល $I = \int_0^{\frac{\pi}{4}} \frac{\sin x}{\sin x + \cos x}.dx$ និង $J = \int_0^{\frac{\pi}{2}} \frac{\cos x}{\sin x + \cos x}.dx$

ក/គណនា $I+J$ និង $I-J$ ។

ខ/ទាញរក I និង J

៤-គេឱ្យ $I = \int_0^{\frac{\pi}{2}} \sin^2 x.dx$ និង $J = \int_0^{\frac{\pi}{2}} \cos^2 x.dx$

ស្រាយថា $I=J$ រួចគណនា $I+J$ ហើយទាញរក I និង J ។

៥-គេឲ្យអាំងតេក្រាល $I = \int_0^1 \cos^n x \cdot dx$ ដែល $n = 0, 1, 2, \dots$ ។

ក/គណនា I_0 និង I_1 រួចស្រាយថា (I_n) ជាស្វ៊ីតចុះ ។

ខ/សរសេរទំនាក់ទំនងរវាង I_n និង I_{n+2} រួចគណនាលីមីត $\lim_{n \rightarrow +\infty} \frac{I_{n+2}}{I_n}$ ។

គ/គណនាផលគុណ $P_n = I_n \cdot I_{n+1}$ ជាអនុគមន៍នៃ n ។

ឃ/គណនា $\lim_{n \rightarrow +\infty} \frac{I_{n+1}}{I_n}$ រួចទាញថា $\lim_{n \rightarrow +\infty} (\sqrt{n} \cdot I_n) = \sqrt{\frac{\pi}{2}}$ ។

ង/រករូបមន្តសម្រាប់គណនា I_n ។

ច/គណនាលីមីត $\lim_{n \rightarrow +\infty} \left(\frac{2 \times 4 \times 6 \times \dots \times (2k)}{1 \times 3 \times 5 \times \dots \times (2k-1)} \right)^2 \times \frac{1}{2k+1}$ ។

៦-គណនា $I = \int_0^1 \frac{dx}{x^2 - x + 1}$ និង $J = \int_0^1 \frac{dx}{x^2 + x + 1}$

៧-ក/បង្ហាញថា $\frac{2x+1}{x^2(x+1)^2} = \frac{1}{x^2} - \frac{1}{(x+1)^2}$ គ្រប់ $x \neq 0, x \neq -1$ ។

ខ/គណនាអាំងតេក្រាល $I = \int_1^3 \frac{2x+1}{x^2(x+1)^2} \cdot dx$ ។

៨-ស្រាយបញ្ជាក់ថា $\int_0^{\alpha} x^3 f(x^2).dx = \frac{1}{2} \int_0^{\alpha^2} x f(x).dx$, $\alpha > 0$ ។

៩-ស្រាយបញ្ជាក់ថា $\int_0^{\frac{\pi}{2}} f(\sin x).dx = \int_0^{\frac{\pi}{2}} f(\cos x).dx$

១០-ស្រាយបញ្ជាក់ថាបើ f ជាអនុគមន៍សេសនោះគេបាន ៖

$$\int_a^b f(x).dx = \int_{-a}^{-b} f(x).dx \quad ។$$

១១-ក/ ឧបមាថា $t > 1$ ។ គណនា $I(t) = \int_1^t \frac{2x \ln x}{(1+x^2)^2}.dx$

ខ/គណនាលីមីត $\lim_{t \rightarrow +\infty} I(t)$ ។

១២-គណនាអាំងតេក្រាល $I = \int_0^1 \frac{dx}{x^4 + 1}$ ។

១៣-គេឲ្យអាំងតេក្រាល $I_n = \int_0^1 \frac{(2t)^n + (1-t^2)^n}{(1+t^2)^{n+1}}.dt$

ក/សរសេរទំនាក់ទំនងរវាង I_n និង I_{n+2} ។

ខ/ រករូបមន្តគណនា I_n ។

១៤-គេឲ្យអាំងតេក្រាល ៖

$$I_n = \int_{\frac{\pi}{6}}^{\frac{\pi}{3}} \frac{\sqrt[n]{\sin x}}{\sqrt[n]{\sin x} + \sqrt[n]{\cos x}}.dx \quad \text{និង} \quad J_n = \int_{\frac{\pi}{6}}^{\frac{\pi}{3}} \frac{\sqrt[n]{\cos x}}{\sqrt[n]{\sin x} + \sqrt[n]{\cos x}}.dx$$

ក/ស្រាយថា $I_n = J_n$ ។

ខ/គណនា $I_n + J_n$ រួចទាញរក I_n និង J_n ។

១៥-ក/ស្រាយថា $\int_0^a f(x).dx = \int_0^a f(a-x).dx$

ខ/អនុវត្តន៍ ៖ គណនា $I = \int_0^{\frac{\pi}{4}} \ln(1 + \tan x).dx$

១៦/គេឲ្យអាំងតេក្រាល $I_{2n+1} = \int_0^{\frac{\pi}{2}} \frac{\sin(2n+1)x}{\sin x}.dx$

គណនា $I_{2n+1} - I_{2n-1}$ រួចទាញរក I_{2n+1} ។

១៧/គណនាអាំងតេក្រាល $I_n = \int_0^{+\infty} x^n e^{-x}.dx$ ។

(ប្រឡងនៅសហរដ្ឋអាមេរិចឆ្នាំ 1998)

១៨-គេឱ្យ $I_n = \int_1^e (\ln x)^n \cdot dx$

ក/ស្រាយថា $I_n = e - nI_{n-1}$ ។

ខ/គណនា I_4 ។

១៩-គេឱ្យ $I_n = \int_0^{\frac{\pi}{2}} \sin^n x \cdot dx$

ក/រកទំនាក់ទំនងរបស់ I_n ។

ខ/ទាញរក I_4 និង I_5

២០-គេឱ្យអនុគមន៍ $f(x) = \frac{\ln x}{x^2}$, $x \geq 1$

ក/គណនា $\int f(x) \cdot dx$ ។

ខ/គេឱ្យ $a > 1$ ។ គណនា $I(a) = \int_1^a f(x) \cdot dx$ ។

គ/រក $\lim_{a \rightarrow +\infty} I(a)$ ។

២២-គណនាអាំងតេក្រាល $I = \int_0^{\frac{\pi}{3}} \frac{x \sin x}{\cos^2 x} .dx$ ។

២៣-គេអោយអាំងតេក្រាល $\int_0^{\frac{\pi}{2}} \sin^3 x \cos^{n-1} x , n \in \mathbb{N}^*$

ក/គណនា I_n ជាអនុគមន៍នៃ n ។

ខ/គេតាង $S_n = I_1 + I_2 + I_3 + \dots + I_n = \sum_{k=1}^n (I_k)$ ។

ចូរបង្ហាញថា $S_n = \frac{3}{2} - \frac{2n+3}{(n+1)(n+2)} , n \in \mathbb{N}$ ។

គ/គណនាលីមីត $\lim_{n \rightarrow +\infty} S_n$ ។

២៤-គេអោយអាំងតេក្រាល $I_n = \int_0^{\frac{\pi}{2}} \sin^2 x \cos^n x .dx , n \in \mathbb{N}$

ក/ស្រាយបញ្ជាក់ថា $(I_n)_{n \in \mathbb{N}}$ ជាស្វ៊ីតចុះ រួចគណនា I_0 និង I_1

ខ/ផ្ទៀងផ្ទាត់ថាចំពោះគ្រប់ $n \geq 2$ គេមាន $I_n = \frac{n-1}{n+2} .I_{n-2}$ ។

គ/គេតាង $P_n = I_n . I_{n-1}$ ដែល $n \geq 1$ ។

គណនា P_n ជាអនុគមន៍នៃ n រួចគណនាលីមីត $\lim_{n \rightarrow +\infty} (n^2 . P_n)$ ។

យ/គេតាង $S_n = P_1 + P_2 + P_3 + \dots + P_n = \sum_{k=1}^n (P_k)$ ។

បង្ហាញថា $S_n = \frac{\pi}{8} \cdot \frac{n(n+3)}{(n+1)(n+2)}$ រួចទាញរកលីមីត $\lim_{n \rightarrow +\infty} S_n$ ។

ង/គណនា $\Pi_n = S_1 \times S_2 \times S_3 \times \dots \times S_n$ ជាអនុគមន៍នៃ n ។

ច/គណនា I_{2n} និង I_{2n+1} ជាអនុគមន៍នៃ n ។

២៥-គេអោយអាំងតេក្រាល $I_n = \frac{1}{2n-1} \cdot \int_0^1 (x^2)^n \cdot dx, n \in \mathbb{N}$ ។

ក/គណនា I_n ជាអនុគមន៍នៃ n ។

ខ/គណនា $S_n = I_1 + I_2 + I_3 + \dots + I_n$ រួចទាញរកលីមីត $\lim_{n \rightarrow +\infty} S_n$

២៦-គេអោយអាំងតេក្រាល៖

$I_n = \int_{na}^{(n+1)a} \frac{dx}{\cos^2 x}$ និង $J_n = \int_a^{(n+1)a} \frac{dx}{\cos^2 x}, n \in \mathbb{N}, a > 0$ ។

ក/បង្ហាញថា $I_1 + I_2 + I_3 + \dots + I_n = J_n$ ។

ខ/គណនា I_n និង J_n ជាអនុគមន៍នៃ n ។

គ/ប្រើលទ្ធផលខាងលើចូរបង្រួមផលបូក៖

$S_n = \frac{1}{\cos a \cos 2a} + \frac{1}{\cos 2a \cos 3a} + \dots + \frac{1}{\cos(na) \cos(n+1)a}$ ។

២៧- គេអោយអាំងតេក្រាល៖

$$I_n = \int_0^{\frac{\pi}{2}} e^{-nx} \cos^2 x \cdot dx \quad \text{និង} \quad J_n = \int_0^{\frac{\pi}{2}} e^{-nx} \sin^2 x \cdot dx, n \in \mathbb{N} \quad ។$$

ក/គណនា $I_n + J_n$ និង $I_n - J_n$ ជាអនុគមន៍នៃ n ។

ខ/ទាញអោយបាននូវតំលៃ I_n និង J_n

២៨-គេអោយស្វ៊ីត $I_n = \int_{e^{-(n+1)\pi}}^{e^{-n\pi}} \cos(\ln x) \cdot dx, n \in \mathbb{N}$

ក/ស្រាយបញ្ជាក់ $(I_n)_{n \in \mathbb{N}}$ ជាស្វ៊ីតធរណីមាត្រ ។

ខ/សរសេរកន្សោម I_n ជាអនុគមន៍នៃ n ។

គ/គណនាផលបូក $S_n = I_0 + I_1 + I_2 + \dots + I_n$ រួចទាញរក $\lim_{n \rightarrow +\infty} S_n$ ។

២៩-គេអោយ f ជាអនុគមន៍ មានខួប p និងកំនត់លើ $[np, (n+1)p]$

ចំពោះគ្រប់ $n \in \mathbb{N}$ និង $a > 0, a \neq 1$ គេតាង

$$I_n = \int_{np}^{(n+1)p} a^x \cdot f(x) \cdot dx$$

ក/ស្រាយថា $(I_n)_{n \in \mathbb{N}}$ ជាស្វ៊ីតធរណីមាត្រ ។

ខ/សរសេរ I_n ជាអនុគមន៍នៃ n និង I_0 ។

គ/អនុវត្តន៍ ចូរគណនា $I_n = \int_{n\pi}^{(n+1)\pi} e^x \cdot \cos 2x \cdot dx$ ។

៣០-គេអោយអាំងតេក្រាល $I_n = \int_1^e \frac{x^{-(2n+1)}}{1+x^2} \cdot dx$, $n \in \mathbb{N}$, $e = 2,71828...$

ក/ចូរគណនាតួ I_0 ។

ខ/ចូរបង្ហាញថា: $I_{n+1} + I_n = \frac{e^{2n+2} - 1}{2(n+1) \cdot e^{2n+2}}$ ។

គ/ចូរស្រាយបញ្ជាក់វិសមភាព៖

$$\frac{1}{2}x^{-2(n+1)} \leq \frac{x^{-2n}}{1+x^2} \leq \frac{1}{2}x^{-2n}, \forall x \geq 1$$

ឃ/គណនាលីមីត $\lim_{n \rightarrow +\infty} I_n$ និង $\lim_{n \rightarrow +\infty} (nI_n)$ ។

៣១-គណនាអាំងតេក្រាល៖

$$I_n = \int_0^{\frac{\pi}{2}} \frac{dx}{1 + \tan^n x} \quad \text{និង} \quad J_n = \int_0^{\frac{\pi}{2}} \frac{dx}{1 + \cot^n x}$$

៣២-គេអោយស្វ័យគុណ $I_n = \int_0^1 \frac{t^n \cdot dx}{1+t^2}$ ($n \in \mathbb{N}$)

ក/ស្រាយថា (I_n) ជាស្វ័យគុណចុះ រួចគណនាតួ I_0 និង I_1 ។

ខ/សរសេរទំនាក់ទំនងរវាង I_n និង I_{n+2} ។

គ/ស្រាយបញ្ជាក់ថា $\frac{1}{2(n+1)} \leq I_n \leq \frac{1}{2(n-1)}$, $\forall n \geq 2$ ។

ឃ/គណនាលីមីត $\lim_{n \rightarrow +\infty} I_n$ និង $\lim_{n \rightarrow +\infty} nI_n$ ។

៣៣- គេអោយអាំងតេក្រាល:

$$I_n = \int_{e^n}^{e^{n+1}} \frac{\ln x}{x^2} \cdot dx \quad \forall n \in \mathbb{N}, e = 2,71828....$$

ក/ចូរបង្ហាញថា $I_n = \left(\frac{n}{e^n} - \frac{n+1}{e^{n+1}} \right) + \left(1 - \frac{1}{e} \right) \left(\frac{1}{e} \right)^n$

ខ/គណនា $\lim_{n \rightarrow +\infty} I_n$ ។

គ/គណនាផលបូក $S_n = \sum_{k=0}^n (I_k) = I_0 + I_1 + I_2 + \dots + I_n$ ។

ទាញបញ្ជាក់លីមីត $\lim_{n \rightarrow +\infty} S_n$ ។

៣៤- គេអោយអាំងតេក្រាល :

$$I_n = \lim_{\lambda \rightarrow +\infty} \left[\int_1^\lambda \frac{1}{(1+x)^2} \cdot \sqrt[n]{\frac{x-1}{x+1}} \cdot dx \right] \quad ។$$

ក/ចូរបង្ហាញថា $I_n = \frac{1}{2} \cdot \frac{n}{n+1}$ រួចទាញរក $\lim_{n \rightarrow +\infty} I_n$ ។

ខ/គណនា $P_n = \prod_{k=1}^n (I_k) = I_1 \cdot I_2 \cdot I_3 \dots I_n$ ជាអនុគមន៍នៃ n ។

៣៥-គេអោយស្វ៊ីត ៖

$$I_n = \int_0^e x^n \cdot dx, n \in \mathbb{N}, e = 2.71828... \quad 1$$

ក/គណនា I_n ជាអនុគមន៍នៃ n ។

$$ខ/គណនា $S_n = \frac{1}{I_0} + \frac{1}{I_1} + \frac{1}{I_2} + \dots + \frac{1}{I_n}$ ។$$

គ/ទាញបញ្ជាក់លីមីត $\lim_{n \rightarrow +\infty} S_n$ ។

៣៦-គេអោយស្វ៊ីតចំនួនពិត $(I_n), n \in \mathbb{N}$ ដោយ៖

$$I_n = \int_0^{\frac{\pi}{2}} \cos^n x \cos nx \cdot dx$$

ក/គណនាតួ I_0 និង I_1 ។

ខ/ស្រាយថា I_n ជាស្វ៊ីតធរណីមាត្រ រួចរក I_n ជាអនុគមន៍នៃ n ។

គ/គណនា $S_n = I_0 + I_1 + I_3 + \dots + I_n$ រួចគណនា $\lim_{n \rightarrow +\infty} S_n$ ។

៣៧-គេអោយអនុគមន៍:

$$y = f_n(x) = \int_{nx}^{(n+1)x} e^{-t^2} \cdot dx \quad \left(n \in \mathbb{IN} \quad e = 2.71828... \right)$$

ក/គណនាដេរីវេ $y' = f'_n(x)$

ខ/ចំពោះគ្រប់ $n \in \mathbb{IN}$ គេសន្មត $\Omega_n = f'_n(1)$ ។

ចូរគណនា $S_n = \Omega_1 + \Omega_2 + \Omega_3 + \dots + \Omega_n$ រួចទាញរក $\lim_{n \rightarrow +\infty} S_n$ ។

៣៨-គេអោយអនុគមន៍ f កំណត់លើ $[0, \pi]$ ។

ក/ចូរបង្ហាញថា: $\int_0^{\pi} x f(\sin x) \cdot dx = \pi \int_0^{\frac{\pi}{2}} f(\sin x) \cdot dx$ ។

ខ/អនុវត្តន៍គណនា $I = \int_0^{\pi} \frac{x \sin x}{\sqrt{1 + \sin^2 x}} \cdot dx$ ។

៣៩-គេអោយស្វ៊ីត $I_n = \int_0^1 \frac{x^n}{\sqrt{x^2 - x + 1}} \cdot dx$

ក/គណនាតួ I_0 និង I_1 ។

ខ/រកទំនាក់ទំនងរវាង I_n , I_{n+1} និង I_{n+2} ។

គ/អនុវត្តន៍: ចូរគណនា $k = \int_0^1 \frac{x^4}{\sqrt{x^2 - x + 1}} \cdot dx$ ។